

УТВЕРЖДАЮ
Первый заместитель Министра
сельского хозяйства
Российской Федерации



Д. Х. Хатуов

декабря 2019 г.

**ЭКЗАМЕНАЦИОННЫЕ БИЛЕТЫ
ДЛЯ ПРИЕМА ТЕОРЕТИЧЕСКОГО ЭКЗАМЕНА
ОРГАНАМИ ГОСТЕХНАДЗОРА
ПО ПРАВИЛАМ ДОРОЖНОГО ДВИЖЕНИЯ
НА ПРАВО УПРАВЛЕНИЯ
САМОХОДНЫМИ МАШИНАМИ**

Москва 2019

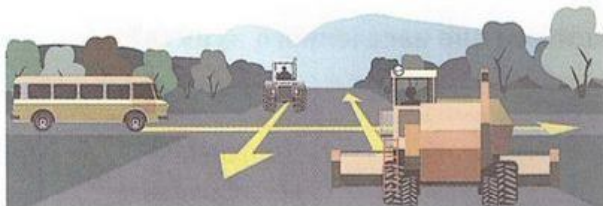
БИЛЕТ 1

1 При развороте должен ли водитель самоходной машины уступить дорогу автомобилю?



1. Должен.
2. Не должен.

2 Транспортные средства проедут перекресток в следующем порядке:



1. Автобус, трактор, комбайн.
2. Комбайн, автобус, трактор.
3. Комбайн, одновременно с ним трактор, автобус.

3 В каком месте должен остановиться водитель самоходной машины в случаях, когда движение через переезд запрещено?



1. Не ближе 5 м до ближайшего рельса.
2. Не ближе 10 м до ближайшего рельса.
3. Непосредственно перед железнодорожным переездом.

4 Что обозначает данная вертикальная разметка?



1. Край проезжей части.
2. Радиус поворота.
3. Боковые поверхности ограждений дорог на закруглениях малого радиуса, крутых спусках, других опасных участках.

5 По какой траектории водитель правильно выполнит разворот?



1. А.
2. В.
3. По любой.

БИЛЕТ 1

6 Что означают данные знаки?



1. Парковочное место для мотоциклов и автомобилей, на которых установлен опознавательный знак «Инвалид».
2. Парковочное место, кроме мотоциклов и автомобилей, на которых установлен опознавательный знак «Инвалид».

7 Должны ли Вы уступить дорогу пешеходам вне населенного пункта?



1. Должны.
2. Не должны.

8 Разрешено ли движение по данной полосе?




1. Разрешено.
2. Запрещено.

9 Какие виды административных наказаний могут применяться к водителям самоходных машин за нарушения правил эксплуатации или ПДД?

1. Предупреждение, штраф, конфискация орудия или предмета совершения административного правонарушения, лишение специального права, предоставленного физическому лицу, административный арест, обязательные работы.
2. Только предупреждение, штраф или лишение специального права (лишение права управления ТС), предоставленного физическому лицу
3. Только предупреждение или штраф.

10 В каких направлениях разрешено продолжить движение?



1. Во всех направлениях.
2. С и D.
3. По всем, кроме А.
4. Движение запрещено.

БИЛЕТ 1

11 Разрешена ли водителю самоходной машины стоянка в данном месте?




1. Разрешена.
2. Запрещена.

12 На каком расстоянии до пересечения дорог устанавливается этот знак вне населенного пункта?




1. 20 – 50 м.
2. 50 – 100 м.
3. 100 – 150 м.
4. 150 – 300 м.

13 Обязан ли водитель включать указатели поворота, выезжая с бензоколонки?



1. Обязан.
2. Не обязан.
3. По своему усмотрению.

14 Как Вы должны поступить в данной ситуации?




1. Снизить скорость перед пешеходным переходом.
2. Обязаны пропустить слепых пешеходов, подающих сигнал белой тростью.
3. Продолжить движение, так как горит зеленый – разрешающий сигнал светофора.

15 Чем необходимо руководствоваться, если значения временных дорожных знаков и линий горизонтальной разметки противоречат друг другу?

1. Требованиями линий горизонтальной разметки.
2. Требованиями временных дорожных знаков.
3. Правила эту ситуацию не регламентируют.

БИЛЕТ 1

- 16 Должен ли водитель трактора уступить дорогу трамваю, приближающемуся слева?




1. Должен.
2. Не должен.

- 17 Что означает желтый мигающий сигнал светофора?



1. Перекресток считается нерегулируемым.
2. Скоро включится красный сигнал светофора.
3. Скоро включится зеленый сигнал светофора.

- 18 Водитель какого транспортного средства должен проехать первым?



1. Водитель трактора.
2. Водитель грузового автомобиля.

- 19 Какое транспортное средство первым проедет перекресток?




1. Автомобиль.
2. Самоходная машина.

- 20 На какое время может быть наложен кровоостанавливающий жгут?

1. Не более получаса в холодное время года и не более одного часа в теплое время года.
2. Не более одного часа в холодное время года и не более получаса в теплое время года.
3. Время наложения жгута не ограничено.

БИЛЕТ 2

1 На каком рисунке изображен регулируемый перекресток?



A

B

C

1. А.
2. В.
3. С.
4. А и В.

2 Дает ли преимущество перед другими участниками движения включенный проблесковый маячок оранжевого или желтого цвета?



1. Дает.
2. Не дает.

3 Вы намерены проехать перекресток в прямом направлении.



1. Проедете перекресток первым.
2. Уступите дорогу трамваю.

4 Должен ли водитель самоходной машины уступить дорогу пешеходам при повороте налево?



1. Должен.
2. Не должен.

5 Какой знак устанавливается в начале дороги, по которой осуществляется движение по всей ширине проезжей части в одном направлении?



A

B

C

D

1. А.
2. В.
3. С.
4. D.

БИЛЕТ 2

- 6 Разрешено ли продолжение движения через железнодорожный переезд при открытом шлагбауме и запрещающем сигнале светофора?



1. Разрешено, если Вы убедились в отсутствии приближающегося поезда.
2. Запрещено.

- 7 Должен ли водитель трактора уступить дорогу грузовому автомобилю?

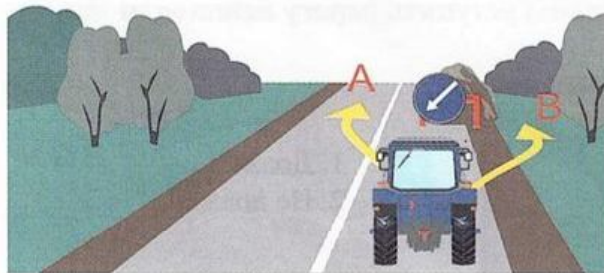


1. Должен.
2. Не должен.

- 8 В случае дорожно-транспортного происшествия вне населенных пунктов в темное время суток при нахождении на проезжей части или обочине водитель обязан:

1. Включить аварийную сигнализацию.
2. Выставить знак аварийной остановки.
3. Надеть куртку, жилет или жилет-накидку с полосами световозвращающего материала.
4. Выполнить все перечисленное.

- 9 По какой траектории водитель самоходной машины может объехать препятствие?



1. По траектории А.
2. По траектории В.
3. По любой.

10

Какой из знаков распространяет свое действие только на ту полосу, над которой он установлен?



А



Б



В

1. Только А.
2. Только Б.
3. Б и В.

БИЛЕТ 2

11 Какие знаки запрещают движение тракторов и самоходных машин?



A



B



C



D

1. A и B.
2. B и C.
3. C и D.
4. Все, кроме D.
5. Только C.

12 Разрешен ли разворот на участках дорог, обозначенных этим знаком?



1. Разворот разрешен только в населенных пунктах.
2. Разворот разрешен только при видимости дороги более 100 м.
3. Разворот запрещен.

13 Какое административное взыскание предусмотрено за непредоставление преимущества в движении транспортному средству, имеющему нанесенные на наружные поверхности специальные цветографические схемы с одновременно включенным проблесковым маячком синего цвета и специальным звуковым сигналом?


1. Административный штраф.
2. Лишение права управления транспортными средствами.
3. Возможно любое из перечисленных взысканий.

14 Разрешен ли Вам обгон в данной ситуации?



1. Да.
2. Да, если обгон будет завершен до перекрестка.
3. Нет.

15 Должны ли Вы уступить дорогу пешеходам, идущим к остановившемуся на остановке трамваю?



1. Должны.
2. Не должны.

БИЛЕТ 2

16 Правильно ли остановился водитель самоходной машины?




1. Правильно.
2. Неправильно.

17 Когда могут применяться звуковые сигналы при движении вне населенных пунктов?



1. Только для предупреждения других водителей об обгоне.
2. Для предотвращения дорожно-транспортного происшествия.
3. Верно, п.1, 2.

18 Нарушил ли водитель самоходной машины правила остановки?



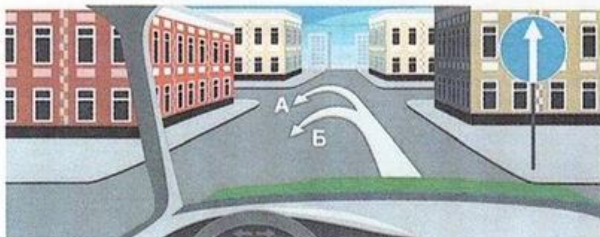
1. Нарушил.
2. Не нарушил.

19 Должны ли Вы уступить дорогу легковому автомобилю?



1. Должны.
2. Не должны.


20 По какой траектории Вы можете совершить разворот?



1. А.
2. Б.
3. А и Б.

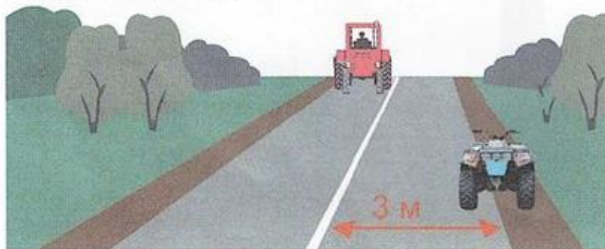
БИЛЕТ 3

1 На каких рисунках изображен перекресток?



1. На левом (а).
2. На правом (б).
3. На обоих.
4. Ни на одном.

2 Разрешено ли водителю внедорожного мототранспортного средства остановиться в данном месте?



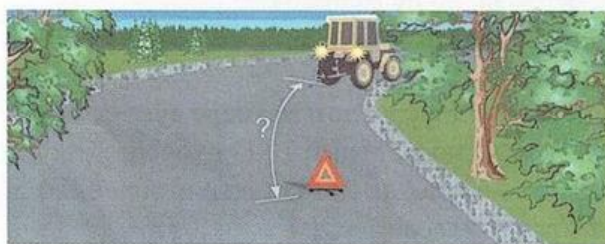
1. Разрешено.
2. Запрещено.

3 Разрешено ли водителю самоходной машины продолжить движение прямо?



1. Разрешено.
2. Запрещено.
3. Разрешено, если он обслуживает предприятия, находящиеся в обозначенной зоне, или граждан, проживающих в обозначенной зоне.

4 На каком расстоянии от неисправного транспортного средства водитель должен выставить знак аварийной остановки вне населенного пункта?



1. Не менее 15 м.
2. Не менее 30 м.
3. Не менее 40 м.
4. Не менее 50 м.

5 Включенный бело-лунный мигающий сигнал светофора на железнодорожном переезде:



1. Разрешает движение транспортных средств через переезд.
2. Разрешает движение после обязательной остановки у светофора.
3. Запрещает движение.

БИЛЕТ 3

6 Разрешено ли поставить самоходную машину на стоянку в данном месте?



1. Разрешено.
2. Запрещено.
3. Разрешено для самоходных машин, обслуживающих предприятия, находящиеся в обозначенной зоне.

7 Кто проедет перекресток первым?



1. Трактор.
2. Легковой автомобиль.

8 Что означает данный знак?



1. Остановка запрещена.
2. Стоянка запрещена.
3. Стоянка запрещена по четным числам месяца.
4. Стоянка запрещена по нечетным числам месяца.

9 Неуплата административного штрафа в срок влечет:

1. Наложение административного штрафа в двукратном размере суммы неуплаченного административного штрафа, но не менее 1000 рублей, либо административный арест на срок до пятнадцати суток, либо обязательные работы на срок до пятидесяти часов.
2. Наложение административного штрафа в двукратном размере суммы неуплаченного административного штрафа, но не менее 1000 рублей.
3. Наложение административного ареста на срок до пятнадцати суток, либо обязательные работы на срок до пятидесяти часов.

10 Разрешено ли водителю самоходной машины остановиться в данном месте?



1. Разрешено.
2. Запрещено.

БИЛЕТ 3

11 Что означает данная разметка?




1. На дороге три полосы для движения в одном направлении.
2. Границы полос движения, на которых осуществляется реверсивное регулирование.

12 На каком расстоянии должен устанавливаться повторный знак до начала опасного участка дороги вне населенного пункта?




1. Не менее 10 м.
2. Не менее 20 м.
3. Не менее 50 м.

13 Какие знаки означают выезд на дорогу с односторонним движением?



1. А.
2. В.
3. В и С.
4. С и D.

14 Должен ли водитель самоходной машины уступить дорогу трамваю?



1. Должен.
2. Не должен.


15 Аварийная сигнализация на буксируемом механическом транспортном средстве должна быть включена:



1. Только в условиях недостаточной видимости.
2. Только в темное время суток.
3. Во всех случаях, когда осуществляется буксировка.


БИЛЕТ 3

16 В каких направлениях разрешено продолжить движение?



1. В и D.
2. В, C, D.
3. В любых, кроме C.

17 Разрешено ли водителю самоходной машины продолжить движение по дороге, обозначенной данным знаком?



1. Разрешено.
2. Запрещено.
3. Разрешено в крайнем правом ряду.

18 Сколько проезжих частей имеет данная дорога?



1. Одну.
2. Две.
3. Четыре.

19 Обязаны ли Вы уступить дорогу автомобилю с включенным проблесковым маячком синего цвета и специальным звуковым сигналом?



1. Обязаны.
2. Не обязаны.

20 Разрешено ли пострадавшему при оказании первой помощи давать лекарственные средства?

1. Запрещено.
2. Разрешено в случае крайней необходимости.
3. Разрешено.


БИЛЕТ 4

1 Что означает этот знак?



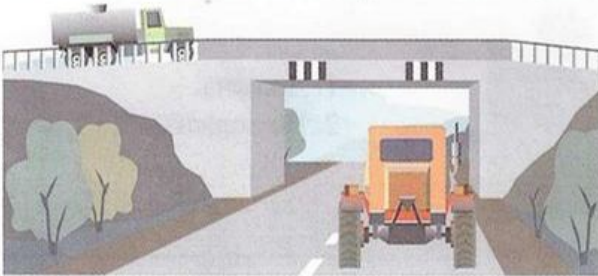
1. Место для разворота.
2. Зона для разворота - 15 м.
3. Зона, в которой разворот запрещен.

2 В каком месте Вы должны остановиться?



1. У знака «Движение без остановки запрещено».
2. За 5 м до ближайшего рельса.
3. За 10 м до ближайшего рельса.

3 Что обозначает данная вертикальная разметка?



1. Ограничение габаритной высоты транспортных средств.
2. Нижний край пролетного строения тоннелей, мостов и путепроводов.

4 Должен ли водитель самоходной машины при повороте налево уступить дорогу мотоциклу?



1. Должен.
2. Не должен.

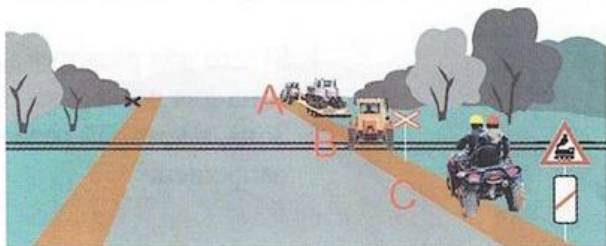
5 Разрешено ли водителю трактора с включенным проблесковым маячком оранжевого цвета совершить маневр в техническом разрыве разделительной полосы?



1. Разрешено.
2. Запрещено, так как любое движение по автомагистрали тракторам запрещено.
3. Разрешено при выполнении работ по строительству, ремонту или содержанию дорог при условии обеспечения безопасности дорожного движения.

БИЛЕТ 4

6 В каком месте запрещена остановка транспортных средств?



1. А.
2. В.
3. В и С.
4. Во всех местах.

7 На каком расстоянии до опасного участка дороги в населенном пункте устанавливаются эти знаки?




1. 15 – 20 м.
2. 50 – 100 м.
3. 100 – 150 м.
4. 150 – 300 м.

8 Должна ли самоходная машина уступить дорогу грузовому автомобилю?



1. Должна.
2. Не должна.

9 Разрешено ли Вам начать обгон идущего впереди транспортного средства в данной ситуации?



1. Разрешено.
2. Запрещено.

10 При каком сигнале светофора водителю разрешено закончить разворот?



1. При зеленом.
2. При красном.
3. При любом.

БИЛЕТ 4

11 Разрешена ли водителю самоходной машины остановка в данном месте?




1. Да.
2. Нет.

12 По какой траектории Вы можете продолжить движение?



1. Только А.
2. А и С.
3. А и В.
4. По любой.

13 Выезд со двора или с другой прилегающей территории считается:



1. Равнозначным перекрестком.
2. Неравнозначным перекрестком.
3. Не считается перекрестком.

14 Преимущество при движении имеет:



1. Легковой автомобиль.
2. Самоходная машина.

15 Что обязан контролировать водитель перед началом и во время перевозки грузов?

1. Размещение, крепление и состояние груза во избежание его падения.
2. То, что груз не создает помехи для движения.
3. Оба перечисленных требования.

БИЛЕТ 4

16 Разрешено ли совершить разворот в этом месте?




1. Разрешено.
2. Запрещено, так как пересекается сплошная линия.

17 Разрешена ли водителю самоходной машины стоянка в данном месте?




1. Разрешена.
2. Запрещена.

18 Кто имеет преимущество при движении?



1. Трамвай.
2. Трактор.

19 Должен ли водитель при движении по данному участку дороги включить левый указатель поворота?



1. Должен.
2. Не должен, так как сигнал введет в заблуждение других участников движения.

20 Разрешено ли движение задним ходом на перекрестке?

1. Разрешено.
2. Разрешено лишь при отсутствии попутных и встречных транспортных средств.
3. Запрещено.

БИЛЕТ 5

1 Количество полос для движения на проезжей части определяется:



1. Только разметкой.
2. Только соответствующими знаками.
3. Разметкой или знаками, а если их нет, то самими водителями.

2 Кто должен уступить дорогу при взаимном перестроении?



1. Водитель комбайна.
2. Водитель трактора.

3 Какие знаки устанавливают непосредственно перед железнодорожным переездом?



1. Только А.
2. Только Б.
3. Только В.
4. А, В.

4 Должны ли Вы уступить дорогу встречному грузовому автомобилю?



1. Да.
2. Нет.

5 Эта разметка обозначает:



1. Номер дороги или маршрута.
2. Рекомендуемую скорость движения на данной дороге.
3. Разрешенную максимальную скорость движения на данной дороге.

БИЛЕТ 5

6 Разрешено ли водителю самоходной машины развернуться на перекрестке?



1. Разрешено.
2. Запрещено.

7 Как должно быть обозначено транспортное средство при дорожно-транспортном происшествии?



1. Включить аварийную сигнализацию.
2. Выставить знак аварийной остановки.
3. Включить аварийную сигнализацию, а также выставить знак аварийной остановки.

8 Что должен предпринять водитель, покидая свое место и оставляя транспортное средство в этой ситуации?




1. Принять меры, исключающие самопроизвольное движение транспортного средства.
2. Принять меры, исключающие использование транспортного средства посторонними лицами в отсутствие водителя.
3. Верно, п. 1, 2.

9 Административная ответственность наступает в случае нарушения правил дорожного движения или правил эксплуатации транспортного средства:

1. Повлекшее причинение легкого вреда здоровью потерпевшего либо материального ущерба.
2. Повлекшее причинение легкого или средней тяжести вреда здоровью потерпевшего.
3. Повлекшее причинение средней тяжести вреда здоровью потерпевшего либо материального ущерба.


10 Каким должно быть расстояние между транспортными средствами при буксировке на жесткой сцепке?



1. Не более 4 м.
2. Не менее 4 м.
3. 4-6 м.

БИЛЕТ 5

11 Последним перекресток проедет:



1. Грузовой автомобиль.
2. Трактор.
3. Гужевая повозка.

12 Разрешен ли обгон трактора в данном месте?



1. Разрешен.
2. Запрещен.

13 Что означает поднятая вверх рука водителя?




1. Самоходная машина повернет направо.
2. Сигнал водителя о торможении.
3. Самоходная машина будет разворачиваться.

14 Какой знак означает дорогу с полосой для маршрутных транспортных средств?



1. А.
2. В.
3. В и С.
4. А и D.

15 В каком месте водителю транспортного средства разрешена остановка?



1. А (за перекрестком).
2. В (напротив бокового проезда).
3. С (перед перекрестком).
4. В любом.
5. А и В.

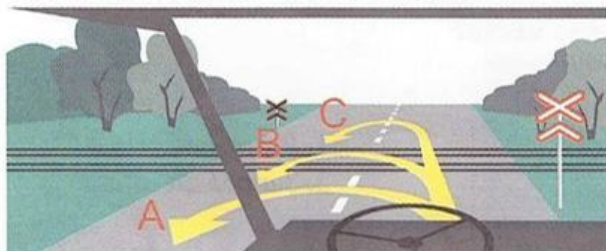
БИЛЕТ 5

16 Какое транспортное средство проедет перекресток вторым?



1. Легковой автомобиль.
2. Самоходная машина.
3. Комбайн.

17 В каком месте разрешен разворот?



1. А.
2. В.
3. С.
4. А и С.

18 В каких направлениях разрешено продолжить движение?



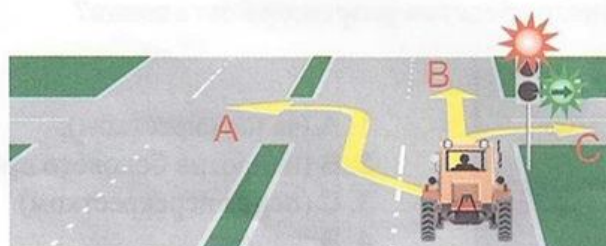
1. Во всех направлениях.
2. В и С.
3. Движение запрещено.
4. С.

19 Должен ли водитель транспортного средства подать сигнал поворота при выезде с поля на укатанную дорогу?



1. Должен.
2. Не должен.
3. На его усмотрение.

20 В каком направлении разрешено продолжить движение на перекрестке?




1. В любом.
2. В и С.
3. С.

1 Разрешается ли водителю пользоваться телефоном во время движения?

1. Разрешается.
2. Разрешается только при использовании технического устройства, позволяющего вести переговоры без использования рук.
3. Разрешается только при движении со скоростью менее 40 км/ч.
4. Запрещается.

2 Разрешено ли водителю транспортного средства продолжить движение в прямом направлении?



1. Разрешено.
2. Запрещено.
3. Разрешено при обслуживании предприятий в этой зоне.

3 В каких направлениях можно продолжить движение?



1. В любом.
2. С и D.
3. Во всех, кроме А.

4 Какие транспортные средства запрещается эксплуатировать без двух противооткатных упоров?

1. Тракторы.
2. Самоходные дорожно-строительные.
3. Самоходные сельскохозяйственные.
4. Прицепы и полуприцепы.
5. Любые из перечисленных.

5 Что означает данная комбинация знаков?



1. Указывает, что в зоне железнодорожного переезда осуществляется фиксация нарушений ПДД в автоматическом режиме.
2. Указывает, что в зоне железнодорожного переезда запрещаются фото и видеосъемка.

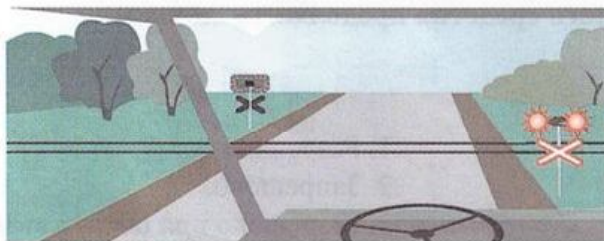
БИЛЕТ 6

6 Что означает данный знак, установленный вне населенного пункта?



1. Начало дороги с закруглением.
2. Через 50-100 м опасный поворот.
3. Через 150-300 м опасный поворот.

7 Разрешено ли продолжить движение через железнодорожный переезд?



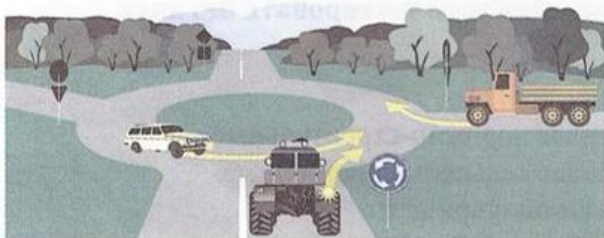
1. Разрешено при отсутствии приближающегося поезда.
2. Запрещено.

8 Что обозначает оранжевая линия разметки?



1. Границы полос в пределах перекрестка.
2. Временная линия разметки, обозначающая полосы движения в пределах перекрестка.
3. Границы полос на перекрестке, где разрешено перестроение.

9 Какое транспортное средство первым проедет перекресток?



1. Легковой автомобиль.
2. Трактор.
3. Грузовой автомобиль.

10 Имеет ли право водитель самоходной машины, включив указатели поворота, сразу начать движение?



1. Имеет, так как гужевая повозка движется медленнее трактора, а он включил указатель поворота.
2. Должен пропустить гужевую повозку, так как включение указателя поворота не дает преимущества перед другими участниками движения.

БИЛЕТ 6

11 В каком месте Вы должны остановиться перед перекрестком?



1. Перед знаком.
2. Перед краем пересекаемой проезжей части.

12 В каких случаях водителю разрешено выезжать на среднюю полосу движения?




1. При обгоне.
2. При объезде.
3. Для поворота налево или разворота.
4. Во всех перечисленных случаях.

13 Разрешено ли транспортному средству в данном месте выехать на поле?



1. Разрешено при отсутствии приближающегося поезда.
2. Запрещено.

14 Разрешено ли водителю самоходной машины остановиться на краю тротуара, граничащего с проезжей частью?



1. Разрешено.
2. Запрещено.
3. Разрешено, если не будет создано помех движению пешеходов.

15 Разрешено ли буксировать трактор с недействующей тормозной системой, если его масса превышает половину массы Вашего транспортного средства?



1. Разрешено.
2. Разрешено на жесткой сцепке при скорости не более 30 км/ч.
3. Запрещено.

БИЛЕТ 6

16 В какой последовательности проедут перекресток транспортные средства?




1. Трактор, затем грузовой автомобиль.
2. Трактор первым выезжает на перекресток, а после проезда грузового автомобиля заканчивает разворот.

17 Какое взыскание предусмотрено при движении транспортных средств по полосе для маршрутных транспортных средств или остановки на указанной полосе в нарушение Правил дорожного движения?

1. Административный штраф.
2. Лишение права управления транспортными средствами.
3. Возможно любое из перечисленных взысканий.

18 Разрешено ли проехать через железнодорожный переезд, если скорость движения транспортного средства менее 8 км/ч?



1. Разрешено.
2. Запрещено.
3. Разрешено только с разрешения начальника дистанции пути железной дороги.

19 Каким способом запрещена буксировка механических транспортных средств в гололед?

1. Методом частичной погрузки.
2. На гибкой сцепке.
3. На жесткой сцепке.


20 Нарушают ли пешеходы ПДД, двигаясь по проезжей части?



1. Нарушают.
2. Не нарушают.


БИЛЕТ 7

1 Как Вы должны поступить в данной ситуации?



1. Остановиться у стоп-линии, затем продолжить движение.
2. Продолжить движение без остановки.

2 Как должен поступить водитель трактора в данной ситуации?



1. Продолжить движение.
2. Снизить скорость, при необходимости остановиться и пропустить группу детей.

3 Разрешено ли водителю транспортного средства остановиться в данном месте?



1. Да.
2. Нет.

4 Разрешено ли Вам сквозное движение в обозначенной знаком зоне?



1. Разрешено.
2. Запрещено.


5 Разрешается ли Вам продолжить движение, если регулировщик поднял руку вверх после того, как Вы въехали на перекресток?



1. Запрещается.
2. Разрешается, только если Вы поворачиваете направо.
3. Разрешается.

БИЛЕТ 7

6 Требования каких знаков вступают в силу с места, где они установлены?




1. Только А.
2. Только Б.
3. Только В.
4. А и Б.

7 Что должен соблюдать водитель состава транспортных средств длиной более 7 м?



1. Ограничение скоростного режима.
2. Должен поддерживать между своим и движущимся впереди транспортным средством такую дистанцию, чтобы обгоняющие его транспортные средства могли без помех перестроиться на ранее занимаемую ими полосу.
3. Расположение транспортного средства на проезжей части.

8 Что обозначает разметка «А-100», нанесенная на проезжую часть дороги?

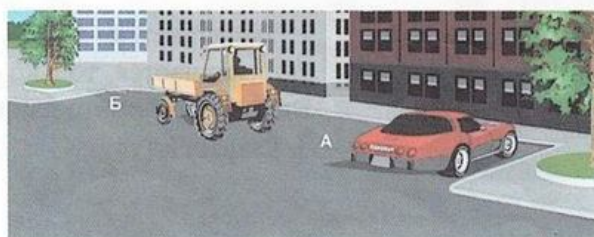


1. Расстояние до ближайшего перекрестка.
2. Расстояние до ближайшего населенного пункта.
3. Номер дороги.

9 Какое взыскание на граждан влечет нарушение правил или норм эксплуатации тракторов, самоходных, дорожно-строительных и иных машин и оборудования?

1. Предупреждение.
2. Наложение административного штрафа.
3. Лишение права управления транспортными средствами.
4. Одно из перечисленные взысканий.


10 Кто из водителей нарушил правила стоянки?



1. Водитель автомобиля.
2. Водитель трактора.
3. Никто не нарушил.


БИЛЕТ 7

- 11 Обязан ли водитель, начиная движение с обочины дороги, включить указатели поворота?




1. Обязан.
2. Не обязан.
3. Обязан при наличии рядом других транспортных средств.

- 12 Какая часть дороги является проезжей частью?



1. Только А.
2. Только В.
3. А и В.

- 13 Разрешено ли движение задним ходом через железнодорожный переезд?



1. Разрешено.
2. Запрещено.

- 14 При повороте налево водитель трактора:



1. Имеет право проехать первым.
2. Должен пропустить трамвай.

- 15 На каком рисунке изображен знак железнодорожного переезда со шлагбаумом?



A



B



C

1. А.
2. А и С.
3. В.
4. С.

БИЛЕТ 7

- 16 Каким способом должно быть обозначено буксируемое транспортное средство при неисправной аварийной световой сигнализации?



1. Должны быть включены внешние световые приборы.
2. На задней части должен быть закреплен знак аварийной остановки.
3. На задней части должен быть закреплен знак «Прочие опасности».

- 17 Разрешено ли водителю самоходной машины остановиться в данном месте в населенном пункте?




1. Разрешено.
2. Запрещено.

- 18 На каком расстоянии необходимо переключить дальний свет фар на ближний?



1. Не менее чем за 150 м.
2. Не менее чем за 300 м.
3. По усмотрению водителя.

- 19 Какое транспортное средство имеет преимущество в движении в населенных пунктах?



1. Трактор, движущийся без изменения направления по своей полосе.
2. Автобус, начинающий движение от обозначенной остановки.

- 20 Характерными признаками сотрясения мозга являются:

1. Головная боль, тошнота и рвота, потеря сознания.
2. Покраснение кожных покровов, учащенное дыхание.
3. Сонливость, вялость, потемнение в глазах, учащенное сердцебиение.

БИЛЕТ 8

- 1 Обязан ли водитель трактора уступить дорогу грузовому автомобилю при его перестроении?



1. Обязан.
2. Не обязан.

- 2 Разрешен ли обгон трактора в данном месте?




1. Разрешен.
2. Запрещен.

- 3 Разрешено ли водителю трактора объехать стоящий перед железнодорожным переездом легковой автомобиль?



1. Разрешено.
2. Запрещено.

- 4 С какой полосы Вы должны совершить поворот налево?



1. С крайней правой.
2. Со средней.
3. С любой.

- 5 В каких направлениях разрешено продолжить движение?



1. Только А.
2. Только Б.
3. Только В.
4. Во всех направлениях.

БИЛЕТ 8

6 Сколько перекрестков изображено на рисунке?



1. Один.
2. Два.
3. Четыре.

7 Действие каких знаков распространяется только до ближайшего перекрестка?



А



Б



В



Г

1. А и В.
2. Б и Г.
3. В и Г.
4. Всех указанных знаков.

8 На каком рисунке изображена дорога с разделительной полосой?




А

Б


1. На рисунке А
2. На рисунке Б.
3. На обоих рисунках.
4. Ни на одном.

9 Разрешено ли водителю транспортного средства выехать на железнодорожный переезд, если за ним образовался затор?



1. Разрешено.
2. Запрещено.
3. Разрешено при отсутствии поезда в пределах видимости.


10 Разрешен ли разворот на указанном участке дороги?



1. Разрешен.
2. Запрещен.
3. Разрешен только при видимости дороги более 100 м.

БИЛЕТ 8

11 Должен ли водитель самоходной машины уступить дорогу трамваю?



1. Должен.
2. Не должен.

12 При отсутствии каких предметов запрещается эксплуатировать трактор?

1. Аптечки.
2. Огнетушителя.
3. Знака аварийной остановки.
4. Противооткатных упоров.
5. При отсутствии любого предмета из перечисленного.

13 Водитель какого транспортного средства имеет преимущество при движении?



1. Трактора.
2. Грузового автомобиля.

14 Данная вертикальная разметка:



1. Запрещает стоянку транспортных средств.
2. Запрещает остановку транспортных средств.
3. Обозначает бордюры на опасных участках дорог.

15 Кто из водителей имеет преимущество в движении?



1. Водитель трактора с включенным проблесковым оранжевым маячком.
2. Водитель легкового автомобиля с включенным проблесковым маячком синего цвета и специальным звуковым сигналом.

БИЛЕТ 8

- 16 Каким должно быть расстояние между транспортными средствами при буксировке на гибкой сцепке?



1. 2-4 м.
2. 4-6 м.
3. 6-8 м.
4. Не менее 6 м.

- 17 Какие внешние световые приборы должны быть включены при въезде в тоннель?



1. Габаритные огни.
2. Аварийная световая сигнализация.
3. Ближний или дальний свет фар.

- 18 В каком месте должен остановиться водитель при запрещающем сигнале светофора?



1. Перед светофором.
2. Перед пересекаемой проезжей частью.
3. Перед стоп-линией.

- 19 Разрешено ли Вам на перекрестке обогнать водителя мотоцикла, у которого включена аварийная сигнализация?



1. Разрешено.
2. Запрещено.

- 20 Нарушил ли водитель правила перевозки грузов?



1. Нарушил, так как выступающий сзади груз не обозначен знаком «Крупногабаритный груз».
2. Не нарушил.


БИЛЕТ 9

1. Первым проедет перекресток:



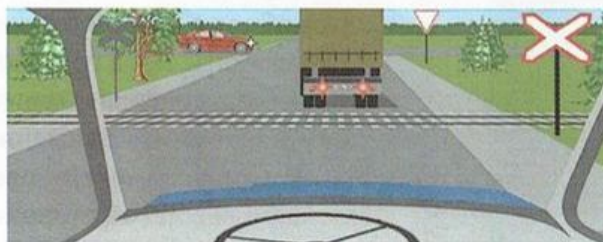
1. Легковой автомобиль.
2. Трактор.

2. Разрешена ли остановка под эстакадой?



1. Разрешена.
2. Запрещена.

3. Разрешено ли продолжение движения через железнодорожный переезд?



1. Разрешено.
2. Разрешено при отсутствии приближающегося поезда.
3. Запрещено.

4. Как Вы должны поступить, если идущее впереди транспортное средство замедлило свой ход перед пешеходным переходом?




1. Продолжить движение с прежней скоростью.
2. Снизить скорость или остановиться и продолжить движение, уступив дорогу пешеходам.

5. Разрешен ли обгон на перекрестках?

1. Разрешен только на нерегулируемых перекрестках.
2. Разрешен только на нерегулируемых перекрестках при движении по главной дороге.
3. Запрещен во всех случаях.

БИЛЕТ 9

6 Что означает данный знак?



1. Дорогу, не имеющую сквозного проезда.
2. На перекрестке справа второстепенная дорога.
3. Направление, где движение запрещено.

7 В каких случаях водители могут быть привлечены к уголовной ответственности за нарушение правил дорожного движения или правил эксплуатации транспортных средств?

1. Повлекшее по неосторожности причинение тяжкого вреда здоровью человека.
2. Повлекшее по неосторожности причинение повреждений вне зависимости от степени тяжести, а также нанесение крупного материального ущерба.
3. Повлекшее по неосторожности причинение тяжкого вреда здоровью человека или смерть человека.

8 Как должен поступить водитель трактора в данной ситуации?



1. Совершить объезд грузового автомобиля с правой стороны.
2. Подождать, пока грузовой автомобиль совершит маневр, затем продолжить движение.
3. Совершить обгон грузового автомобиля с левой стороны.

9 Какой знак разрешает объезд препятствия только справа?



A


B

C

D

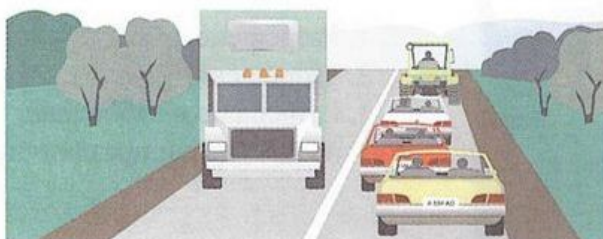
1. А.
2. А и В.
3. С.
4. D.

10 В каких местах запрещена остановка транспортных средств?



1. На обочине дороги вблизи подъема.
2. На обочине дороги при крутом спуске или подъеме.
3. На проезжей части вблизи выпуклых переломов продольного профиля дороги при видимости дороги менее 100 м, хотя бы в одном направлении.

- 11 Как должен поступить водитель тихоходного транспортного средства, если при движении вне населенного пункта за ним скопились транспортные средства?




1. Продолжить движение.
2. Принять как можно правее, а при необходимости остановиться и пропустить следующие за ним транспортные средства.

- 12 Разрешено ли Вам продолжить движение?



1. Разрешено прямо и направо.
2. Разрешено в любом направлении.
3. Запрещено.

- 13 В каких направлениях разрешено продолжить движение?



1. А.
2. В.
3. С.
4. А и В.
5. В любых из указанных направлений.

- 14 Разрешено ли водителю трактора продолжить движение по данной полосе при выполнении уборочных работ?




1. Разрешено.
2. Запрещено.

- 15 Значения каких дорожных знаков отменяются сигналами светофора?

1. Знаков приоритета.
2. Запрещающих знаков.
3. Предписывающих знаков.
4. Всех перечисленных.

БИЛЕТ 9

- 16 Разрешено ли продолжить движение через перекресток прямо, если Вы не живете и не работаете в зоне действия данного знака?




1. Разрешено.
2. Запрещено.
3. Разрешено в субботние, воскресные и праздничные дни.

- 17 Должен ли водитель транспортного средства уступить дорогу автомобилю с включенным проблесковым маячком синего цвета и невключенной специальной звуковой сигнализацией?



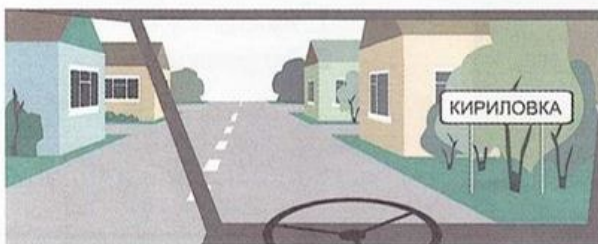
1. Должен.
2. Не должен.

- 18 Что обозначают знаки?



1. Через 500 м – опасные повороты.
2. Через 150-300 м – участок дороги с опасными поворотами протяженностью 500 м.

- 19 Разрешена ли Вам подача звукового сигнала в населенном пункте?




1. Разрешена.
2. Запрещена.
3. Разрешена для предотвращения ДТП.

- 20 Как остановить кровотечение при ранении некрупных артерий и вен?

1. Наложить жгут ниже места ранения.
2. Наложить жгут выше места ранения.
3. Наложить давящую повязку на место ранения.


БИЛЕТ 10

1 Разрешается ли останавливаться на полосе, обозначенной этим знаком?



1. Разрешается.
2. Запрещается.
3. Разрешается для посадки и высадки пассажиров, если это не создаст помех маршрутным транспортным средствам.

2 Разрешено ли Вам продолжить движение по второй полосе?



1. Разрешено.
2. Запрещено.
3. Разрешено при скорости движения более 40 км/ч.

3 Какие действия запрещено выполнять в местах остановок маршрутных транспортных средств?



1. Разворот.
2. Движение задним ходом.
3. Останавливаться, если при этом будут созданы помехи маршрутным транспортным средствам.
4. Все перечисленные действия.

4 Разрешается ли движение самоходной машины по дорогам, выезды и въезды которых обозначены знаками?



1. Запрещено.
2. Только выполняя работы по строительству, ремонту или содержанию дорог в обозначенной зоне.
3. Разрешено.

5 В каких направлениях разрешено продолжить движение?



1. А и В.
2. А.
3. Запрещено во всех направлениях.


БИЛЕТ 10

6 Разрешена ли стоянка в данном месте по нечетным числам?



1. Разрешена.
2. Запрещена.
3. Разрешена после 19 ч.

7 Разрешено ли водителю транспортного средства проехать через железнодорожный переезд, если навесное оборудование не фиксируется в транспортном положении?



1. Разрешено.
2. Запрещено.
3. Разрешено, если навесное оборудование не повредит переезд.

8 Что обозначает данная линия разметки?



1. Искусственную неровность на проезжей части.
2. Подземный пешеходный переход.
3. Велосипедную дорожку.

9 Какой из знаков предоставляет водителю преимущество перед встречным движением?



A



B



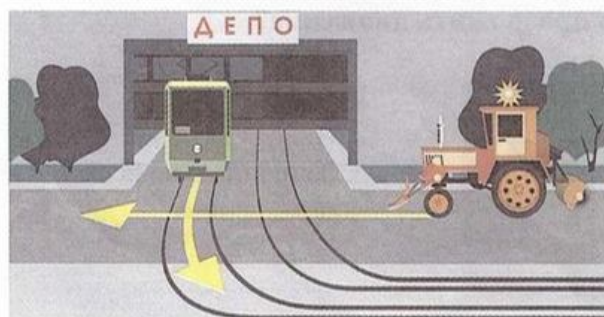
C



D

1. D.
2. B и C.
3. A, C и D.
4. A.
5. Все знаки.


10 Какое транспортное средство проедет первым?



1. Трамвай.
2. Трактор.

БИЛЕТ 10

11 При движении прямо Вы обязаны уступить дорогу:




1. Легковому автомобилю.
2. Гужевой повозке.
3. Всем транспортным средствам.

12 По какой траектории водитель может совершить поворот направо?



1. А.
2. В.
3. По любой.

13 Как Вы должны поступить в данном случае?




1. Продолжить движение, посигналив пешеходам.
2. Уступить дорогу пешеходам.

14 Разрешено ли Вам обогнать трактор?



1. Разрешено.
2. Разрешено, если обгон завершится до перекрестка.
3. Запрещено.

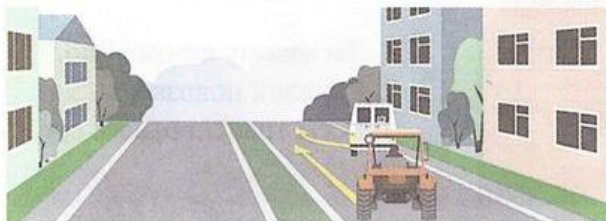
15 Разрешено ли водителю транспортного средства останавливаться перед знаком?



1. Разрешено.
2. Запрещено.
3. Разрешено при условии, что оно не закроет знак от других водителей.


БИЛЕТ 10

- 16 Должен ли водитель трактора уступить дорогу маршрутному такси, начинающему движение от тротуара вне обозначенного места остановки?



1. Должен.
2. Не должен.

- 17 Разрешено ли Вам продолжить движение?



1. Разрешено.
2. Запрещено.

- 18 Как должен поступить в данной ситуации водитель самоходной машины?



1. Проехать первым.
2. Пропустить грузовой автомобиль.

- 19 Последним перекресток проедет:



1. Легковой автомобиль.
2. Грузовой автомобиль.
3. Трактор.

- 20 Что обозначает данный знак?



1. Предварительный указатель перестроения на другую проезжую часть.
2. Указатель перестроения на другую полосу движения.
3. Предварительный указатель перестроения на другую дорогу.


БИЛЕТ 11

1 Разрешена ли стоянка транспортного средства в данном месте?



1. Разрешена.
2. Запрещена.

2 Водитель какого транспортного средства правильно въезжает на перекресток с круговым движением?




1. Самоходной машины А.
2. Трактора В.
3. Оба водителя – правильно.
4. Оба водителя – неправильно.

3 Должны ли Вы уступить дорогу самоходной машине?




1. Должны.
2. Не должны.

4 В каком направлении водители транспортных средств могут продолжить движение?



1. В любом из указанных.
2. В, С.
3. D.


5 Какое нарушение допустил водитель комбайна при движении через мост?



1. Соблюдение дистанции.
2. Боковой интервал.

БИЛЕТ 11

6 Что обозначает данная вертикальная разметка?



1. Элементы дорожных сооружений, когда эти элементы представляют опасность для движущихся транспортных средств.
2. Габаритные размеры элементов дорожных сооружений.

7 Какой из знаков предоставляет водителю преимущество по отношению к водителям, движущимся по пересекаемой дороге?



1. А.
2. В.
3. С.
4. D.
5. А и В.

8 Какое взыскание накладывается на граждан при эксплуатации механических транспортных средств с превышением нормативов содержания загрязняющих веществ в выбросах либо с превышением нормативов уровня шума?

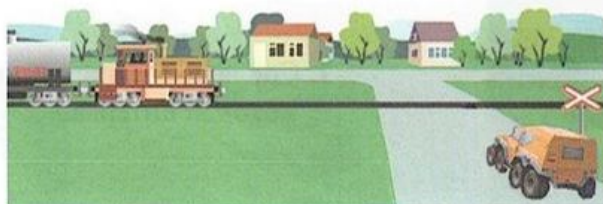
1. Предупреждение.
2. Административный штраф.
3. Одно из перечисленных взысканий.

9 Разрешено ли водителю трактора останавливаться в данном месте?



1. Разрешено.
2. Запрещено.

10 Разрешено ли водителю самоходной машины продолжить движение, если в пределах видимости приближается поезд?



1. Разрешено.
2. Запрещено.


БИЛЕТ 11

- 11 Как должна быть обозначена самоходная машина при выполнении строительных, ремонтных или уборочных работ на дороге?



1. Включен проблесковый маячок оранжевого или желтого цвета.
2. Включен проблесковый маячок синего цвета.
3. Включен дальний свет фар.

- 12 Разрешено ли водителю самоходной машины совершить обгон гужевой повозки в конце подъема?




1. Разрешено, если нет встречного транспорта.
2. Запрещено.

- 13 С какой максимальной скоростью может продолжить движение самоходная машина?



1. 60 км/ч.
2. 40 км/ч.
3. 30 км/ч.
4. 50 км/ч.

- 14 Транспортное средство с включенным проблесковым маячком оранжевого цвета проедет перекресток:



1. Первым.
2. Вторым.
3. Третьим.


- 15 Какое транспортное средство проедет перекресток первым?



1. Трактор.
2. Автомобиль с включенным проблесковым маячком синего цвета.

БИЛЕТ 11

- 16 В каком из указанных мест можно пересечь сплошную линию разметки и остановиться?



1. Только А.
2. Только Б.
3. В любом.
4. Ни в одном.

- 17 При какой неисправности запрещается движение самоходной машины?

1. Неисправно рулевое управление.
2. Разбито или отсутствует хотя бы одно из внешних зеркал заднего вида.
3. Неисправен датчик указателя уровня топлива.

- 18 Должен ли водитель самоходной машины уступить дорогу легковому автомобилю?



1. Должен.
2. Не должен.

- 19 Какой знак должен быть закреплен на задней части буксируемого механического транспортного средства при отсутствии или неисправности аварийной сигнализации?



А



Б



В

1. А.
2. Б.
3. В.

- 20 В чем заключается первая помощь пострадавшему при подозрении на травму позвоночника?


1. Уложить пострадавшего на бок.
2. Лежащему на спине пострадавшему, подложить под шею валик из одежды и приподнять ноги.
3. Не меняя положения пострадавшего, необходимо наложить на шею импровизированную шину.

1 Где Вы должны остановиться в данной ситуации при отсутствии других транспортных средств?



1. У знака.
2. У стоп-линии.
3. Проехать перекресток без остановки.

2 По какой траектории водителю трактора следует повернуть направо в данной ситуации?



1. А.
2. В.
3. По любой.

3 Что обозначают прерывистые линии на перекрестке?



1. Обязательное направление движения на перекрестке.
2. Границы полос движения в пределах перекрестка.

4 Два попеременно мигающих красных сигнала светофора:




1. Разрешают движение.
2. Запрещают движение.
3. Разрешают движение с особой осторожностью при отсутствии приближающегося поезда.

5 Что означает термин «Ограниченная видимость»?

1. Видимость дороги, ограниченная рельефом местности, геометрическими параметрами дороги или другими объектами.
2. Видимость дороги менее 300 м в условиях тумана, дождя, снегопада, а также в сумерки.
3. Видимость дороги менее 150 м в ночное время.

БИЛЕТ 12

6 Что обозначает разметка в виде треугольника на полосе движения?



1. Вы въезжаете на опасный участок дороги.
2. Предупреждает о приближении к месту, где нужно уступить дорогу.
3. Показывает место, где необходимо остановиться.

7 Что обозначает желтая линия разметки?



1. Место, где запрещена стоянка.
2. Место, где запрещена остановка.
3. Место остановки маршрутных транспортных средств.

8 При какой неисправности запрещается движение самоходной машины?

1. Отсутствуют ремни безопасности, если их установка предусмотрена конструкцией самоходной машины.
2. Неисправно сцепное устройство при буксировке прицепа, полуприцепа.
3. Неисправен механизм регулировки сиденья водителя.


9 Какие знаки информируют о том, что на данной дороге действуют требования ПДД, устанавливающие порядок движения в населенных пунктах?



А



Б



В

1. Только А.
2. А и Б.
3. Б и В.
4. Все.

10 Разрешен ли Вам разворот в указанном месте?



1. Разрешен.
2. Запрещен.

БИЛЕТ 12

11 О чем предупреждает установленный знак?




1. При въезде в тоннель будет затруднен разъезд со встречными транспортными средствами.
2. В тоннеле отсутствует искусственное освещение.
3. Очередность движения регулируется светофором.

12 О чем предупреждает данная линия разметки с изображением стрелки?




1. О приближении к сужению проезжей части.
2. О возможности перестроения на другую полосу движения.
3. О приближении к перекрестку с поворотом направо.

13 Разрешено ли водителю самоходной машины совершить обгон гужевой повозки?



1. Разрешено.
2. Запрещено.

14 Разрешена ли стоянка транспортного средства в указанном месте?



1. Разрешена.
2. Запрещена.


15 При движении прямо нужно ли уступать дорогу встречному автомобилю, поворачивающему налево?



1. Нужно.
2. Не нужно.


БИЛЕТ 12

16 Должны ли Вы уступить дорогу грузовому автомобилю?



1. Да.
2. Нет.

17 Разрешено ли водителю развернуться в тоннеле?



1. Разрешено.
2. Запрещено.

18 Какими знаками обозначают участки, на которых необходимо уступать дорогу пешеходам?



А



Б



В

1. Только А и Б.
2. Только Б и В.
3. Всеми знаками.

19 Разрешено ли водителю трактора обогнать гужевою повозку?



1. Разрешено.
2. Запрещено.


20 На каком расстоянии до опасного участка устанавливается знак «Железнодорожный переезд без шлагбаума» вне населенного пункта?



1. 150–300 м.
2. 100–150 м.
3. 50–100 м.

БИЛЕТ 13

1 На каком рисунке изображено механическое транспортное средство?



1. A, B, C.
2. B, C, D.
3. B.
4. На всех.

2 Какие знаки предоставляют Вам преимущество при проезде нерегулируемых перекрестков?



1. Только А.
2. А, В.
3. Все.

3 Какой маневр намеревается выполнить водитель самоходной машины с прицепом?



1. Обгон.
2. Перестроение с дальнейшим опережением.
3. Объезд.

4 Какими должны быть действия водителя трактора при перестроении?



1. Имеет право проехать первым, чтобы объехать препятствие.
2. Должен пропустить автомобиль, движущийся по соседней полосе.


5 Что означает данный сигнал светофора?



1. Разрешает движение в направлении А, В.
2. Разрешает движение только в направлении В.
3. Разрешает движение только в направлении А.

БИЛЕТ 13

6 Как должен поступить водитель трактора?



1. Уступить дорогу легковому автомобилю.
2. Первым проехать перекресток.

7 С какой скоростью разрешено движение по дорогам, обозначенным знаками?



1. 60 км/ч.
2. 40 км/ч.
3. 20 км/ч.

8 Должен ли водитель самоходной машины уступить дорогу грузовому автомобилю?



1. Должен.
2. Не должен.

9 Какое взыскание накладывается на граждан за нарушение правил государственной регистрации самоходных машин?

1. Предупреждение.
2. Административный арест.
3. Административный штраф.
4. Все перечисленные взыскания.

10 В каком случае запрещается открывать двери транспортного средства?



1. Если это создаст помехи другим участникам движения.
2. Если транспортное средство остановилось по причине вынужденной остановки.

БИЛЕТ 13

11 Разрешено ли Вам проехать железнодорожный переезд?




1. Да, так как дежурный по переезду запрещает движение только встречному автомобилю.
2. Да, если отсутствует приближающийся поезд.
3. Запрещено.

12 Следует ли уступить дорогу грузовому автомобилю на перекрестке с круговым движением?



1. Да.
2. Нет.

13 Как Вы намерены продолжить движение прямо при желтом мигающем сигнале светофора?



1. Проехать перекресток первым.
2. Уступить дорогу только грузовому автомобилю.
3. Уступить дорогу только трамваю.
4. Уступить дорогу обоим транспортным средствам.

14 Какой знак запрещает дальнейшее движение всех без исключения транспортных средств?



А



Б



В

1. А.
2. Б.
3. В.

15 Какую скорость должен соблюдать водитель при возникновении опасности для движения?

1. Предельно малую.
2. Должен принять необходимые меры к снижению скорости, вплоть до остановки транспортного средства.
3. Продолжить движение не снижая скорости, чтобы покинуть опасное место.

БИЛЕТ 13

16 Разрешена ли Вам стоянка в указанном месте?



1. Разрешена.
2. Разрешена, но только в светлое время суток.
3. Запрещена.

17 Данный светофор применяется для регулирования движения:



1. По всем полосам проезжей части.
2. По полосам проезжей части, направление движения по которым может быть изменено на противоположное.
3. По полосам, предназначенным для маршрутных транспортных средств.

18 В каком случае Вы имеете право выехать на перекресток, если за ним образовался затор?



1. Намерены выполнить поворот направо или налево.
2. Намерены двигаться прямо.
3. Верно, п.1, 2.

19 По какой траектории Вам разрешено выполнить разворот?



1. Только по траектории А.
2. Только по траектории Б.
3. По любой.


20 Разрешается ли стоянка самоходной машины в зоне действия этих знаков?



1. Разрешается.
2. Запрещается.
3. Разрешается при наличии специального государственного регистрационного знака.

БИЛЕТ 14

1 По какой траектории водитель имеет право продолжить движение?




1. А.
2. А и В.
3. С.
4. По любой траектории.

2 Сколько пересечений проезжих частей имеет этот перекресток?



1. Одно.
2. Два.
3. Четыре.

3 Разрешается ли перевозить людей на грузовом прицепе?



1. Разрешается, если они сопровождают груз.
2. Разрешается только при наличии оборудованных мест для сидения.
3. Запрещается.

4 Что обозначает на дороге эта разметка?



1. Место, где велосипедная дорожка пересекает проезжую часть.
2. Место, где велосипедист имеет преимущество движения.
3. Место пешеходного перехода.

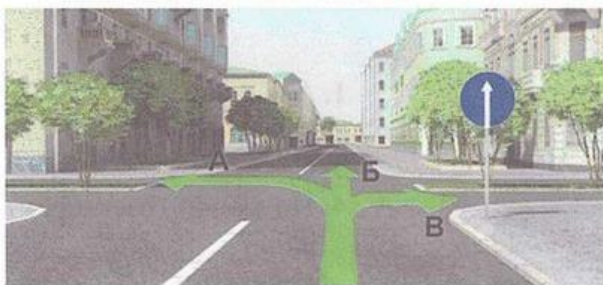
5 Разрешено ли людям находиться в кабине буксируемого транспортного средства при буксировке методом частичной погрузки?

1. Разрешено.
2. Запрещено.
3. На усмотрение водителя.

БИЛЕТ 14

В каком направлении разрешено движение самоходной машины?

6



1. В любом направлении с включением проблескового маячка желтого цвета при выполнении работ по содержанию дорог.
2. По траектории А, Б.
3. Только по траектории Б
4. Правильно, 1, 2.
5. Правильно, 1, 3.

Что обозначает данный знак?

7



1. Начало населенного пункта, где не действуют требования ПДД, устанавливающие порядок движения в населенных пунктах.
2. Начало населенного пункта, где действуют требования ПДД, устанавливающие порядок движения в населенных пунктах.

Разрешено ли Вам в конце подъема перестроиться на среднюю полосу для опережения грузового автомобиля?

8



1. Разрешено.
2. Запрещено.

Что означает сочетание красного и желтого сигналов светофора?

9

1. Неисправна светофорная сигнализация.
2. Информировать о предстоящем включении зеленого сигнала.
3. Информировать о предстоящем включении красного сигнала.

На каком расстоянии до спуска или подъема могут устанавливаться эти знаки вне населенного пункта?

10




1. За 150-300 м до спуска или подъема.
2. В зависимости от знака дополнительной информации, указывающего расстояние.
3. Непосредственно перед спуском или подъемом, если они следуют друг за другом.
4. Возможен любой вариант.

11 Какими знаками Вы должны руководствоваться, если значения временных и стационарных дорожных знаков противоречат друг другу?

1. Значениями временных знаков.
2. Значениями стационарных знаков.

12 Кто из водителей должен уступить дорогу пешеходам?



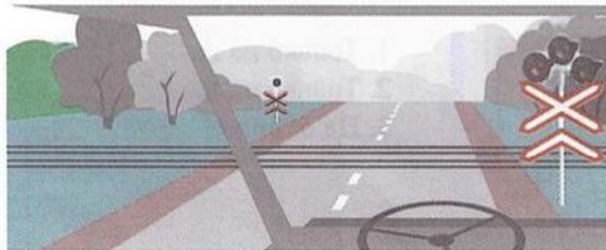
1. Только водитель самоходной машины.
2. Только водитель грузового автомобиля.
3. Оба водителя.

13 По какой полосе разрешено продолжить движение водителю самоходной машины вне населенного пункта?



1. По любой.
2. По крайней правой.

14 При выключенных мигающих бело-лунном и красном сигналах светофора на железнодорожном переезде:



1. Разрешается движение транспортных средств через переезд.
2. Разрешается движение при отсутствии в пределах видимости приближающегося к переезду поезда (локомотива, дрезины).
3. Движение через переезд запрещается.

15 Разрешен ли в данной ситуации обгон?



1. Запрещен.
2. Разрешен, если скорость грузового автомобиля менее 30 км/ч.
3. Разрешен.

БИЛЕТ 14

16 Дневные ходовые огни предназначены для:

1. Улучшения видимости движущегося транспортного средства в светлое время суток как спереди, так и сзади.
2. Улучшения видимости движущегося транспортного средства в светлое время суток только спереди.
3. Улучшения видимости движущегося транспортного средства в светлое время суток только сзади.

17 Водитель какого транспортного средства не нарушает ПДД?



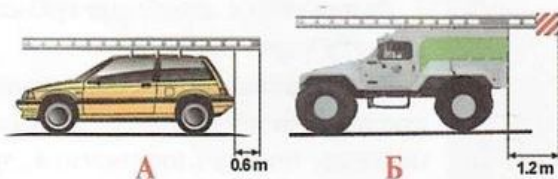
1. Автомобиля (А).
2. Самоходной машины (Б).
3. Никто не нарушает.

18 При повороте направо Вы должны уступить дорогу:



1. Велосипедисту.
2. Пешеходам.
3. Пешеходам и велосипедисту.
4. Никому.

19 На каком рисунке изображено транспортное средство, водитель которого не нарушает правил перевозки грузов?



1. Только на А.
2. Только на Б.
3. На обоих.

20 В каком случае Вам необходимо двигаться со скоростью до 40 км/ч?



1. Во всех случаях.
2. Только в том случае, когда покрытие на дороге влажное.
3. Во время выпадения осадков (дождь, снег).

БИЛЕТ 15

1 Что должен знать и соблюдать участник дорожного движения?

1. Требования Правил, относящихся к нему.
2. Значения разметки, знаков, светофора.
3. Выполнять распоряжения регулировщиков, действующих в пределах предоставленных им прав и регулирующих дорожное движение установленными сигналами.
4. Соблюдать все перечисленные требования.

2 Этот дорожный знак указывает:



1. Расстояние до конца тоннеля.
2. Расстояние до места аварийной остановки.
3. Направление движения к аварийному выходу и расстояние до него.

3 В каком направлении Вам разрешено движение на перекрестке?



1. Движение разрешено только направо.
2. Движение разрешено только налево.
3. Запрещено.

4 Кто из водителей нарушил правила остановки?



1. Водитель трактора.
2. Водитель грузового автомобиля.
3. Оба нарушили.

5 Разрешено ли буксировать автобус при нахождении пассажиров в салоне?



1. Разрешено.
2. Запрещено.

БИЛЕТ 15

- 6 Какой знак обозначает транспортное средство при вынужденной остановке в местах, где оно не может быть своевременно замечено другими водителями?



А



Б




В

1. Знак А.

2. Знак Б.

3. Знак В.

- 7 Должен ли водитель самоходной машины уступить дорогу автобусу, начинающему движение от остановки вне населенного пункта?



1. Должен.

2. Не должен.

- 8 Какое взыскание накладывается на граждан за нарушение правил применения ремней безопасности или мотошлемов?

1. Административный штраф.

2. Административный арест.

3. Предупреждение.

4. Все перечисленные взыскания.

- 9 Позволяет ли Вам данная разметка выполнить обгон трактора?



1. Да.

2. Да, при скорости трактора менее 30 км/ч.

3. Нет.

- 10 О чем информирует Вас сигнал светофора в виде стрелки красного цвета?



1. На этом перекрестке всегда запрещен поворот направо.

2. Поворот направо разрешен, но необходимо уступить дорогу пешеходам.

3. При включении зеленого сигнала светофора движение будет разрешено только направо.

БИЛЕТ 15

11 Какие знаки действуют на той стороне дороги, на которой они установлены?



1. А и В.
2. С и D.
3. Е.
4. Все, кроме Е.

12 Кто из водителей, совершающих поворот, нарушает ПДД?




1. Водитель легкового автомобиля.
2. Водитель самоходной машины.
3. Оба нарушают.
4. Оба не нарушают.

13 Двигаясь прямо, при желтом мигающем сигнале светофора, Вы должны:



1. Продолжить движение после включения зеленого сигнала светофора.
2. Уступить дорогу гужевой повозке.
3. Проехать перекресток одновременно со встречным автомобилем.

14 Что означает данная желтая линия разметки?



1. Остановка маршрутных транспортных средств.
2. Стоянка такси.
3. Остановка маршрутных транспортных средств и стоянка такси.
4. Место, где запрещена стоянка.

15 Что обязаны сделать в первую очередь водители, причастные к ДТП?

1. Немедленно остановить транспортное средство, включить аварийную световую сигнализацию, выставить знак аварийной остановки, не перемещать предметы, имеющие отношение к происшествию.
2. Принять возможные меры для оказания доврачебной медицинской помощи пострадавшим.
3. Освободить проезжую часть.
4. Все перечисленное.

БИЛЕТ 15

16 Разрешено ли Вам на перекрестке выполнить разворот?



1. Разрешено.
2. Запрещено.

17 Разрешено ли водителю поставить трактор на стоянку в этом месте указанным способом?



1. Да.
2. Да, если разрешенная максимальная масса трактора менее 3,5 т.
3. Нет.

18 Разрешается ли движение самоходной машины по этой полосе?




1. Разрешается.
2. Запрещается.
3. Разрешается только при выполнении работ по обслуживанию дороги.

19 Какие знаки требуют обязательной остановки?



1. Только А и Б.
2. Только Б.
3. Только Б и В.
4. Только Г.

20 Как Вы должны поступить при приближении к стоящему у обочины автомобилю с включенным проблесковым маячком синего цвета?



1. Продолжить движение с прежней скоростью.
2. Снизить скорость, чтобы немедленно остановиться в случае необходимости.
3. Остановиться у обочины и дождаться разрешения двигаться дальше.

1 Вы намерены проехать перекресток в прямом направлении. Ваши действия?



1. Уступите дорогу легковому автомобилю.
2. Проедете перекресток первым.

2 В каких направлениях разрешено продолжить движение на перекрестке?



1. В любых.
2. А и В.
3. С.
4. В и С.

3 Что обозначает этот знак?



1. Приближение к перекрестку, на котором организован диагональный переход проезжей части пешеходами.
2. Приближение к перекрестку, выезд на который разрешен только после остановки перед стоп-линией.
3. Приближение к перекрестку, на который запрещается выезжать, если впереди по пути следования образовался затор, за исключением поворота направо или налево.

4 Разрешена ли остановка в указанном месте?



1. Разрешена.
2. Запрещена.


5 Разрешено ли водителю самоходного шасси обогнать гужевую повозку на перекрестке?



1. Разрешено.
2. Запрещено.

БИЛЕТ 16

6 Первым проедет перекресток:



1. Трамвай.
2. Трактор.

7 В каких случаях на транспортном средстве должен быть включен проблесковый маячок оранжевого цвета?



1. При выполнении строительных, ремонтных или уборочных работ на дороге.
2. При перевозке тяжеловесных, крупногабаритных или опасных грузов в случаях, предусмотренных правилами перевозки этих грузов.
3. В обоих случаях.

8 По какой полосе разрешено движение вне населенного пункта по дороге, имеющей три полосы в одном направлении, если скорость самоходной машины не превышает 40 км/ч?

1. По крайней правой.
2. По средней при объезде препятствия.
3. По левой при выполнении разворота.
4. Возможен любой из указанных вариантов.

9 Водитель какого транспортного средства правильно выполняет поворот?



1. Трактора А.
2. Трактора В.
3. Оба водителя – правильно.
4. Оба водителя – неправильно.

10 Что означают данные знаки?



1. Запрещают движение тракторов и других самоходных машин в направлении стрелок.
2. Рекомендуемое направление движения тракторов и других самоходных машин.
3. Обязательное направление движения тракторов и других самоходных машин.

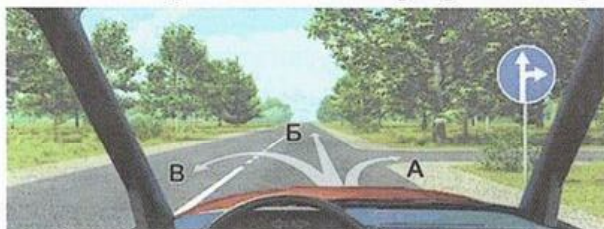
БИЛЕТ 16

11 Разрешена ли Вам остановка в указанном месте?



1. Разрешена.
2. Разрешена только с заездом на тротуар.
3. Разрешена, если не создается помех маршрутным транспортным средствам.
4. Не разрешена.

12 В каких направлениях Вам разрешено продолжить движение?




1. Только Б.
2. Только А или Б.
3. В любых.

13 Следует ли Вам уступить дорогу грузовому автомобилю?




1. Да.
2. Нет.

14 В каком месте Вам разрешено обогнать тихоходное транспортное средство?



1. Перед железнодорожным переездом.
2. На железнодорожном переезде.
3. За железнодорожным переездом.

15 На какие транспортные средства распространяются сигналы такого светофора?



1. Только на трамваи.
2. На трамваи, а также другие маршрутные транспортные средства, движущиеся по выделенной для них полосе.
3. На все маршрутные транспортные средства.


БИЛЕТ 16

16 Разрешено ли Вам поставить самоходную машину на стоянку за путепроводом?



1. Разрешено.
2. Запрещено.

17 Этот знак указывает, что:



1. Вы должны повернуть направо или налево.
2. Выезд на дорогу с реверсивным движением
3. На пересекаемой дороге организовано одностороннее движение.

18 Эта разметка, нанесенная на полосу движения:



1. Разрешает Вам только поворот налево.
2. Разрешает Вам только разворот.
3. Разрешает Вам поворот налево и разворот.

19 Следует ли Вам уступить дорогу автомобилю, выполняющему разворот?



1. Да.
2. Нет.

20 Что происходит со временем реакции при воздействии на организм алкоголя?

1. Время реакции увеличивается.
2. Время реакции уменьшается.
3. Время реакции остается неизменным.

БИЛЕТ 17

- 1 С какой максимальной скоростью Вы можете продолжить движение после знака, если буксируете неисправное механическое транспортное средство?



1. 30 км/ч.
2. 50 км/ч.
3. 70 км/ч.
4. 90 км/ч.

- 2 В каком случае Вы можете прибегнуть к резкому торможению?

1. Только для остановки перед перекрестком или пешеходным переходом, когда включился запрещающий сигнал светофора.
2. Только для предотвращения дорожно-транспортного происшествия.
3. В обоих перечисленных случаях.

- 3 Какой знак используется для обозначения границ искусственной неровности?



А



Б



В

1. Только А.
2. Только Б.
3. Б и В.

- 4 Вы намерены развернуться на перекрестке. Ваши действия?



1. Уступите дорогу только легковому автомобилю и развернетесь.
2. Уступите дорогу обоим транспортным средствам и развернетесь.


- 5 Кто из водителей нарушает правила дорожного движения?



1. Все водители.
2. Никто из водителей.
3. Только водитель трактора.
4. Только водитель легкового автомобиля.
5. Водители грузового автомобиля и трактора.


БИЛЕТ 17

6 В каком месте разрешен разворот?



1. А.
2. В.
3. С.
4. А и С.

7 В каком месте Вы должны остановиться?



1. Перед знаком «Движение без остановки запрещено» (А).
2. Перед перекрестком (Б).
3. Перед краем пересекаемой проезжей части (В).

8 На каких рисунках показана главная дорога?



1. Только на А и В.
2. Только на В и С.
3. Только на С и D.
4. Только на А и D.
5. На всех.

9 Какое взыскание накладывается на граждан при управлении транспортным средством в состоянии опьянения?

1. Административный штраф.
2. Лишение права управления транспортными средствами.
3. Все перечисленные взыскания.

10 Что означает требование «Уступить дорогу»?

1. Вы должны остановиться, чтобы пропустить других участников движения.
2. Вы не должны начинать, возобновлять или продолжать движение, осуществлять какой-либо маневр, если это может вынудить других участников движения, имеющих по отношению к Вам преимущество, изменить направление движения или скорость.
3. Вы должны остановиться только при наличии дорожного знака «Уступите дорогу».

БИЛЕТ 17

11 При включении зеленого сигнала светофора Вы должны:



1. Убедиться в отсутствии пешеходов, завершающих переход проезжей части, после чего начать движение.
2. Уступить дорогу транспортным средствам, завершающим движение через перекресток, после чего начать движение.
3. Необходимо выполнить все перечисленное.

12 Какой знак разрешает левый поворот?



A



B




C



D

1. А.
2. А, В.
3. С.
4. D.
5. С, D.

13 В каком месте Вы должны остановиться в данной ситуации?



1. У знака «Движение без остановки запрещено».
2. У знака «Однопутная железная дорога».
3. За 5 м до первого рельса.
4. В любом месте.

14 Каким транспортным средствам разрешено движение прямо?



1. Только трактору и грузовому автомобилю.
2. Только грузовому автомобилю.
3. Только грузовому автомобилю и автобусу.
4. Всем транспортным средствам.

15 Нарушили ли водители грузового автомобиля и трактора правила стоянки?



1. Нарушили оба водителя.
2. Нарушил только водитель трактора.
3. Нарушил только водитель грузовика.
4. Никто не нарушил.


БИЛЕТ 17

16 Вы намерены повернуть налево. Кому следует уступить дорогу?



1. Только автобусу.
2. Только велосипедисту.
3. Никому.

17 Что необходимо предпринять при вынужденной остановке на переезде?



1. Оставаться около трактора и подавать сигналы общей тревоги.
2. При появлении поезда бежать ему навстречу, подавая сигнал остановки.
3. Принять меры для освобождения переезда.
4. Выполнить все перечисленное.

18 Что запрещено в зоне действия этого знака?



1. Движение со скоростью более 20 км/ч.
2. Движение только механических транспортных средств.
3. Движение любых транспортных средств.

19 По какой траектории водитель самоходной машины правильно выедет на перекресток с круговым движением?



1. Только по траектории А.
2. Только по траектории Б.
3. По любой из указанных траекторий.

20 При затрудненном встречном разъезде на данном участке дороги преимущество в движении имеет:




1. Водитель самоходной машины.
2. Водитель грузового автомобиля.

БИЛЕТ 18

1 Являются ли тротуары и обочины элементом дороги?

1. Являются.
2. Являются только обочины.
3. Не являются.

2 Транспортные средства проедут перекресток в следующем порядке:



1. Автобус, трактор, комбайн.
2. Комбайн, автобус, трактор.
3. Комбайн, одновременно с ним трактор, автобус.

3 При развороте должен ли водитель самоходной машины уступить дорогу автомобилю?



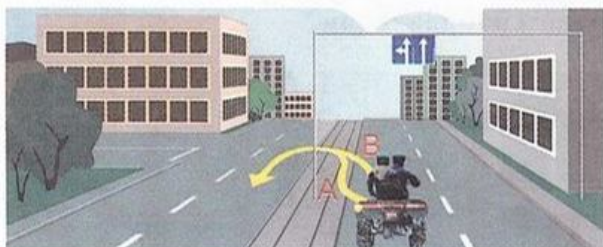
1. Должен.
2. Не должен.

4 Что обозначает данная вертикальная разметка?



1. Край проезжей части.
2. Радиус поворота.
3. Боковые поверхности ограждений дорог на закруглениях малого радиуса, крутых спусках, других опасных участках.


5 По какой траектории водитель правильно выполнит разворот?



1. А.
2. В.
3. По любой.

БИЛЕТ 18

6 На каком рисунке изображен регулируемый перекресток?



A

B

C

1. А.
2. В.
3. С.
4. А и В.

7 Дает ли преимущество перед другими участниками движения включенный проблесковый маячок оранжевого цвета?




1. Дает.
2. Не дает.

8 Вы намерены проехать перекресток в прямом направлении.



1. Проедете перекресток первым.
2. Уступите дорогу трамваю.

9 Должен ли водитель самоходной машины уступить дорогу пешеходам при повороте налево?



1. Должен.
2. Не должен.

10 Какой знак устанавливается в начале дороги, по которой осуществляется движение по всей ширине проезжей части в одном направлении?



A

B


C

D

1. А.
2. В.
3. С.
4. D.

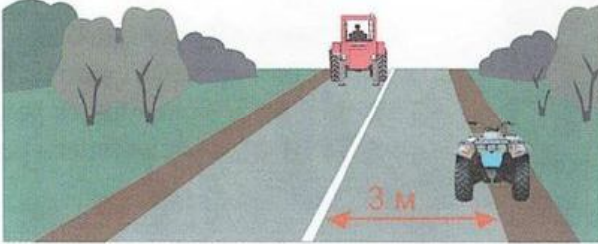
БИЛЕТ 18

11 На каких рисунках изображен перекресток?



1. Только на левом (а).
2. Только на правом (б).
3. На обоих.
4. Ни на одном.

12 Разрешено ли водителю внедорожного мототранспортного средства остановиться в данном месте?



1. Разрешено.
2. Запрещено.

13 Разрешено ли водителю самоходной машины продолжить движение прямо?



1. Разрешено.
2. Запрещено.
3. Разрешено, если он обслуживает предприятия, находящиеся в обозначенной зоне, или граждан, проживающих в обозначенной зоне.

14 На каком расстоянии от неисправного транспортного средства водитель должен выставить знак аварийной остановки вне населенного пункта?



1. Не менее 15 м.
2. Не менее 30 м.
3. Не менее 40 м.
4. Не менее 50 м.

15 Включенный бело-лунный мигающий сигнал светофора на железнодорожном переезде:




1. Разрешает движение транспортных средств через переезд.
2. Разрешает движение после обязательной остановки у светофора.
3. Запрещает движение.

БИЛЕТ 18

16 По требованию каких лиц водители должны проходить освидетельствование на состояние алкогольного опьянения и медицинское освидетельствование на состояние опьянения?


1. Сотрудников Гостехнадзора.
2. Любых сотрудников полиции.
3. Должностных лиц, уполномоченных на осуществление федерального государственного надзора в области безопасности дорожного движения.
4. Всех регулировщиков.

17 В каком месте Вы должны остановиться?



1. У знака «Движение без остановки запрещено».
2. За 5 м до ближайшего рельса.
3. За 10 м до ближайшего рельса.

18 Что обозначает данная вертикальная разметка?



1. Ограничение габаритной высоты транспортных средств.
2. Нижний край пролетного строения тоннелей, мостов и путепроводов.

19 Должен ли водитель самоходной машины при повороте налево уступить дорогу мотоциклу?



1. Должен.
2. Не должен.

20 Разрешено ли водителю трактора с включенным проблесковым маячком оранжевого цвета совершить маневр в техническом разрыве разделительной полосы?



1. Разрешено.
2. Запрещено, так как любое движение по автомагистрали тракторам запрещено.
3. Разрешено при выполнении работ по строительству, ремонту или содержанию дорог при условии обеспечения безопасности дорожного движения.

БИЛЕТ 19

1 Количество полос для движения на проезжей части определяется:



1. Только разметкой.
2. Только соответствующими знаками.
3. Разметкой или знаками, а если их нет, то водителями.

2 Кто должен уступить дорогу при взаимном перестроении?



1. Водитель комбайна.
2. Водитель трактора.

3 Какие знаки устанавливают непосредственно перед железнодорожным переездом?




1. Только А.
2. Только Б.
3. Только В.
4. А, В.

4 Должны ли Вы уступить дорогу встречному грузовому автомобилю?



1. Да.
2. Нет.

5 Эта разметка обозначает:




1. Номер дороги или маршрута.
2. Рекомендуемую скорость движения на данной дороге.
3. Разрешенную максимальную скорость движения на данной дороге.

БИЛЕТ 19

6 Разрешается ли водителю пользоваться телефоном во время движения?

1. Разрешается.
2. Разрешается только при использовании технического устройства, позволяющего вести переговоры без использования рук.
3. Разрешается только при движении со скоростью менее 40 км/ч.
4. Запрещается.

7 Разрешено ли водителю транспортного средства продолжить движение в прямом направлении?




1. Разрешено.
2. Запрещено.
3. Разрешено при обслуживании предприятий в этой зоне.

8 Какие транспортные средства запрещается эксплуатировать без двух противооткатных упоров?

1. Тракторы.
2. Самоходные дорожно-строительные.
3. Самоходные сельскохозяйственные.
4. Прицепы и полуприцепы.
5. Любые из перечисленных.

9 Последним перекресток проедет:




1. Грузовой автомобиль.
2. Легковой автомобиль.
3. Самоходная машина.
4. Гужевая повозка.

10 Какое взыскание накладывается на граждан при несоблюдении требований обязательного страхования гражданской ответственности владельцев транспортных средств?

1. Административный штраф.
2. Лишение права управления транспортными средствами.
3. Предупреждение.
4. Все перечисленные взыскания.

11 Что означает эта горизонтальная разметка?




1. Участок перекрестка, на котором организован диагональный переход пешеходами.
2. Участок перекрестка, на который запрещается выезжать, если впереди образовался затор, который вынудит водителя остановиться, создав препятствие для движения в поперечном направлении.
3. Участок перекрестка, выезд на который разрешен только для поворота направо.

12 Как должен поступить водитель трактора в данной ситуации?



1. Продолжить движение.
2. Снизить скорость, при необходимости остановиться и пропустить группу детей.

13 Разрешено ли водителю транспортного средства остановиться в данном месте?




1. Да.
2. Нет.

14 Разрешено ли Вам сквозное движение в обозначенной знаком зоне?



1. Разрешено.
2. Запрещено.

15 Разрешается ли Вам продолжить движение, если регулировщик поднял руку вверх после того, как Вы въехали на перекресток?



1. Запрещается.
2. Разрешается, только если Вы поворачиваете направо.
3. Разрешается.

БИЛЕТ 19

- 16 Обязан ли водитель трактора уступить дорогу грузовому автомобилю при его перестроении?



1. Обязан.
2. Не обязан.

- 17 Разрешен ли обгон трактора в данном месте?



1. Разрешен.
2. Запрещен.

- 18 Разрешено ли водителю трактора объехать стоящий перед железнодорожным переездом легковой автомобиль?



1. Разрешено.
2. Запрещено.

- 19 С какой полосы Вы должны совершить поворот налево?



1. С крайней правой.
2. Со средней.
3. С любой.

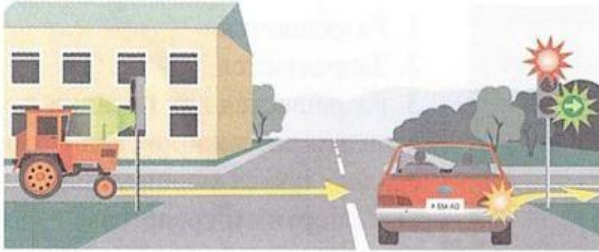
- 20 В каких направлениях разрешено продолжить движение?



1. Только А.
2. Только Б.
3. Только В.
4. Во всех направлениях.


БИЛЕТ 20

1. Первым проедет перекресток:



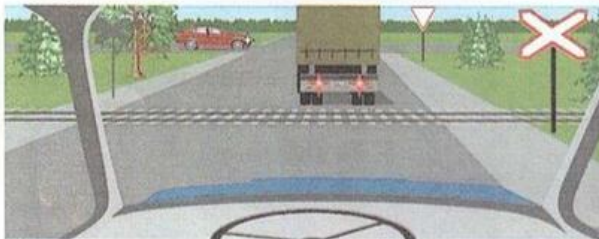
1. Легковой автомобиль.
2. Трактор.

2. Разрешена ли остановка под эстакадой?



1. Разрешена.
2. Запрещена.

3. Разрешено ли продолжение движения через железнодорожный переезд?



1. Разрешено.
2. Разрешено при отсутствии приближающегося поезда.
3. Запрещено.

4. Как Вы должны поступить, если идущее впереди транспортное средство замедлило свой ход перед пешеходным переходом?




1. Продолжить движение с прежней скоростью.
2. Снизить скорость или остановиться и продолжить движение, уступив дорогу пешеходам.

5. Разрешен ли обгон на перекрестках?

1. Разрешен только на нерегулируемых перекрестках.
2. Разрешен только на нерегулируемых перекрестках при движении по главной дороге.
3. Запрещен во всех случаях.

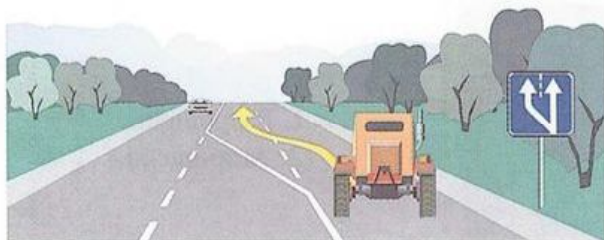
БИЛЕТ 20

6 Разрешается ли останавливаться на полосе, обозначенной этим знаком?



1. Разрешается.
2. Запрещается.
3. Разрешается для посадки и высадки пассажиров, если это не создаст помех маршрутным транспортным средствам.

7 Разрешено ли Вам продолжить движение по второй полосе?



1. Разрешено.
2. Запрещено.
3. Разрешено при скорости движения более 40 км/ч.

8 Разрешается ли движение самоходной машины по дорогам, выезды и въезды которых обозначены знаками?



1. Запрещено.
2. Только выполняя работы по строительству, ремонту или содержанию дорог в обозначенной зоне.
3. Разрешено.

9 Что обозначает данная линия разметки?




1. Стоп-линия.
2. Указывает место, где водитель должен при необходимости остановиться, уступив дорогу транспортным средствам, движущимся по пересекаемой дороге.

10 В каких направлениях разрешено продолжить движение?



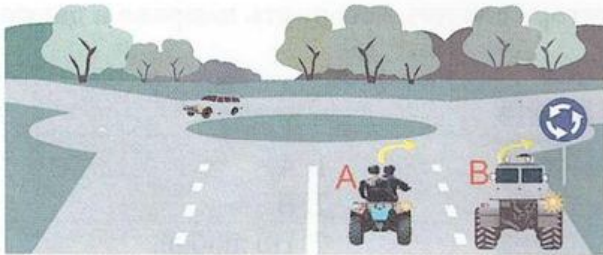
1. А и В.
2. А.
3. Запрещено во всех направлениях.

11 Разрешена ли стоянка транспортного средства в данном месте?



1. Разрешена.
2. Запрещена.

12 Водитель какого транспортного средства правильно въезжает на перекресток с круговым движением?




1. Самоходной машины А.
2. Трактора В.
3. Оба водителя – правильно.
4. Оба водителя – неправильно.

13 Должны ли Вы уступить дорогу самоходной машине?



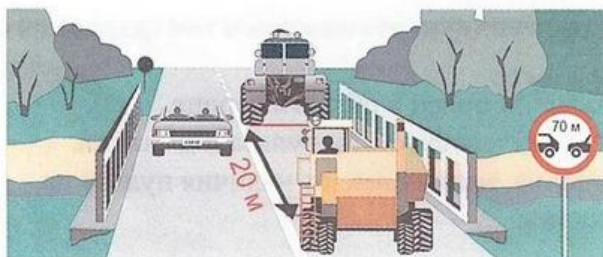
1. Должны.
2. Не должны.

14 В каком направлении водители транспортных средств могут продолжить движение?



1. В любом.
2. В, С.
3. D.

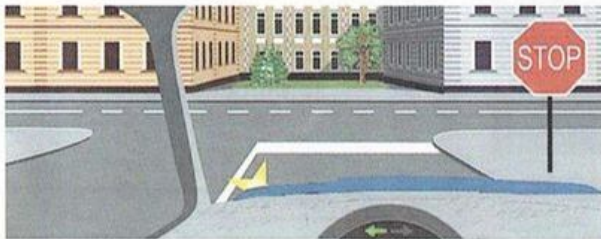
15 Какое нарушение допустил водитель комбайна при движении через мост?



1. Соблюдение дистанции.
2. Боковой интервал.


БИЛЕТ 20

16 Где Вы должны остановиться в данной ситуации при отсутствии других транспортных средств?



1. У знака.
2. У стоп-линии.
3. Проехать перекресток без остановки.

17 По какой траектории водителю трактора следует повернуть направо в данной ситуации?




1. А.
2. В.
3. По любой.

18 Что обозначают прерывистые линии на перекрестке?



1. Обязательное направление движения на перекрестке.
2. Границы полос движения в пределах перекрестка.

19 Два попеременно мигающих красных сигнала светофора:




1. Разрешают движение.
2. Запрещают движение.
3. Разрешают движение с особой осторожностью.

20 Когда необходимо начинать сердечно-легочную реанимацию пострадавшего?

1. При затруднении дыхания и наличии болей в области сердца.
2. При потере пострадавшим сознания и отсутствии пульса и дыхания.
3. При потере пострадавшим сознания, независимо от наличия пульса на сонной артерии и признаков дыхания.


БИЛЕТ 21

1 На каком рисунке изображено механическое транспортное средство?



1. А, В, С.
2. В, С, D.
3. В.
4. На всех.

2 Какие знаки предоставляют Вам преимущество при проезде нерегулируемых перекрестков?



1. Только А.
2. А и В.
3. Все.

3 Какой маневр намеревается выполнить водитель самоходной машины с прицепом?




1. Обгон.
2. Перестроение с дальнейшим опережением.
3. объезд.

4 Какими должны быть действия водителя трактора при перестроении?



1. Имеет право проехать первым, чтобы объехать препятствие.
2. Должен пропустить автомобиль, движущийся по соседней полосе.

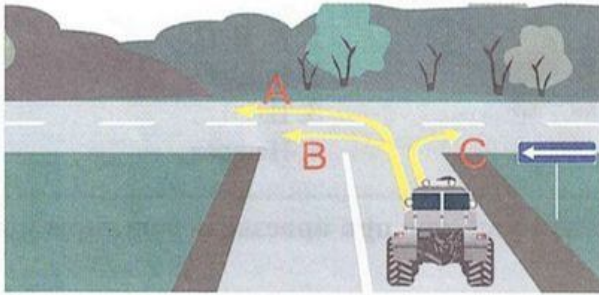
5 Что означает данный сигнал светофора?



1. Разрешает движение в направлении А, В.
2. Разрешает движение только в направлении В.
3. Разрешает движение только в направлении А.

БИЛЕТ 21

6 По какой траектории водитель имеет право продолжить движение?




1. А.
2. А и В.
3. С.
4. По любой траектории.

7 Сколько пересечений проезжих частей имеет этот перекресток?



1. Одно.
2. Два.
3. Четыре.

8 Разрешается ли перевозить людей на грузовом прицепе?



1. Разрешается, если они сопровождают груз.
2. Разрешается только при наличии оборудованных мест для сидения.
3. Запрещается.

9 При совершении административного правонарушения, которое влечет за собой задержание транспортного средства, оно задерживается до:

1. Составления протокола об административном нарушении.
2. Вступления постановления в законную силу в соответствии с составленным протоколом.
3. Устранения причины задержания.

10 Разрешено ли людям находиться в кабине буксируемого транспортного средства при буксировке методом частичной погрузки?

1. Разрешено.
2. Запрещено.
3. На усмотрение водителя.

11 Что должен знать и соблюдать участник дорожного движения?

1. Требования Правил, относящихся к нему.
2. Значения разметки, знаков, светофора.
3. Выполнять распоряжения регулировщиков, действующих в пределах предоставленных им прав и регулирующих дорожное движение установленными сигналами.
4. Соблюдать все перечисленные требования.

12 Этот дорожный знак указывает:



1. Расстояние до конца тоннеля.
2. Расстояние до места аварийной остановки.
3. Направление движения к аварийному выходу и расстояние до него.

13 В каком направлении Вам разрешено движение на перекрестке?




1. Движение разрешено только направо.
2. Движение разрешено только налево.
3. Запрещено.

14 Кто из водителей нарушил правила остановки?



1. Только водитель трактора.
2. Только водитель грузового автомобиля.
3. Оба нарушили.

15 Разрешено ли буксировать автобус при нахождении пассажиров в салоне?



1. Разрешено.
2. Запрещено.

БИЛЕТ 21

16 Вы намерены проехать перекресток в прямом направлении. Ваши действия?



1. Уступите дорогу легковому автомобилю.
2. Проедете перекресток первым.

17 Разрешается ли водителям самоходных машин занимать место в организованной транспортной колонне?

1. Разрешается.
2. Разрешается, если колонна состоит из тихоходных транспортных средств.
3. Запрещается.

18 Должны ли Вы остановиться по требованию регулировщика в указанном им месте?



1. Да.
2. Да, но только с заездом на тротуар.
3. Нет.

19 Разрешена ли остановка в указанном месте?



1. Разрешена.
2. Запрещена.

20 Что обозначает этот знак?



1. Приближение к перекрестку, на котором организован диагональный переход проезжей части пешеходами.
2. Приближение к перекрестку, выезд на который разрешен только после остановки перед стоп-линией.
3. Приближение к перекрестку, на который запрещается выезжать, если впереди по пути следования образовался затор, за исключением поворота направо или налево.

БИЛЕТ 22

- 1 С какой максимальной скоростью Вы можете продолжить движение после знака, если буксируете неисправное механическое транспортное средство?



1. 30 км/ч.
2. 50 км/ч.
3. 70 км/ч.
4. 90 км/ч.

- 2 В каком случае Вы можете прибегнуть к резкому торможению?

1. Только для остановки перед перекрестком или пешеходным переходом, когда включился запрещающий сигнал светофора.
2. Только для предотвращения дорожно-транспортного происшествия.
3. В обоих перечисленных случаях.

- 3 Какой знак используется для обозначения границ искусственной неровности?



А



Б



В

1. Только А.
2. Только Б.
3. Б и В.

- 4 Вы намерены развернуться на перекрестке. Ваши действия?



1. Уступите дорогу только легковому автомобилю и развернетесь.
2. Уступите дорогу обоим транспортным средствам и развернетесь.

- 5 Кто из водителей нарушает правила дорожного движения?



1. Все водители.
2. Никто из водителей.
3. Только водитель трактора.
4. Только водитель легкового автомобиля.
5. Водители грузового автомобиля и трактора.

БИЛЕТ 22

6 Последним перекресток проедет:



1. Гужевая повозка.
2. Комбайн.
3. Внедорожное мототранспортное средство.

7 Должны ли Вы уступить дорогу пешеходам вне населенного пункта?



1. Должны.
2. Не должны.

8 Разрешено ли движение по данной полосе?




1. Разрешено.
2. Запрещено.

9 При какой неисправности запрещается движение самоходной машины?

1. Негорящих (отсутствующих) фарах и задних габаритных огнях в темное время суток или в условиях недостаточной видимости.
2. Стеклоочиститель не работает в установленном режиме во время дождя или снегопада.
3. Неисправен датчик указателя температуры охлаждающей жидкости двигателя.

10 В каких направлениях разрешено продолжить движение?




1. Во всех направлениях.
2. С и D.
3. Во всех, кроме А.
4. Движение запрещено.

- 11 Разрешено ли продолжение движения через железнодорожный переезд при открытом шлагбауме и запрещающем сигнале светофора?



1. Разрешено, если Вы убедились в отсутствии приближающегося поезда.
2. Запрещено.

- 12 Должен ли водитель трактора уступить дорогу грузовому автомобилю?



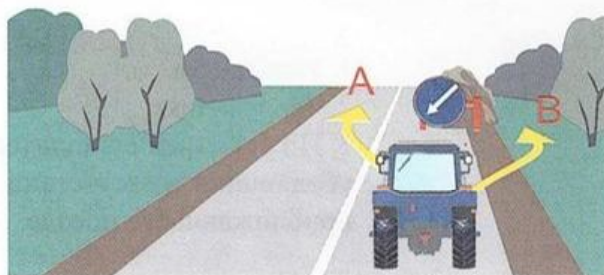
1. Должен.
2. Не должен.

- 13 Что означают данные знаки?



1. Парковочное место для мотоциклов и автомобилей, на которых установлен опознавательный знак «Инвалид».
2. Парковочное место, кроме мотоциклов и автомобилей, на которых установлен опознавательный знак «Инвалид».

- 14 По какой траектории водитель самоходной машины может объехать препятствие?



1. По траектории А.
2. По траектории В.
3. По любой.

- 15 Какой из знаков распространяет свое действие только на ту полосу, над которой он установлен?



1. Только А.
2. Только Б.
3. Б и В.

БИЛЕТ 22

16 Разрешено ли поставить самоходную машину на стоянку в данном месте?




1. Разрешено.
2. Запрещено.
3. Разрешено для самоходных машин, обслуживающих предприятия, находящиеся в обозначенной зоне.

17 Кто проедет перекресток первым?



1. Трактор.
2. Легковой автомобиль.

18 Что означает данный знак?



1. Остановка запрещена.
2. Стоянка запрещена.
3. Стоянка запрещена по четным числам месяца.
4. Стоянка запрещена по нечетным числам месяца.

19 Разрешено ли водителю самовольно открывать шлагбаум?



1. Разрешено.
2. Запрещено.
3. По усмотрению водителя, убедившись в отсутствии приближающегося поезда.

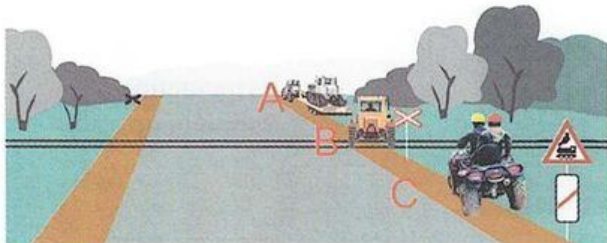
20 Разрешено ли водителю самоходной машины остановиться в данном месте?



1. Разрешено.
2. Запрещено.

БИЛЕТ 23

1 В каком месте запрещена остановка транспортных средств?



1. А.
2. В.
3. В и С.
4. Во всех местах.

2 На каком расстоянии до опасного участка дороги в населенном пункте устанавливаются эти знаки?




1. 15 – 20 м.
2. 50 – 100 м.
3. 100 – 150 м.
4. 150 – 300 м.

3 Должна ли самоходная машина уступить дорогу грузовому автомобилю?



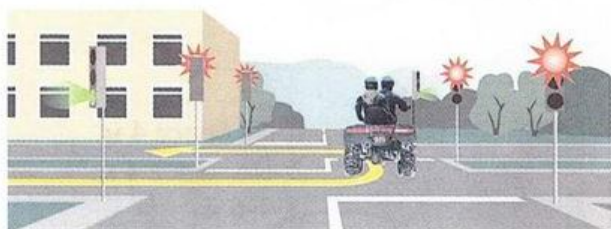
1. Должна.
2. Не должна.

4 Разрешено ли Вам начать обгон идущего впереди транспортного средства в данной ситуации?



1. Разрешено.
2. Запрещено.

5 При каком сигнале светофора водителю разрешено закончить разворот?



1. При зеленом.
2. При красном.
3. При любом.

6 Разрешено ли водителю самоходной машины развернуться на перекрестке?



1. Разрешено.
2. Запрещено.

7 У водителя, совершившего административное правонарушение, при котором лицо лишается права управление транспортными средствами, удостоверение изымается:


1. Немедленно после вынесения постановления о лишении права управления.
2. После вступления постановления в законную силу, если оно не было обжаловано или опротестовано.
3. При выявлении и пресечении правонарушения, влекущего за собой лишение права управления транспортными средствами.

8 Что должен предпринять водитель, покидая свое место и оставляя транспортное средство в этой ситуации?



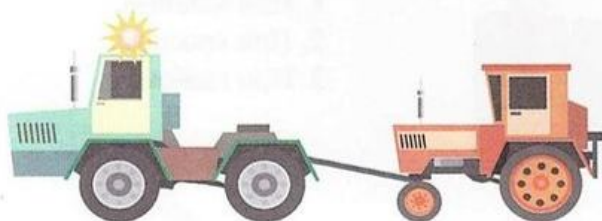
1. Принять меры, исключая самопроизвольное движение транспортного средства.
2. Принять меры, исключая использование транспортного средства посторонними лицами в отсутствие водителя.
3. Верно, п. 1, 2.

9 На каком расстоянии от транспортного средства должен быть выставлен знак аварийной остановки в населенном пункте?



1. Не менее 10 м.
2. Не менее 15 м.
3. Не менее 30 м.
4. Не менее 50 м.


10 Каким должно быть расстояние между транспортными средствами при буксировке на жесткой сцепке?



1. Не более 4 м.
2. Не менее 4 м.
3. 4-6 м.

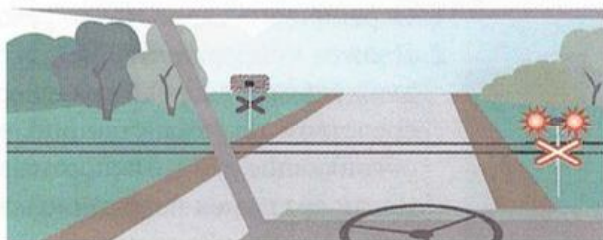
БИЛЕТ 23

11 Что означает данный знак, установленный вне населенного пункта?



1. Начало дороги с закруглением.
2. Через 50-100 м опасный поворот.
3. Через 150-300 м опасный поворот.

12 Разрешено ли продолжить движение через железнодорожный переезд?



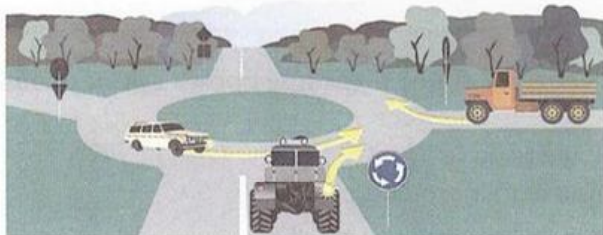
1. Разрешено при отсутствии приближающегося поезда.
2. Запрещено.

13 Что обозначает оранжевая линия разметки?



1. Границы полос в пределах перекрестка.
2. Временная линия разметки, обозначающая полосы движения в пределах перекрестка.
3. Границы полос на перекрестке, где разрешено перестроение.

14 Какое транспортное средство первым проедет перекресток?



1. Легковой автомобиль.
2. Трактор.
3. Грузовой автомобиль.


15 Имеет ли право водитель самоходной машины, включив указатели поворота, сразу начать движение?



1. Имеет, так как гужевая повозка движется медленнее трактора, а он включил указатель поворота.
2. Должен пропустить гужевую повозку, так как включение указателя поворота не дает преимущества перед другими участниками движения.

БИЛЕТ 23

16 Требования каких знаков вступают в силу с места, где они установлены?




1. Только А.
2. Только Б.
3. Только В.
4. А и Б.

17 Что должен соблюдать водитель состава транспортных средств длиной более 7 м?



1. Ограничение скоростного режима.
2. Должен поддерживать между своим и движущимся впереди транспортным средством такую дистанцию, чтобы обгоняющие его транспортные средства могли без помех перестроиться на ранее занимаемую ими полосу.
3. Расположение транспортного средства на проезжей части.

18 Что обозначает разметка «А-100», нанесенная на проезжую часть дороги?

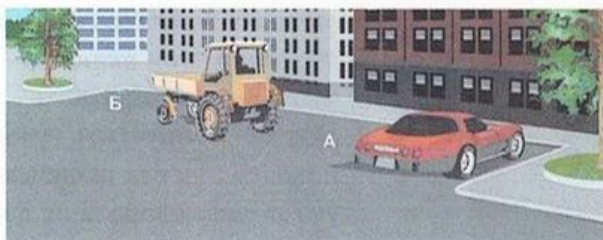


1. Расстояние до ближайшего перекрестка.
2. Расстояние до ближайшего населенного пункта.
3. Номер дороги.

19 При остановке на неосвещенных участках дорог в темное время суток необходимо:

1. Включить габаритные огни.
2. Включить фары ближнего света.
3. Выставить знак аварийной остановки.

20 Кто из водителей нарушил правила стоянки?



1. Водитель автомобиля.
2. Водитель трактора.
3. Никто.

БИЛЕТ 24

1 Сколько перекрестков изображено на рисунке?



1. Один.
2. Два.
3. Четыре.

2 Действие каких знаков распространяется только до ближайшего перекрестка?



А



Б



В



Г

1. А и В.
2. Б и Г.
3. В и Г.
4. Всех указанных знаков.

3 На каком рисунке изображена дорога с разделительной полосой?



А

Б


1. На рисунке А.
2. На рисунке Б.
3. На обоих рисунках.
4. Ни на одном.

4 Разрешено ли водителю транспортного средства выехать на железнодорожный переезд, если за ним образовался затор?



1. Разрешено.
2. Запрещено.
3. Разрешено при отсутствии поезда в пределах видимости.


5 Разрешен ли разворот на указанном участке дороги?



1. Разрешен.
2. Запрещен.
3. Разрешен только при видимости дороги более 100 м.

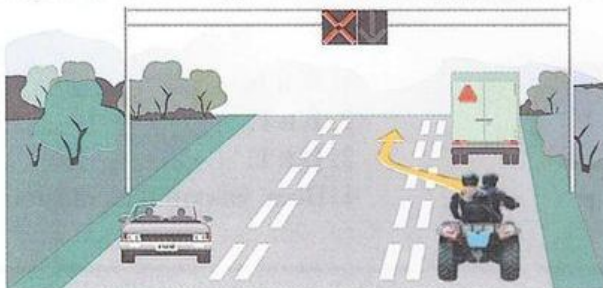
БИЛЕТ 24

6 Что означает данный знак?




1. Дорогу, не имеющую сквозного проезда.
2. На перекрестке справа второстепенная дорога.
3. Направление, где движение запрещено.

7 Разрешено ли водителю самоходной машины выехать на реверсивную полосу?




1. Разрешено.
2. Запрещено.

8 Как должен поступить водитель трактора в данной ситуации?




1. Совершить объезд грузового автомобиля с правой стороны.
2. Подождать, пока грузовой автомобиль совершит маневр, затем продолжить движение.
3. Совершить обгон грузового автомобиля с левой стороны.

9 Какой знак разрешает объезд препятствия только справа?



1. А.
2. А и В.
3. С.
4. D.


10 В каких местах запрещена остановка транспортных средств?



1. На обочине дороги вблизи подъема.
2. На обочине дороги при крутом спуске или подъеме.
3. На проезжей части вблизи выпуклых переломов продольного профиля дороги при видимости дороги менее 100 м, хотя бы в одном направлении.


БИЛЕТ 24

11 Разрешена ли стоянка в данном месте по нечетным числам?




1. Разрешена.
2. Запрещена.
3. Разрешена после 19 ч.

12 Разрешено ли водителю транспортного средства проехать через железнодорожный переезд, если навесное оборудование не фиксируется в транспортном положении?



1. Разрешено.
2. Запрещено.
3. Разрешено, если навесное оборудование не повредит переезд.

13 Что обозначает данная линия разметки?



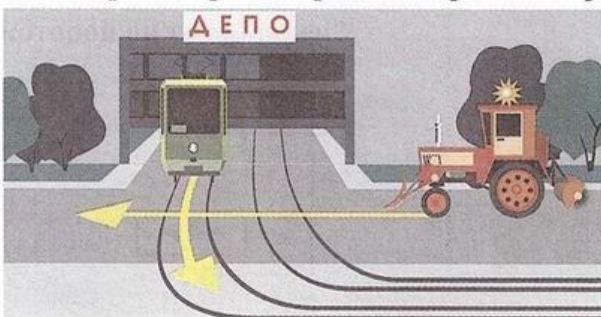
1. Искусственную неровность на проезжей части.
2. Подземный пешеходный переход.
3. Велосипедную дорожку.

14 Вы намерены повернуть налево. Кому следует уступить дорогу?



1. Только автобусу.
2. Только велосипедисту.
3. Никому.


15 Какое транспортное средство проедет первым?



1. Трамвай.
2. Трактор.


БИЛЕТ 24

16 Что обозначает данная вертикальная разметка?



1. Элементы дорожных сооружений, когда эти элементы представляют опасность для движущихся транспортных средств.
2. Габаритные размеры элементов дорожных сооружений.

17 Какой из знаков предоставляет водителю преимущество по отношению к водителям, движущимся по пересекаемой дороге?



1. А.
2. В.
3. С.
4. D.
5. А и В.

18 При затрудненном движении разрешено ли водителю трактора выехать на полосу встречного движения?



1. Разрешено.
2. Запрещено.

19 Разрешено ли водителю трактора останавливаться в данном месте?




1. Разрешено.
2. Запрещено.

20 Разрешено ли водителю самоходной машины продолжить движение, если в пределах видимости приближается поезд?



1. Разрешено.
2. Запрещено.

1 Что обозначает разметка в виде треугольника на полосе движения?



1. Вы въезжаете на опасный участок дороги.
2. Предупреждает о приближении к месту, где нужно уступить дорогу.
3. Показывает место, где необходимо остановиться.

2 При какой неисправности запрещается движение самоходной машины?

1. Отсутствуют ремни безопасности, если их установка предусмотрена конструкцией самоходной машины.
2. Неисправно сцепное устройство при буксировке прицепа, полуприцепа.
3. Неисправен механизм регулировки сиденья водителя.

3 Выполнение какого маневра запрещает Вам данная линия разметки?



1. Обгон.
2. объезд.
3. Разворот.
4. Не запрещает перечисленные маневры.


4 Какие знаки информируют о том, что на данной дороге действуют требования ПДД, устанавливающие порядок движения в населенных пунктах?



А



Б



В

1. Только А.
2. А и Б.
3. Б и В.
4. Все.

5 Разрешен ли Вам разворот в указанном месте?



1. Разрешен.
2. Не разрешен.

БИЛЕТ 25

6 Как должен поступить водитель трактора?



1. Уступить дорогу легковому автомобилю.
2. Первым проехать перекресток.

7 С какой скоростью разрешено движение по дорогам, обозначенным знаками?




1. 60 км/ч.
2. 40 км/ч.
3. 20 км/ч.

8 Должен ли водитель самоходной машины уступить дорогу грузовому автомобилю?



1. Должен.
2. Не должен.

9 Что означают данные знаки?




1. Протяженность узкого участка дороги 300 м.
2. На дороге протяженностью 300 м возможны узкие участки.
3. Расстояние до участка дороги, где запрещается движение транспортных средств, габаритная ширина которых больше указанной на знаке.

10 Начало исчисления срока лишения права управления транспортными средствами:

1. С момента вынесения судом решения о лишении права управления транспортными средствами.
2. С момента внесения в базу лишенных права управления транспортными средствами.
3. С момента сдачи либо изъятия удостоверения органом, исполняющим этот вид административного наказания.

БИЛЕТ 25

11 В каком направлении разрешено движение самоходной машины?



1. В любом направлении с включением проблескового маячка желтого цвета при выполнении работ по содержанию дорог.
2. По траектории А, Б.
3. Только по траектории Б
4. Правильно, 1, 2.
5. Правильно, 1, 3.

12 Что обозначает данный знак?



1. Начало населенного пункта, где не действуют требования правил, устанавливающие порядок движения в населенных пунктах.
2. Начало населенного пункта, где действуют требования правил, устанавливающие порядок движения в населенных пунктах.

13 Разрешено ли Вам в конце подъема перестроиться на среднюю полосу для опережения грузового автомобиля?



1. Разрешено.
2. Запрещено.

14 Что означает сочетание красного и желтого сигналов светофора?

1. Неисправна светофорная сигнализация.
2. Информировать о предстоящем включении зеленого сигнала.
3. Информировать о предстоящем включении красного сигнала.

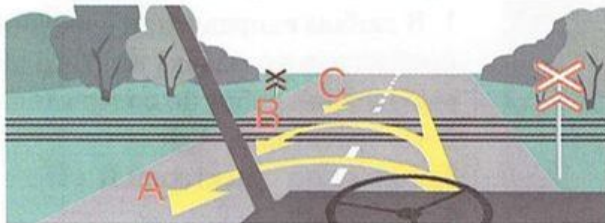
15 На каком расстоянии до спуска или подъема могут устанавливаться эти знаки вне населенного пункта?



1. За 150-300 м до спуска или подъема.
2. В зависимости от знака дополнительной информации, указывающего расстояние.
3. Непосредственно перед спуском или подъемом, если они следуют друг за другом.
4. Возможен любой вариант.


БИЛЕТ 25

16 В каком месте разрешен разворот?




1. А.
2. В.
3. С.
4. А и С.

17 Должен ли водитель самоходной машины уступить дорогу автобусу, начинающему движение от остановки вне населенного пункта?



1. Должен.
2. Не должен.

18 Как Вы должны действовать в данной ситуации?



1. Проехать железнодорожный переезд без остановки перед знаком.
2. Остановиться перед знаком и продолжить движение сразу после проезда поезда.
3. Остановиться перед знаком и продолжить движение, только убедившись в отсутствии приближающегося поезда.

19 Позволяет ли Вам данная разметка выполнить обгон трактора?



1. Да.
2. Да, при скорости трактора менее 30 км/ч.
3. Нет.

20 О чем информирует Вас сигнал светофора в виде стрелки красного цвета?



1. На этом перекрестке всегда запрещен поворот направо.
2. Поворот направо разрешен, но необходимо уступить дорогу пешеходам.
3. При включении зеленого сигнала светофора движение будет разрешено только направо.

БИЛЕТ 26

1. Первым проедет перекресток:



1. Трамвай.
2. Трактор.

2. В каких случаях на транспортном средстве должен быть включен проблесковый маячок оранжевого цвета?



1. При выполнении строительных, ремонтных или уборочных работ на дороге.
2. При перевозке тяжеловесных, крупногабаритных или опасных грузов в случаях, предусмотренных правилами перевозки этих грузов.
3. В обоих перечисленных случаях.

3. По какой полосе разрешено движение вне населенного пункта по дороге, имеющей три полосы в одном направлении, если скорость самоходной машины не превышает 40 км/ч?

1. По крайней правой.
2. По средней при объезде препятствия.
3. По левой при выполнении разворота.
4. Возможен любой из указанных вариантов.

4. Водитель какого транспортного средства правильно выполняет поворот?



1. Трактора А.
2. Трактора В.
3. Оба водителя – правильно.
4. Оба водителя – неправильно.

5. Что означают данные знаки?




1. Запрещают движение тракторов и других самоходных машин в направлении стрелок.
2. Рекомендуемое направление движения тракторов и других самоходных машин.
3. Обязательное направление движения тракторов и других самоходных машин.

6 В каких направлениях разрешено продолжить движение?



1. Во всех.
2. В, С.
3. Движение запрещено.

7 В каком месте Вы должны остановиться?



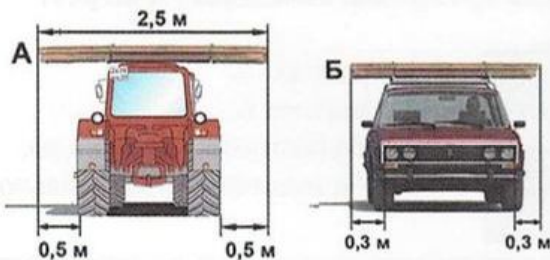
1. Перед знаком «Движение без остановки запрещено» (А).
2. Перед перекрестком (Б).
3. Перед краем пересекаемой проезжей части (В).

8 На каких рисунках показана главная дорога?



1. Только на А, В.
2. Только на В, С.
3. Только на С, D.
4. Только на А, D.
5. На всех.

9 На каком рисунке изображено транспортное средство, водитель которого не нарушает правила перевозки грузов?




1. Только на А.
2. Только на Б.
3. На обоих.

10 Что означает требование «Уступить дорогу»?

1. Вы должны остановиться, чтобы пропустить других участников движения.
2. Вы не должны начинать, возобновлять или продолжать движение, осуществлять какой-либо маневр, если это может вынудить других участников движения, имеющих по отношению к Вам преимущество, изменить направление движения или скорость.
3. Вы должны остановиться только при наличии дорожного знака «Уступите дорогу».

11 Разрешена ли водителю самоходной машины стоянка в данном месте?



1. Разрешена.
2. Запрещена.

12 Разметкой в виде буквы «А» обозначают:




1. Специальную полосу для любых автобусов.
2. Специальную полосу для маршрутных транспортных средств.
3. Место остановки и стоянки любых автобусов.

13 Обязан ли водитель включать указатели поворота, выезжая с бензоколонки?



1. Обязан.
2. Не обязан.
3. По своему усмотрению.

14 Как Вы должны поступить в данной ситуации?



1. Снизить скорость перед пешеходным переходом.
2. Обязаны пропустить слепых пешеходов, подающих сигнал белой тростью.
3. Продолжить движение, так как горит зеленый – разрешающий сигнал светофора.

15 Чем необходимо руководствоваться, если значения временных дорожных знаков и линий разметки противоречат друг другу?

1. Требованиями линий разметки.
2. Требованиями временных дорожных знаков.
3. Правила эту ситуацию не регламентируют.

БИЛЕТ 26

16 Какие знаки запрещают движение тракторов и самоходных машин?



A



B



C



D

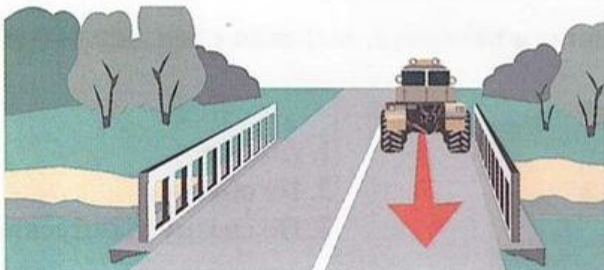
1. А и В.
2. В и С.
3. С и D.
4. Все, кроме D.
5. Только С.

17 Разрешен ли разворот на участках дорог, обозначенных этим знаком?



1. Разворот разрешен только в населенных пунктах.
2. Разворот разрешен только при видимости дороги более 100 м.
3. Разворот запрещен.

18 Разрешено ли движение задним ходом на мосту?




1. Разрешено.
2. Запрещено.
3. По усмотрению водителя.

19 Разрешен ли Вам обгон в данной ситуации?



1. Да.
2. Да, если обгон будет завершен до перекрестка.
3. Нет.

20 Должны ли Вы уступить дорогу пешеходам, идущим к остановившемуся на остановке трамваю?



1. Должны.
2. Не должны.

БИЛЕТ 27

1 Что означает данная разметка?



1. На дороге три полосы для движения в одном направлении.
2. Границы полос движения, на которых осуществляется реверсивное регулирование.

2 На каком расстоянии должен устанавливаться повторный знак до начала опасного участка дороги вне населенного пункта?



1. Не менее 10 м.
2. Не менее 20 м.
3. Не менее 50 м.

3 Какие знаки означают выезд на дорогу с односторонним движением?



A



B




C



D

1. A.
2. B.
3. B, C.
4. C, D.

4 Должен ли водитель самоходной машины уступить дорогу трамваю?



1. Должен.
2. Не должен.

5 Аварийная сигнализация на буксируемом механическом транспортном средстве должна быть включена:



1. Только в условиях недостаточной видимости.
2. Только в темное время суток.
3. Во всех случаях, когда осуществляется буксировка.

БИЛЕТ 27

6 Разрешена ли водителю самоходной машины остановка в данном месте?



1. Да.
2. Нет.

7 По какой траектории Вы можете продолжить движение?



1. Только А.
2. А, С.
3. А, В.
4. По любой.

8 Выезд со двора или с другой прилегающей территории считается:



1. Равнозначным перекрестком.
2. Неравнозначным перекрестком.
3. Не считается перекрестком.

9 Преимущество при движении имеет:



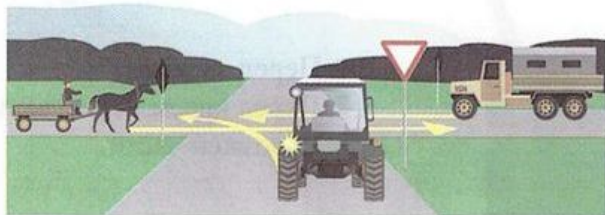
1. Легковой автомобиль.
2. Самоходная машина.

10 Что требуется для возврата водительского удостоверения после истечения срока лишения права управления, назначенного за нарушение норм эксплуатации машин?

1. Только проверка знаний Правил дорожного движения.
2. Проверка знаний Правил дорожного движения и после уплаты наложенных на него административных штрафов за административные правонарушения.
3. Проверка знаний Правил дорожного движения, а также медицинского освидетельствования данного лица на наличие медицинских противопоказаний к управлению транспортным средством.


БИЛЕТ 27

11 Последним перекресток проедет:



1. Грузовой автомобиль.
2. Трактор.
3. Гужевая повозка.

12 Разрешен ли обгон трактора в данном месте?



1. Разрешен.
2. Запрещен.

13 Что означает поднятая вверх рука водителя?



1. Самоходная машина повернет направо.
2. Сигнал водителя о торможении.
3. Самоходная машина будет разворачиваться.

14 Какой знак означает дорогу с полосой для маршрутных транспортных средств?



A



B




C



D

1. А.
2. В.
3. В и С.
4. А и D.

15 В каком месте водителю транспортного средства разрешена остановка?



1. А (за перекрестком).
2. В (напротив бокового проезда).
3. С (перед перекрестком).
4. В любом.
5. А и В.

БИЛЕТ 27

16 В каком месте Вы должны остановиться перед перекрестком?




1. Перед знаком.
2. Перед краем пересекаемой проезжей части.

17 В каких случаях водителю разрешено выезжать на среднюю полосу движения?




1. При обгоне.
2. При объезде.
3. Для поворота налево или разворота.
4. Во всех перечисленных случаях.

18 Разрешено ли транспортному средству в данном месте выехать на поле?



1. Разрешено при отсутствии приближающегося поезда.
2. Запрещено.

19 Разрешено ли водителю самоходной машины остановиться на краю тротуара, граничащего с проезжей частью?



1. Разрешено.
2. Запрещено.
3. Разрешено, если не будут созданы помехи движению пешеходов.

20 Разрешено ли буксировать трактор с недействующей тормозной системой, если его масса превышает половину массы Вашего транспортного средства?



1. Разрешено.
2. Разрешено на жесткой сцепке при скорости не более 30 км/ч.
3. Запрещено.

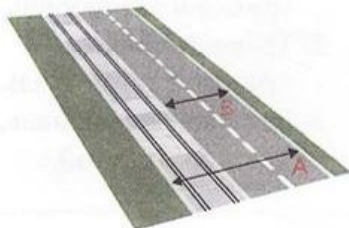
БИЛЕТ 28

- 1 Обязан ли водитель, начиная движение с обочины дороги, включить указатели поворота?



1. Обязан.
2. Не обязан.
3. Обязан при наличии рядом других транспортных средств.

- 2 Какая часть дороги является проезжей частью?




1. Только А.
2. Только В.
3. А и В.

- 3 Разрешено ли движение задним ходом через железнодорожный переезд?



1. Разрешено.
2. Запрещено.

- 4 При повороте налево водитель трактора:



1. Имеет право проехать первым.
2. Должен пропустить трамвай.

- 5 На каком рисунке изображен знак железнодорожного переезда со шлагбаумом?



A



B




C

1. А.
2. А и С.
3. В.
4. С.

6 При отсутствии каких предметов запрещается эксплуатировать трактор?

1. Аптечки.
2. Огнетушителя.
3. Знака аварийной остановки.
4. Противооткатных упоров.
5. При отсутствии любого предмета из перечисленного.

7 Транспортные средства проедут перекресток в следующем порядке:



1. Трактор, трамвай, грузовой автомобиль.
2. Трамвай, трактор, грузовой автомобиль.
3. Грузовой автомобиль, трактор, трамвай.

8 Водитель какого транспортного средства имеет преимущество при движении?



1. Трактора.
2. Грузового автомобиля.

9 Данная вертикальная разметка:



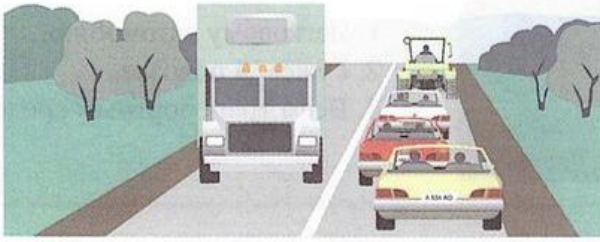
1. Запрещает стоянку транспортных средств.
2. Запрещает остановку транспортных средств.
3. Обозначает бордюры на опасных участках дорог.

10 Кто из водителей имеет преимущество в движении?




1. Водитель трактора с включенным проблесковым оранжевым маячком.
2. Водитель легкового автомобиля с включенным проблесковым маячком синего цвета и специальным звуковым сигналом.

- 11 Как должен поступить водитель тихоходного транспортного средства, если при движении вне населенного пункта за ним скопились транспортные средства?



1. Продолжить движение.
2. Принять как можно правее, а при необходимости остановиться и пропустить скопившиеся транспортные средства.

- 12 Разрешено ли Вам продолжить движение?



1. Разрешено прямо и направо.
2. Разрешено в любом направлении.
3. Запрещено.

- 13 В каких направлениях разрешено продолжить движение?



1. А.
2. В.
3. С.
4. А и В.
5. В любых из указанных направлений.

- 14 Разрешено ли водителю трактора продолжить движение по данной полосе при выполнении уборочных работ?




1. Разрешено.
2. Запрещено.

- 15 Значения каких дорожных знаков отменяются сигналами светофора?

1. Знаков приоритета.
2. Запрещающих знаков.
3. Предписывающих знаков.
4. Всех перечисленных.


БИЛЕТ 28

16 При движении прямо Вы обязаны уступить дорогу:




1. Легковому автомобилю.
2. Гужевой повозке.
3. Всем транспортным средствам.

17 По какой траектории водитель может совершить поворот направо?



1. А.
2. В.
3. По любой.

18 Как Вы должны поступить в данном случае?




1. Продолжить движение, посигналив пешеходам.
2. Уступить дорогу пешеходам.

19 Разрешено ли Вам обогнать трактор?



1. Разрешено.
2. Разрешено, если обгон завершится до перекрестка.
3. Запрещено.

20 Разрешено ли водителю транспортного средства останавливаться перед знаком?



1. Разрешено.
2. Запрещено.
3. Разрешено при условии, что оно не закроет знак от других водителей.

1


Как должно быть обозначено транспортное средство при выполнении строительных, ремонтных или уборочных работ на дороге?



1. Включен проблесковый маячок оранжевого или желтого цвета.
2. Включен проблесковый маячок синего цвета.
3. Включен дальний свет фар.

2

Разрешено ли водителю самоходной машины совершить обгон гужевой повозки в конце подъема?



1. Разрешено, если нет встречного транспорта.
2. Запрещено.

3

С какой максимальной скоростью может продолжить движение самоходная машина?



1. 60 км/ч.
2. 40 км/ч.
3. 30 км/ч.
4. 50 км/ч.

4

При какой неисправности запрещается движение самоходной машины?

1. Неисправно рулевое управление.
2. Разбито или отсутствует хотя бы одно из внешних зеркал заднего вида.
3. Неисправен датчик указателя уровня топлива.

5

Какое транспортное средство проедет перекресток первым?



1. Трактор.
2. Автомобиль с включенным проблесковым маячком синего цвета.

БИЛЕТ 29

6 Что требуется для возврата водительского удостоверения после истечения срока лишения права управления, назначенного водителю за управление транспортным средством находящимся в состоянии опьянения?

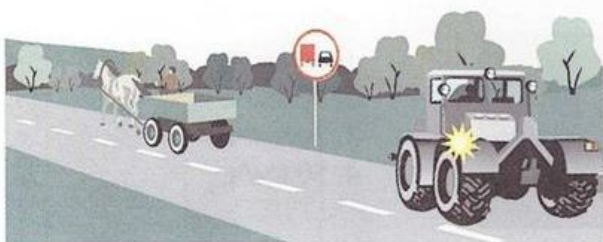
1. Проверка знаний Правил дорожного движения.
2. Оплата в установленном порядке наложенных на водителя административных штрафов за правонарушения в области дорожного движения.
3. Обязательное медицинское освидетельствование данного лица на наличие медицинских противопоказаний к управлению транспортным средством.
4. Все перечисленные требования обязательны.

7 О чем предупреждает данная линия разметки с изображением стрелки?



1. О приближении к сужению проезжей части.
2. О возможности перестроения на другую полосу движения.
3. О приближении к перекрестку с поворотом направо.

8 Разрешено ли водителю самоходной машины совершить обгон гужевой повозки?




1. Разрешено.
2. Запрещено.

9 Разрешена ли стоянка транспортного средства в указанном месте?



1. Разрешена.
2. Запрещена.

10 При движении прямо нужно ли уступать дорогу встречному автомобилю, поворачивающему налево?




1. Нужно.
2. Не нужно.

11 Разрешено ли Вам проехать железнодорожный переезд?



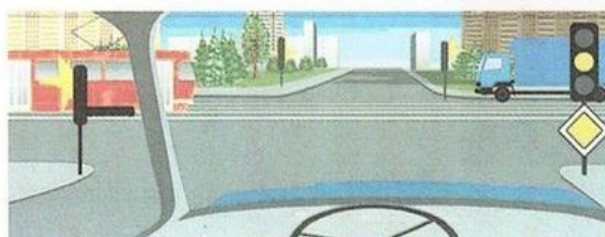
1. Да, так как дежурный по переезду запрещает движение только встречному автомобилю.
2. Да, если отсутствует приближающийся поезд.
3. Запрещено.

12 Следует ли уступить дорогу грузовому автомобилю на перекрестке с круговым движением?



1. Да.
2. Нет.

13 Как Вы намерены продолжить движение прямо при желтом мигающем сигнале светофора?



1. Проехать перекресток первым.
2. Уступить дорогу только грузовому автомобилю.
3. Уступить дорогу только трамваю.
4. Уступить дорогу обоим транспортным средствам.

14 Какой знак запрещает дальнейшее движение всех без исключения транспортных средств?



А



Б



В

1. А.
2. Б.
3. В.

15 Какую скорость должен соблюдать водитель при возникновении опасности для движения?

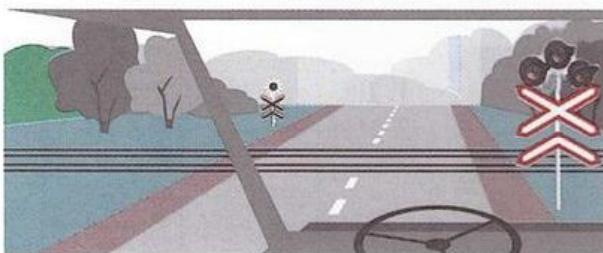
1. Предельно малую.
2. Должен принять необходимые меры к снижению скорости, вплоть до остановки транспортного средства.
3. Продолжить движение не снижая скорости, чтобы покинуть опасное место.

БИЛЕТ 29

16 Какими знаками Вы должны руководствоваться, если значения временных и стационарных дорожных знаков противоречат друг другу?

1. Значениями временных знаков.
2. Значениями стационарных знаков.

17 При выключенных мигающих бело-лунном и красном сигналах светофора на железнодорожном переезде:



1. Разрешается движение транспортных средств через переезд.
2. Разрешается движение при отсутствии в пределах видимости приближающегося к переезду поезда (локомотива, дрезины).
3. Движение через переезд запрещается.

18 По какой полосе разрешено продолжить движение водителю самоходной машины вне населенного пункта?



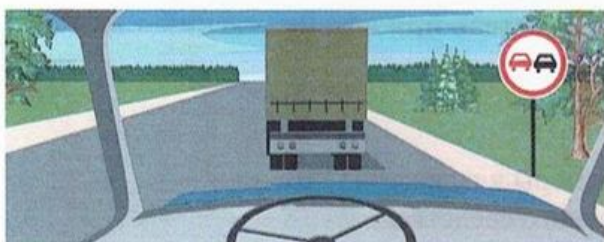
1. По любой.
2. По крайней правой.

19 Что обозначает широкая прерывистая линия разметки?



1. Границу между полосой торможения и основной полосой проезжей части.
2. Разделяет полосы на проезжей части.
3. Обозначает полосы движения в пределах перекрестка.


20 Разрешен ли в данной ситуации обгон?



1. Запрещен.
2. Разрешен, если скорость грузового автомобиля менее 30 км/ч.
3. Разрешен.

БИЛЕТ 30

1 Какие знаки действуют на той стороне дороги, на которой они установлены?




1. А и В.
2. С и D.
3. Е.
4. Все, кроме Е.

2 Кто из водителей, совершающих поворот, нарушает правила?




1. Водитель легкового автомобиля.
2. Водитель самоходной машины.
3. Оба нарушают.
4. Оба не нарушают.

3 Двигаясь прямо, при желтом мигающем сигнале светофора, Вы должны:



1. Продолжить движение после включения зеленого сигнала светофора.
2. Уступить дорогу гужевой повозке.
3. Проехать перекресток одновременно со встречным автомобилем.

4 Что означает данная желтая линия разметки?



1. Остановка маршрутных транспортных средств.
2. Стоянка такси.
3. Остановка маршрутных транспортных средств и стоянка такси.
4. Место, где запрещена стоянка.

5 Что обязаны сделать в первую очередь водители, причастные к ДТП?

1. Немедленно остановить транспортное средство, включить аварийную световую сигнализацию, выставить знак аварийной остановки, не перемещать предметы, имеющие отношение к происшествию.
2. Принять возможные меры для оказания доврачебной медицинской помощи пострадавшим.
3. Освободить проезжую часть.
4. Все перечисленное.


БИЛЕТ 30

6 Разрешена ли Вам остановка в указанном месте?




1. Разрешена.
2. Разрешена только с заездом на тротуар.
3. Разрешена, если не создается помех маршрутным транспортным средствам.
4. Не разрешена.

7 В каких направлениях Вам разрешено продолжить движение?




1. Только Б.
2. Только А или Б.
3. В любых.

8 Следует ли Вам уступить дорогу грузовому автомобилю?




1. Да.
2. Нет.

9 В каком месте Вам разрешено обогнать тихоходное транспортное средство?



1. Перед железнодорожным переездом.
2. На железнодорожном переезде.
3. За железнодорожным переездом.

10 На какие транспортные средства распространяются сигналы такого светофора?



1. Только на трамваи.
2. На трамваи, а также другие маршрутные транспортные средства, движущиеся по выделенной для них полосе.
3. На все маршрутные транспортные средства.

11 При включении зеленого сигнала светофора Вы должны:




1. Убедиться в отсутствии пешеходов, завершающих переход проезжей части, после чего начать движение.
2. Уступить дорогу транспортным средствам, завершающим движение через перекресток, после чего начать движение.
3. Необходимо выполнить все перечисленное.

12 Какой знак разрешает левый поворот?




1. А.
2. А и В.
3. С.
4. D.
5. С и D.

13 В каком месте Вы должны остановиться в данной ситуации?



1. У знака «Движение без остановки запрещено».
2. У знака «Однопутная железная дорога».
3. За 5 м до первого рельса.
4. В любом месте.

14 Каким транспортным средствам разрешено движение прямо?



1. Только трактору и грузовому автомобилю.
2. Только грузовому автомобилю.
3. Только грузовому автомобилю и автобусу.
4. Всем транспортным средствам.

15 Нарушили ли водители грузового автомобиля и трактора правила стоянки?



1. Нарушили оба водителя.
2. Нарушил только водитель трактора.
3. Нарушил только водитель грузовика.
4. Никто не нарушил.

БИЛЕТ 30

- 16 Должен ли водитель трактора уступить дорогу трамваю, приближающемуся слева?




1. Должен.
2. Не должен.

- 17 Что означает желтый мигающий сигнал светофора?




1. Перекресток считается нерегулируемым.
2. Скоро включится красный сигнал светофора.
3. Скоро включится зеленый сигнал светофора.

- 18 Водитель какого транспортного средства должен проехать первым?



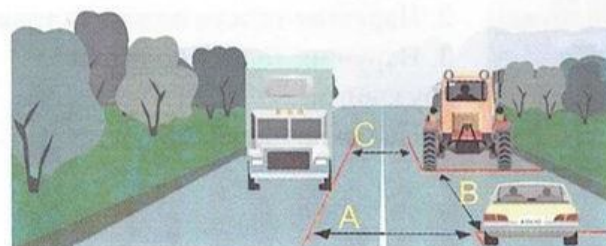
1. Водитель трактора.
2. Водитель грузового автомобиля.

- 19 Какое транспортное средство первым проедет перекресток?



1. Автомобиль.
2. Самоходная машина.

- 20 Где указана дистанция между транспортными средствами?



1. А и С.
2. В.
3. А, В и С.

1. Правильно ли остановился водитель самоходной машины?



1. Правильно.
2. Неправильно.

2. Когда могут применяться звуковые сигналы при движении вне населенных пунктов?



1. Только для предупреждения других водителей об обгоне.
2. Для предотвращения дорожно-транспортного происшествия.
3. Верно, п.1, 2.

3. Нарушил ли водитель самоходной машины правила остановки?



1. Нарушил.
2. Не нарушил.

4. Должны ли Вы уступить дорогу легковому автомобилю?



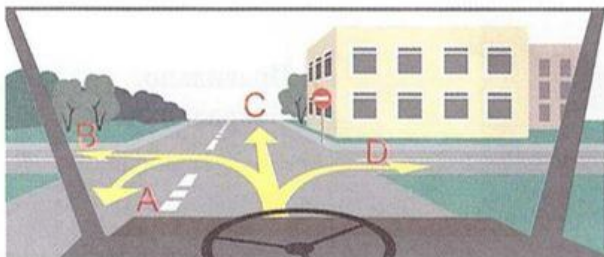
1. Должны.
2. Не должны.

5. По какой траектории Вы можете совершить разворот?



1. А.
2. В.
3. А и В.

6 В каких направлениях разрешено продолжить движение?



1. В и D.
2. В, С, D.
3. В любых, кроме С.

7 Разрешено ли водителю самоходной машины продолжить движение по дороге, обозначенной данным знаком?



1. Разрешено.
2. Запрещено.
3. Разрешено в крайнем правом ряду.

8 Сколько проезжих частей имеет данная дорога?



1. Одну.
2. Две.
3. Четыре.

9 Обязаны ли Вы уступить дорогу автомобилю с включенным проблесковым маячком синего цвета и специальным звуковым сигналом?



1. Обязаны.
2. Не обязаны.

10 Чем должны руководствоваться водители и пешеходы, если сигналы регулировщика противоречат сигналам светофора, дорожным знакам и разметке?

1. Сигналами регулировщика.
2. Знаками и разметкой.
3. Сигналами светофора.

БИЛЕТ 31

11 Разрешено ли совершить разворот в этом месте?



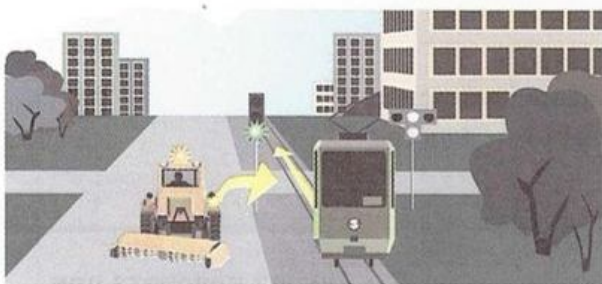
1. Разрешено.
2. Запрещено, так как пересекается сплошная линия.

12 Разрешена ли водителю самоходной машины стоянка в данном месте?




1. Разрешена.
2. Запрещена.

13 Кто имеет преимущество при движении?



1. Трамвай.
2. Трактор.

14 Должен ли водитель при движении по данному участку дороги включить левый указатель поворота?




1. Должен.
2. Не должен, так как сигнал введет в заблуждение других участников движения.

15 Разрешено ли движение задним ходом на перекрестке?

1. Разрешено.
2. Разрешено лишь при отсутствии попутных и встречных транспортных средств.
3. Запрещено.


БИЛЕТ 31

16 Какое транспортное средство проедет перекресток вторым?



1. Легковой автомобиль.
2. Самоходная машина.
3. Комбайн.

17 В каком месте разрешен разворот?




1. А.
2. В.
3. С.
4. А и С.

18 Какое административное взыскание влечет за собой управление транспортным средством, не зарегистрированным в установленном порядке?

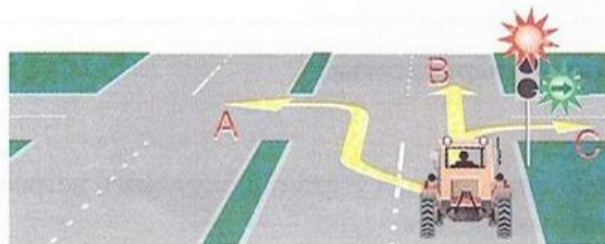
1. Административный штраф.
2. Административное предупреждение.
3. Задержание транспортного средства.

19 Должен ли водитель транспортного средства подать сигнал поворота при выезде с поля на укатанную дорогу?



1. Должен.
2. Не должен.
3. По его усмотрению.

20 В каком направлении разрешено продолжить движение на перекрестке?



1. В любом.
2. В и С.
3. С.

БИЛЕТ 32

1 В какой последовательности проедут перекресток транспортные средства?




1. Трактор, затем грузовой автомобиль.
2. Трактор первым выезжает на перекресток, а после проезда грузового автомобиля заканчивает разворот.

2 Разрешено ли въехать на пешеходный переход, если за ним образовался затор?



1. Разрешено.
2. Запрещено.
3. По усмотрению водителя.

3 Разрешено ли проехать через железнодорожный переезд, если скорость движения транспортного средства менее 8 км/ч?




1. Разрешено.
2. Запрещено.
3. Разрешено только с разрешения начальника дистанции пути железной дороги.

4 Каким способом запрещена буксировка механических транспортных средств в гололед?

1. Методом частичной погрузки.
2. На гибкой сцепке.
3. На жесткой сцепке.

5 Нарушают ли пешеходы ПДД, двигаясь по проезжей части?



1. Нарушают.
2. Не нарушают.

БИЛЕТ 32

- 6 Каким способом должно быть обозначено буксируемое транспортное средство при неисправной аварийной световой сигнализации?



1. Должны быть включены внешние световые приборы.
2. На задней части должен быть закреплен знак аварийной остановки.
3. На задней части должен быть закреплен знак «Прочие опасности».

- 7 Разрешено ли водителю самоходной машины остановиться в данном месте в населенном пункте?




1. Разрешено.
2. Запрещено.

- 8 На каком расстоянии необходимо переключить дальний свет фар на ближний?




1. Не менее чем за 150 м.
2. Не менее чем за 300 м.
3. По усмотрению водителя.

- 9 Какое транспортное средство имеет преимущество в движении в населенных пунктах?




1. Трактор, движущийся без изменения направления по своей полосе.
2. Автобус, начинающий движение от обозначенной остановки.

- 10 Нарушает ли водитель самоходного комбайна правила, двигаясь по середине дороги?



1. Не нарушает.
2. Не нарушает, если отсутствуют встречные транспортные средства.
3. Нарушает.

- 11 Каким должно быть расстояние между транспортными средствами при буксировке на гибкой сцепке?



1. 2-4 м.
2. 4-6 м.
3. 6-8 м.
4. Не менее 6 м.

- 12 Какие внешние световые приборы должны быть включены при въезде в тоннель?



1. Габаритные огни.
2. Аварийная световая сигнализация.
3. Ближний или дальний свет фар.

- 13 Какими знаками обозначают участки, на которых необходимо уступать дорогу пешеходам?



А




Б



В

1. Только А и Б.
2. Только Б и В.
3. Всеми знаками.

- 14 Разрешено ли Вам на перекрестке обогнать водителя мотоцикла, у которого включена аварийная сигнализация?



1. Разрешено.
2. Запрещено.


- 15 Нарушил ли водитель правила перевозки грузов?



1. Нарушил, так как выступающий сзади груз не обозначен знаком «Крупногабаритный груз».
2. Не нарушил.

БИЛЕТ 32

- 16 Разрешено ли продолжить движение через перекресток прямо, если Вы не живете и не работаете в зоне действия данного знака?




1. Разрешено.
2. Запрещено.
3. Разрешено в субботние, воскресные и праздничные дни.

- 17 Должен ли водитель транспортного средства уступить дорогу автомобилю с включенным проблесковым маячком синего цвета и невключенной специальной звуковой сигнализацией?



1. Должен.
2. Не должен.

- 18 Что обозначают знаки?



1. Через 500 м – опасные повороты.
2. Через 150-300 м – участок дороги с опасными поворотами протяженностью 500 м.

- 19 Разрешена ли Вам подача звукового сигнала в населенном пункте?




1. Разрешена.
2. Запрещена.
3. Разрешена для предотвращения ДТП.

- 20 При каких видах повреждений обязательно лежачее положение пострадавшего при транспортировке?

1. При переломах позвоночника, костей таза, нижних конечностей.
2. При черепно-мозговой травме, проникающем ранении брюшной полости.
3. Во всех перечисленных случаях.


БИЛЕТ 33

- 1 Должен ли водитель трактора уступить дорогу маршрутному такси, начинающему движение от тротуара вне обозначенного места остановки?



1. Должен.
2. Не должен.

- 2 Разрешено ли Вам продолжить движение?



1. Разрешено.
2. Запрещено.

- 3 Как должен поступить в данной ситуации водитель самоходной машины?




1. Проехать первым.
2. Пропустить грузовой автомобиль.

- 4 Последним перекресток проедет:




1. Легковой автомобиль.
2. Грузовой автомобиль.
3. Трактор.

- 5 Что обозначает данный знак?



1. Предварительный указатель перестроения на другую проезжую часть.
2. Указатель перестроения на другую полосу движения.
3. Предварительный указатель перестроения на другую дорогу.

- 6 В каком из указанных мест можно пересечь сплошную линию разметки и остановиться?



1. Только А.
2. Только Б.
3. В любом.
4. Ни в одном.

- 7 Укажите очередность проезда перекрестка транспортными средствами.



1. Легковой автомобиль одновременно с гужевой повозкой, трактор.
2. Легковой автомобиль, трактор, гужевая повозка.
3. Трактор, гужевая повозка, легковой автомобиль.

- 8 Должен ли водитель самоходной машины уступить дорогу легковому автомобилю?



1. Должен.
2. Не должен.

- 9 Какой знак должен быть закреплен на задней части буксируемого механического транспортного средства при отсутствии или неисправности аварийной сигнализации?



А



Б




В

1. А.
2. Б.
3. В.

- 10 Повторное совершение административного правонарушения в течение календарного года, выразившееся в управлении транспортным средством, не зарегистрированным в установленном порядке, влечет за собой административное наказание:


1. Только в виде административного штрафа.
2. Только в виде административного предупреждения.
3. Только в виде лишения права управления транспортным средством.
4. В виде административного штрафа или лишения права управления транспортным средством.

11 Должны ли Вы уступить дорогу грузовому автомобилю?



1. Да.
2. Нет.

12 Разрешено ли водителю развернуться в тоннеле?




1. Разрешено.
2. Запрещено.

13 В каком месте должен остановиться водитель при запрещающем сигнале светофора?



1. Перед светофором.
2. Перед пересекаемой проезжей частью.
3. Перед стоп-линией.

14 Разрешено ли водителю трактора обогнать гужевую повозку?



1. Разрешено.
2. Запрещено.


15 На каком расстоянии до опасного участка устанавливается знак «Железнодорожный переезд без шлагбаума» вне населенного пункта?



1. 150-300 м.
2. 100-150 м.
3. 50-100 м.


БИЛЕТ 33

16 Разрешена ли Вам стоянка в указанном месте?



1. Разрешена.
2. Разрешена, но только в светлое время суток.
3. Запрещена.

17 Данный светофор применяется для регулирования движения:



1. По всем полосам проезжей части.
2. По полосам проезжей части, направление движения по которым может быть изменено на противоположное.
3. По полосам, предназначенным для маршрутных транспортных средств.

18 В каком случае Вы имеете право выехать на перекресток, если за ним образовался затор?



1. Намерены выполнить поворот направо или налево.
2. Намерены двигаться прямо.
3. Верно, п. 1, 2.

19 По какой траектории Вам разрешено выполнить разворот?



1. Только по траектории А.
2. Только по траектории Б.
3. По любой.

20 Разрешается ли стоянка самоходной машины в зоне действия этих знаков?



1. Разрешается.
2. Запрещается.
3. Разрешается при наличии специального государственного регистрационного знака.

БИЛЕТ 34

1 Дневные ходовые огни предназначены для:

1. Улучшения видимости движущегося транспортного средства в светлое время суток как спереди, так и сзади.
2. Улучшения видимости движущегося транспортного средства в светлое время суток только спереди.
3. Улучшения видимости движущегося транспортного средства в светлое время суток только сзади.

2 Водитель какого транспортного средства не нарушает ПДД?



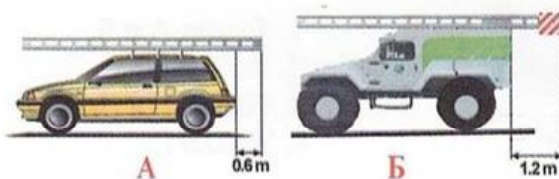
1. Автомобиля (А).
2. Самоходной машины (Б).
3. Никто не нарушает.

3 При повороте направо Вы должны уступить дорогу:



1. Только велосипедисту.
2. Только пешеходам.
3. Пешеходам и велосипедисту.
4. Никому.

4 На каком рисунке изображено транспортное средство, водитель которого не нарушает правил перевозки грузов?



1. Только на А.
2. Только на Б.
3. На обоих.

5 В каком случае Вам необходимо двигаться со скоростью до 40 км/ч?



1. Во всех случаях.
2. Только в том случае, когда покрытие на дороге влажное.
3. Во время выпадения осадков (дождь, снег).

БИЛЕТ 34

6 Разрешено ли Вам на перекрестке выполнить разворот?



1. Разрешено.
2. Запрещено.

7 Разрешено ли водителю поставить трактор на стоянку в этом месте указанным способом?




1. Да.
2. Да, если разрешенная максимальная масса трактора менее 3,5 т.
3. Нет.

8 Кому следует уступить дорогу при повороте налево?



1. Только пешеходам.
2. Только автобусу.
3. Автобусу и пешеходам.
4. Никому.

9 Какие знаки требуют обязательной остановки?



1. Только А и Б.
2. Только Б.
3. Только Б и В.
4. Только Г.

10 Разрешается ли движение самоходной машины по этой полосе?



1. Разрешается.
2. Запрещается.
3. Разрешается только при выполнении работ по обслуживанию дороги.

11 Разрешено ли Вам поставить самоходную машину на стоянку за путепроводом?



1. Разрешено.
2. Запрещено.

12 Этот знак указывает:



1. Вы должны повернуть направо или налево.
2. Выезд на дорогу с реверсивным движением
3. На пересекаемой дороге организовано одностороннее движение.

13 Эта разметка, нанесенная на полосу движения:



1. Разрешает Вам только поворот налево.
2. Разрешает Вам только разворот.
3. Разрешает Вам поворот налево и разворот.

14 Следует ли Вам уступить дорогу автомобилю, выполняющему разворот?



1. Да.
2. Нет.

15 О чем информируют Вас эти дорожные знаки?



1. О приближении к перекрестку, где установлен знак «Уступите дорогу».
2. О приближении к перекрестку, где установлен знак «Движение без остановки запрещено».
3. О приближении к таможне при проезде, которой необходима обязательная остановка.

16 Вы намерены повернуть налево. Кому следует уступить дорогу?



1. Только автобусу.
2. Только велосипедисту.
3. Никому.

17 Что необходимо предпринять при вынужденной остановке на переезде?



1. Остаться около трактора и подавать сигналы общей тревоги.
2. При появлении поезда бежать ему навстречу, подавая сигнал остановки.
3. Принять меры для освобождения переезда.
4. Выполнить все перечисленное.

18 Что запрещено в зоне действия этого знака?



1. Движение со скоростью более 20 км/ч.
2. Движение только механических транспортных средств.
3. Движение любых транспортных средств.

19 По какой траектории водитель самоходной машины правильно выедет на перекресток с круговым движением?



1. Только по траектории А.
2. Только по траектории В.
3. По любой из указанных траекторий.

20 При затрудненном встречном разъезде на данном участке дороги преимущество в движении имеет:



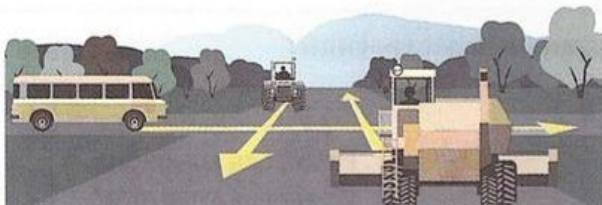
1. Водитель самоходной машины.
2. Водитель грузового автомобиля.

БИЛЕТ 35

1 Являются ли тротуары и обочины элементом дороги?

1. Являются.
2. Являются только обочины.
3. Не являются.

2 Транспортные средства проедут перекресток в следующем порядке:



1. Автобус, трактор, комбайн.
2. Комбайн, автобус, трактор.
3. Комбайн, одновременно с ним трактор, автобус.

3 В каком месте должен остановиться водитель самоходной машины в случаях, когда движение через переезд запрещено?




1. Не ближе 5 м до ближайшего рельса.
2. Не ближе 10 м до ближайшего рельса.
3. Непосредственно перед железнодорожным переездом.

4 При развороте должен ли водитель самоходной машины уступить дорогу автомобилю?



1. Должен.
2. Не должен.

5 По какой траектории водитель правильно выполнит разворот?



1. А.
2. В.
3. По любой.

БИЛЕТ 35

6 Управление самоходной машиной с нарушением правил или норм эксплуатации, предъявляемых к техническому состоянию самоходных машин, влечет за собой административное наказание:

1. Только в виде административного штрафа.
2. Только в виде лишения права управления транспортным средством.
3. В виде административного штрафа или лишения права управления.
4. В виде административного предупреждения или административного штрафа или лишения права управления транспортным средством.

7 Кто должен уступить дорогу при взаимном перестроении?



1. Водитель комбайна.
2. Водитель трактора.

8 Какие знаки устанавливают непосредственно перед железнодорожным переездом?




1. Только А.
2. Только Б.
3. Только В.
4. А, В.

9 Должны ли Вы уступить дорогу встречному грузовому автомобилю?



1. Да.
2. Нет.

10 Эта разметка обозначает:




1. Номер дороги или маршрута.
2. Рекомендуемую скорость движения на данной дороге.
3. Разрешенную максимальную скорость движения на данной дороге.

11 Первым проедет перекресток:




1. Легковой автомобиль.
2. Трактор.

12 Разрешена ли остановка под эстакадой?



1. Разрешена.
2. Запрещена.

13 Разрешено ли продолжение движения через железнодорожный переезд?



1. Разрешено.
2. Разрешено при отсутствии приближающегося поезда.
3. Запрещено.

14 Как Вы должны поступить, если идущее впереди транспортное средство замедлило свой ход перед пешеходным переходом?



1. Продолжить движение с прежней скоростью.
2. Снизить скорость или остановиться и продолжить движение, уступив дорогу пешеходам.

15 Разрешен ли обгон на перекрестках?

1. Разрешен только на нерегулируемых перекрестках.
2. Разрешен только на нерегулируемых перекрестках при движении по главной дороге.
3. Запрещен во всех случаях.

БИЛЕТ 35

16 На каком рисунке изображено механическое транспортное средство?



1. А, В, С.
2. В, С, D.
3. В.
4. На всех.

17 Какие знаки предоставляют Вам преимущество при проезде нерегулируемых перекрестков?



1. Только А.
2. А и В.
3. Все.

18 Какой маневр намеревается выполнить водитель самоходной машины с прицепом?



1. Обгон.
2. Перестроение с дальнейшим опережением.
3. объезд.

19 Какими должны быть действия водителя трактора при перестроении?



1. Имеет право проехать первым, чтобы объехать препятствие.
2. Должен пропустить автомобиль, движущийся по соседней полосе.

20 Что означает данный сигнал светофора?



1. Разрешает движение в направлении А, В.
2. Разрешает движение только в направлении В.
3. Разрешает движение только в направлении А.

- 1 С какой максимальной скоростью Вы можете продолжить движение после знака, если буксируете неисправное механическое транспортное средство?



1. 30 км/ч.
2. 50 км/ч.
3. 70 км/ч.
4. 90 км/ч.

- 2 В каком случае Вы можете прибегнуть к резкому торможению?

1. Только для остановки перед перекрестком или пешеходным переходом, когда включился запрещающий сигнал светофора.
2. Только для предотвращения дорожно-транспортного происшествия.
3. В обоих перечисленных случаях.

- 3 Какой знак используется для обозначения границ искусственной неровности?



А



Б



В

1. Только А.
2. Только Б.
3. Б и В.

- 4 Вы намерены развернуться на перекрестке. Ваши действия?



1. Уступите дорогу только легковому автомобилю и развернетесь.
2. Уступите дорогу обоим транспортным средствам и развернетесь.

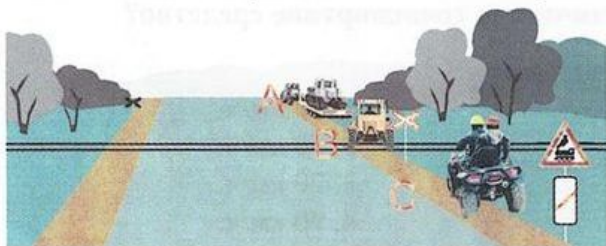
- 5 Кто из водителей нарушает правила дорожного движения?



1. Все водители.
2. Никто из водителей.
3. Только водитель трактора.
4. Только водитель легкового автомобиля.
5. Водители грузового автомобиля и трактора.

БИЛЕТ 36

6 В каком месте запрещена остановка транспортных средств?



1. А.
2. В.
3. В и С.
4. Во всех местах.

7 На каком расстоянии до опасного участка дороги в населенном пункте устанавливаются эти знаки?



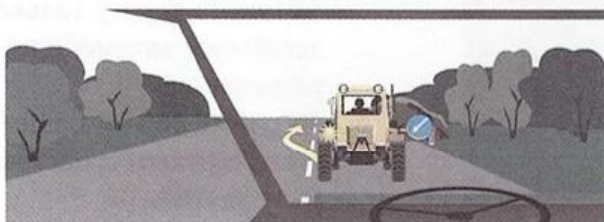
1. 15-20 м.
2. 50-100 м.
3. 100-150 м.
4. 150-300 м.

8 Должна ли самоходная машина уступить дорогу грузовому автомобилю?




1. Должна.
2. Не должна.

9 Разрешено ли Вам начать обгон идущего впереди транспортного средства в данной ситуации?



1. Разрешено.
2. Запрещено.

10 При каком сигнале светофора водителю разрешено закончить разворот?



1. При зеленом.
2. При красном.
3. При любом.

БИЛЕТ 36

11 Сколько перекрестков изображено на рисунке?



1. Один.
2. Два.
3. Четыре.

12 Действие каких знаков распространяется только до ближайшего перекрестка?



А



Б




В



Г

1. А, В.
2. Б, Г.
3. В, Г.
4. Всех указанных знаков.

13 На каком рисунке изображена дорога с разделительной полосой?



А

Б

1. На рисунке А.
2. На рисунке Б.
3. На обоих рисунках.
4. Ни на одном.

14 Разрешено ли водителю транспортного средства выехать на железнодорожный переезд, если за ним образовался затор?



1. Разрешено.
2. Запрещено.
3. Разрешено при отсутствии поезда в пределах видимости.

15 Разрешен ли разворот на указанном участке дороги?




1. Разрешен.
2. Запрещен.
3. Разрешен только при видимости дороги более 100 м.

16 Что обозначает разметка в виде треугольника на полосе движения?



1. Вы въезжаете на опасный участок дороги.
2. Предупреждает о приближении к месту, где нужно уступить дорогу.
3. Показывает место, где необходимо остановиться.

17 Что обозначает желтая линия разметки?



1. Место, где запрещена стоянка.
2. Место, где запрещена остановка.
3. Место остановки маршрутных транспортных средств.

18 Выполнение какого маневра запрещает Вам данная линия разметки?



1. Обгон.
2. объезд.
3. Разворот.
4. Не запрещает перечисленные маневры.


19 Какие знаки информируют о том, что на данной дороге действуют требования ПДД, устанавливающие порядок движения в населенных пунктах?



А



Б



В

1. Только А.
2. А и Б.
3. Б и В.
4. Все.


20 Разрешен ли Вам разворот в указанном месте?



1. Разрешен.
2. Не разрешен.

БИЛЕТ 37

1 Первым проедет перекресток:



1. Трамвай.
2. Трактор.

2 В каких случаях на транспортном средстве должен быть включен проблесковый маячок оранжевого цвета?



1. При выполнении строительных, ремонтных или уборочных работ на дороге.
2. При перевозке тяжеловесных, крупногабаритных или опасных грузов в случаях, предусмотренных правилами перевозки этих грузов.
3. В обоих перечисленных случаях.

3 По какой полосе разрешено движение вне населенного пункта по дороге, имеющей три полосы в одном направлении, если скорость самоходной машины не превышает 40 км/ч?

1. По крайней правой.
2. По средней при объезде препятствия.
3. По левой при выполнении разворота.
4. Возможен любой из указанных вариантов.

4 Водитель какого транспортного средства правильно выполняет поворот?



1. Трактора А.
2. Трактора В.
3. Оба водителя – правильно.
4. Оба водителя – неправильно.

5 Что означают данные знаки?



1. Запрещают движение тракторов и других самоходных машин в направлении стрелок.
2. Рекомендуемое направление движения тракторов и других самоходных машин.
3. Обязательное направление движения тракторов и других самоходных машин.

БИЛЕТ 37

6 Что означает данная разметка?



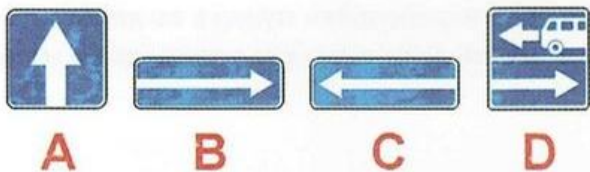
1. На дороге три полосы для движения в одном направлении.
2. Границы полос движения, на которых осуществляется реверсивное регулирование.

7 На каком расстоянии должен устанавливаться повторный знак до начала опасного участка дороги вне населенного пункта?




1. Не менее 10 м.
2. Не менее 20 м.
3. Не менее 50 м.

8 Какие знаки означают выезд на дорогу с односторонним движением?



1. А.
2. В.
3. В, С.
4. С, D.

9 Должен ли водитель самоходной машины уступить дорогу трамваю?



1. Должен.
2. Не должен.

10 Аварийная сигнализация на буксируемом механическом транспортном средстве должна быть включена:



1. Только в условиях недостаточной видимости.
2. Только в темное время суток.
3. Во всех случаях, когда осуществляется буксировка.

- 11 Обязан ли водитель, начиная движение с обочины дороги, включить указатели поворота?



1. Обязан.
2. Не обязан.
3. Обязан при наличии рядом других транспортных средств.

- 12 Какое административное взыскание влечет за собой управление транспортным средством без государственных регистрационных знаков?


1. Наказание только в виде административного штрафа.
2. Наказание только в виде административного предупреждения.
3. Наказание только в виде лишения права управления транспортными средствами.
4. Наказание в виде административного штрафа или лишения права управления транспортными средствами.

- 13 Разрешено ли движение задним ходом через железнодорожный переезд?



1. Разрешено.
2. Запрещено.

- 14 При повороте налево водитель трактора:



1. Имеет право проехать первым.
2. Должен пропустить трамвай.

- 15 На каком рисунке изображен знак железнодорожного переезда со шлагбаумом?



A



B



C


1. А.
2. А и С.
3. В.
4. С.

- 16 Как должно быть обозначено транспортное средство при выполнении строительных, ремонтных или уборочных работ на дороге?



1. Включен проблесковый маячок оранжевого или желтого цвета.
2. Включен проблесковый маячок синего цвета.
3. Включен дальний свет фар.

- 17 Разрешено ли водителю самоходной машины совершить обгон гужевой повозки в конце подъема?




1. Разрешено, если нет встречного транспорта.
2. Запрещено.

- 18 С какой максимальной скоростью может продолжить движение самоходная машина?



1. 60 км/ч.
2. 40 км/ч.
3. 30 км/ч.
4. 50 км/ч.

- 19 Транспортное средство с включенным проблесковым маячком оранжевого цвета проедет перекресток:



1. Первым.
2. Вторым.
3. Третьим.

- 20 Какое транспортное средство проедет перекресток первым?



1. Трактор.
2. Автомобиль с включенным проблесковым маячком синего цвета.

1 Какие знаки действуют на той стороне дороги, на которой они установлены?



1. А и В.
2. С и D.
3. Е.
4. Все, кроме Е.

2 Кто из водителей, совершающих поворот, нарушает Правила?




1. Водитель легкового автомобиля.
2. Водитель самоходной машины.
3. Оба нарушают.
4. Оба не нарушают.

3 Двигаясь прямо, при желтом мигающем сигнале светофора, Вы должны:



1. Продолжить движение после включения зеленого сигнала светофора.
2. Уступить дорогу гужевой повозке.
3. Проехать перекресток одновременно со встречным автомобилем.

4 Что означает данная желтая линия разметки?



1. Остановка маршрутных транспортных средств.
2. Стоянка такси.
3. Остановка маршрутных транспортных средств и стоянка такси.
4. Место, где запрещена стоянка.

5 Что обязаны сделать в первую очередь водители, причастные к ДТП?

1. Немедленно остановить транспортное средство, включить аварийную световую сигнализацию, выставить знак аварийной остановки, не перемещать предметы, имеющие отношение к происшествию.
2. Принять возможные меры для оказания доврачебной медицинской помощи пострадавшим.
3. Освободить проезжую часть.
4. Все перечисленное.

БИЛЕТ 38

6 Правильно ли остановился водитель самоходной машины?



1. Правильно.
2. Неправильно.

7 Когда могут применяться звуковые сигналы при движении вне населенных пунктов?




1. Только для предупреждения других водителей об обгоне.
2. Для предотвращения дорожно-транспортного происшествия.
3. Верно, п.1, 2.

8 Нарушил ли водитель самоходной машины правила остановки?



1. Нарушил.
2. Не нарушил.

9 Должны ли Вы уступить дорогу легковому автомобилю?



1. Должны.
2. Не должны.

10 По какой траектории Вы можете совершить разворот?



1. А.
2. В.
3. А и В.


БИЛЕТ 38

11 В какой последовательности проедут перекресток транспортные средства?




1. Трактор, затем грузовой автомобиль.
2. Трактор первым выезжает на перекресток, а после проезда грузового автомобиля заканчивает разворот.

12 Разрешено ли въехать на пешеходный переход, если за ним образовался затор?



1. Разрешено.
2. Запрещено.
3. По усмотрению водителя.

13 Разрешено ли проехать через железнодорожный переезд, если скорость движения транспортного средства менее 8 км/ч?



1. Разрешено.
2. Запрещено.
3. Разрешено только с разрешения начальника дистанции пути железной дороги.

14 Каким способом запрещена буксировка механических транспортных средств в гололед?

1. Методом частичной погрузки.
2. На гибкой сцепке.
3. На жесткой сцепке.


15 Нарушают ли пешеходы ПДД, двигаясь по проезжей части?



1. Нарушают.
2. Не нарушают.

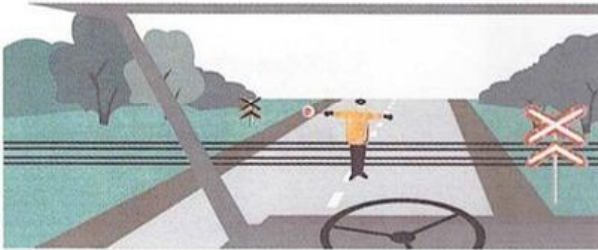
БИЛЕТ 38

- 16 Должен ли водитель трактора уступить дорогу маршрутному такси, начинающему движение от тротуара вне обозначенного места остановки?



1. Должен.
2. Не должен.

- 17 Разрешено ли Вам продолжить движение?




1. Разрешено.
2. Запрещено.

- 18 Как должен поступить в данной ситуации водитель самоходной машины?




1. Проехать первым.
2. Пропустить грузовой автомобиль.

- 19 Последним перекресток проедет:



1. Легковой автомобиль.
2. Грузовой автомобиль.
3. Трактор.

- 20 Что обозначает данный знак?



1. Предварительный указатель перестроения на другую проезжую часть.
2. Указатель перестроения на другую полосу движения.
3. Предварительный указатель перестроения на другую дорогу.

1 Дневные ходовые огни предназначены для:

1. Улучшения видимости движущегося транспортного средства в светлое время суток как спереди, так и сзади.
2. Улучшения видимости движущегося транспортного средства в светлое время суток только спереди.
3. Улучшения видимости движущегося транспортного средства в светлое время суток только сзади.

2 Водитель какого транспортного средства не нарушает ПДД?



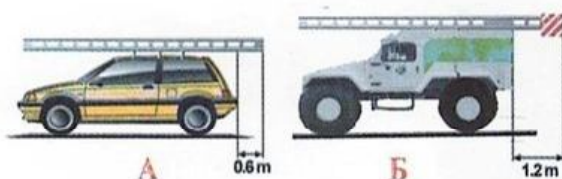
1. Автомобиля (А).
2. Самоходной машины (Б).
3. Никто не нарушает.

3 При повороте направо Вы должны уступить дорогу:



1. Только велосипедисту.
2. Только пешеходам.
3. Пешеходам и велосипедисту.
4. Никому.

4 На каком рисунке изображено транспортное средство, водитель которого не нарушает правил перевозки грузов?



1. Только на А.
2. Только на Б.
3. На обоих.

5 В каком случае Вам необходимо двигаться со скоростью до 40 км/ч?



1. Во всех случаях.
2. Только в том случае, когда покрытие на дороге влажное.
3. Во время выпадения осадков (дождь, снег).

БИЛЕТ 39

6 На каком рисунке изображен регулируемый перекресток?



A

B

C

1. А.
2. В.
3. С.
4. А и В.

7 Дает ли преимущество перед другими участниками движения включенный проблесковый маячок оранжевого цвета?




1. Дает.
2. Не дает.

8 Вы намерены проехать перекресток в прямом направлении?



1. Проедете перекресток первым.
2. Уступите дорогу трамваю.

9 Должен ли водитель самоходной машины уступить дорогу пешеходам при повороте налево?



1. Должен.
2. Не должен.

10 Какой знак устанавливается в начале дороги, по которой осуществляется движение по всей ширине проезжей части в одном направлении?



A

B

C

D


1. А.
2. В.
3. С.
4. D.

БИЛЕТ 39

11 Какое административное взыскание влечет за собой управление транспортным средством с нечитаемыми или установленными с нарушением требований государственного стандарта государственными регистрационными знаками?

1. Наказание в виде административного штрафа.
2. Наказание в виде административного предупреждения.
3. Наказание в виде отстранения от управления транспортным средством.
4. Наказание в виде административного штрафа или в виде предупреждения.

12 Разрешено ли водителю транспортного средства продолжить движение в прямом направлении?



1. Разрешено.
2. Запрещено.
3. Разрешено при обслуживании предприятий в этой зоне.

13 Разрешено ли Вам обогнать трактор?



1. Разрешено.
2. Разрешено, только после проезда перекрестка.
3. Запрещено.

14 Последним перекресток проедет:



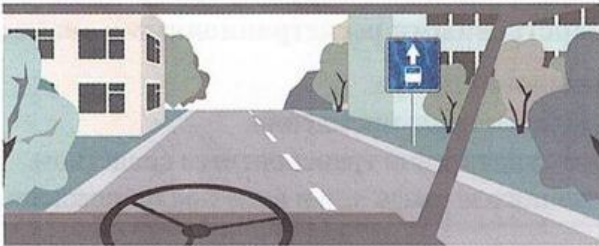
1. Грузовой автомобиль.
2. Легковой автомобиль.
3. Самоходная машина.
4. Гужевая повозка.

15 Что означает данная комбинация знаков?




1. Указывает, что в зоне железнодорожного переезда осуществляется фиксация нарушений ПДД в автоматическом режиме.
2. Указывает, что в зоне железнодорожного переезда запрещается фото- и видеосъемка.

16 Разрешается ли останавливаться на полосе, обозначенной этим знаком?



1. Разрешается.
2. Запрещается.
3. Разрешается для посадки и высадки пассажиров, если это не создаст помех маршрутным транспортным средствам.

17 Разрешено ли Вам продолжить движение по второй полосе?



1. Разрешено.
2. Запрещено.
3. Разрешено при скорости движения более 40 км/ч.

18 Какие действия запрещено выполнять в местах остановок маршрутных транспортных средств?



1. Разворот.
2. Движение задним ходом.
3. Останавливаться, если при этом будут созданы помехи маршрутным транспортным средствам.
4. Все перечисленные действия.

19 Разрешается ли движение самоходной машины по дорогам, выезды и въезды которых обозначены знаками?



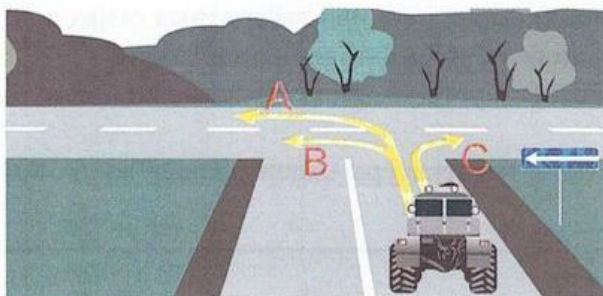
1. Запрещено.
2. Только выполняя работы по строительству, ремонту или содержанию дорог в обозначенной зоне.
3. Разрешено.

20 В каких направлениях разрешено продолжить движение?



1. А и В.
2. А.
3. Запрещено во всех направлениях.

1 По какой траектории водитель имеет право продолжить движение?




1. А.
2. А и В.
3. С.
4. По любой траектории.

2 Сколько пересечений проезжих частей имеет этот перекресток?



1. Одно.
2. Два.
3. Четыре.

3 Разрешается ли перевозить людей на грузовом прицепе?



1. Разрешается, если они сопровождают груз.
2. Разрешается только при наличии оборудованных мест для сидения.
3. Запрещается.

4 Что обозначает на дороге эта разметка?



1. Место, где велосипедная дорожка пересекает проезжую часть.
2. Место, где велосипедист имеет преимущество движения.
3. Место пешеходного перехода.

5 Разрешено ли людям находиться в кабине буксируемого транспортного средства при буксировке методом частичной погрузки?

1. Разрешено.
2. Запрещено.
3. На усмотрение водителя.

БИЛЕТ 40

6 При какой неисправности запрещается движение самоходной машины?

1. Негорящих (отсутствующих) фарах и задних габаритных огнях в темное время суток или в условиях недостаточной видимости.
2. Стеклоочиститель не работает в установленном режиме во время дождя или снегопада.
3. Неисправен датчик указателя температуры охлаждающей жидкости двигателя.

7 Должны ли Вы уступить дорогу пешеходам вне населенного пункта?



1. Должны.
2. Не должны.

8 Разрешено ли движение по данной полосе?




1. Разрешено.
2. Запрещено.

9 Как должен поступить водитель самоходной машины при выезде на дорогу в данной ситуации?



1. Выехав на дорогу, пропустить движущихся по ней животных и погонщика.
2. Выехать на дорогу, не пропуская животных и погонщика.

10 В каком направлении разрешено продолжить движение?



1. Во всех.
2. С и D.
3. Во всех, кроме А.
4. Движение запрещено.

БИЛЕТ 40

11 Разрешено ли водителю самоходной машины развернуться на перекрестке?



1. Разрешено.
2. Запрещено.

12 Как должно быть обозначено транспортное средство при дорожно-транспортном происшествии?



1. Включить аварийную сигнализацию.
2. Выставить знак аварийной остановки.
3. Включить аварийную сигнализацию, а также выставить знак аварийной остановки.

13 Что должен предпринять водитель, покидая свое место и оставляя транспортное средство в этой ситуации?




1. Принять меры, исключая самопроизвольное движение транспортного средства.
2. Принять меры, исключая использование транспортного средства посторонними лицами в отсутствие водителя.
3. Верно, п. 1, 2.

14 На каком расстоянии от транспортного средства должен быть выставлен знак аварийной остановки в населенном пункте?



1. Не менее 10 м.
2. Не менее 15 м.
3. Не менее 30 м.
4. Не менее 50 м.

15 Каким должно быть расстояние между транспортными средствами при буксировке на жесткой сцепке?



1. Не более 4 м.
2. Не менее 4 м.
3. 4-6 м.

16 Что означает данный знак?

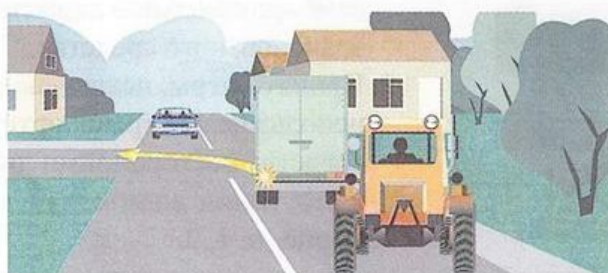


1. Дорогу, не имеющую сквозного проезда.
2. На перекрестке справа второстепенная дорога.
3. Направление, где движение запрещено.

17 Какое административное взыскание влечет за собой управление транспортным средством с заведомо подложными государственными регистрационными знаками?


1. Наказание в виде административного штрафа.
2. Наказание в виде административного предупреждения.
3. Наказание в виде лишения права управления транспортным средством.
4. Наказание в виде административного штрафа или лишения права управления транспортным средством.
5. Наказание в виде административного штрафа или предупреждения.

18 Как должен поступить водитель трактора в данной ситуации?




1. Совершить объезд грузового автомобиля с правой стороны.
2. Подождать, пока грузовый автомобиль совершит маневр, затем продолжить движение.
3. Совершить обгон грузового автомобиля с левой стороны.

19 Какой знак разрешает объезд препятствия только справа?



1. А.
2. А, В.
3. С.
4. D.

20 В каких местах запрещена остановка транспортных средств?



1. На обочине дороги вблизи подъема.
2. На обочине дороги при крутом спуске или подъеме.
3. На проезжей части вблизи выпуклых переломов продольного профиля дороги при видимости дороги менее 100 м, хотя бы в одном направлении.

БИЛЕТ 41

1 Как должен поступить водитель трактора?



1. Уступить дорогу легковому автомобилю.
2. Первым проехать перекресток.

2 С какой скоростью разрешено движение по дорогам, обозначенным знаками?




1. 60 км/ч.
2. 40 км/ч.
3. 20 км/ч.

3 Должен ли водитель самоходной машины уступить дорогу грузовому автомобилю?




1. Должен.
2. Не должен.

4 Что означают данные знаки?



1. Протяженность узкого участка дороги 300 м.
2. На дороге протяженностью 300 м возможны узкие участки.
3. Расстояние до участка дороги, где запрещается движение транспортных средств, габаритная ширина которых больше указанной на знаке.

5 В каком случае запрещается открывать двери транспортного средства?



1. Если это создаст помехи другим участникам движения.
2. Если транспортное средство остановилось по причине вынужденной остановки.

6 Какой из знаков распространяет свое действие только на ту полосу, над которой он установлен?



А



Б



В

1. Только А.
2. Только Б.
3. Б и В.

7 В каком месте Вы должны остановиться?



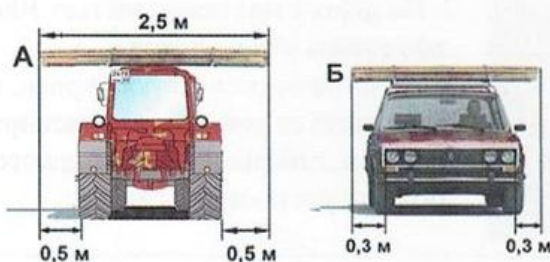
1. Перед знаком «Движение без остановки запрещено» (А).
2. Перед перекрестком (Б).
3. Перед краем пересекаемой проезжей части (В).

8 На каких рисунках показана главная дорога?



1. Только на А и В.
2. Только на В и С.
3. Только на С и D.
4. Только на А и D.
5. На всех.

9 На каком рисунке изображено транспортное средство, водитель которого не нарушает правил перевозки грузов?



1. Только на А.
2. Только на Б.
3. На обоих.

10 Что означает требование «Уступить дорогу»?

1. Вы должны остановиться, чтобы пропустить других участников движения.
2. Вы не должны начинать, возобновлять или продолжать движение, осуществлять какой-либо маневр, если это может вынудить других участников движения, имеющих по отношению к Вам преимущество, изменить направление движения или скорость.
3. Вы должны остановиться только при наличии дорожного знака «Уступите дорогу».

БИЛЕТ 41

11 Разрешена ли водителю самоходной машины остановка в данном месте?



1. Да.
2. Нет.

12 По какой траектории Вы можете продолжить движение?



1. Только А.
2. А и С.
3. А и В.
4. По любой.

13 Выезд со двора или с другой прилегающей территории считается:



1. Равнозначным перекрестком.
2. Неравнозначным перекрестком.
3. Не считается перекрестком.

14 Преимущество при движении имеет:




1. Легковой автомобиль.
2. Самоходная машина.

15 Что обязан контролировать водитель перед началом и во время перевозки грузов?


1. Размещение, крепление и состояние груза во избежание его падения.
2. То, что груз не создаст помехи для движения.
3. Оба перечисленных требования.

16 Должен ли водитель самоходной машины уступить дорогу трамваю?



1. Должен.
2. Не должен.

17 Транспортные средства проедут перекресток в следующем порядке:



1. Трактор, трамвай, грузовой автомобиль.
2. Трамвай, трактор, грузовой автомобиль.
3. Грузовой автомобиль, трактор, трамвай.

18 Водитель какого транспортного средства имеет преимущество при движении?



1. Трактора.
2. Грузового автомобиля.

19 Данная вертикальная разметка:



1. Запрещает стоянку транспортных средств.
2. Запрещает остановку транспортных средств.
3. Обозначает бордюры на опасных участках дорог.

20 Кто из водителей имеет преимущество в движении?



1. Водитель трактора с включенным проблесковым оранжевым маячком.
2. Водитель легкового автомобиля с включенным проблесковым маячком синего цвета и специальным звуковым сигналом.

1 О чем предупреждает установленный знак?




1. Что при въезде в тоннель будет затруднен разъезд со встречными транспортными средствами.
2. В тоннеле отсутствует искусственное освещение.
3. Очередность движения регулируется светофором.

2 О чем предупреждает данная линия разметки с изображением стрелки?



1. О приближении к сужению проезжей части.
2. О возможности перестроения на другую полосу движения.
3. О приближении к перекрестку с поворотом направо.

3 Разрешено ли водителю самоходной машины совершить обгон гужевой повозки?




1. Разрешено.
2. Запрещено.

4 Разрешена ли стоянка транспортного средства в указанном месте?



1. Разрешена.
2. Запрещена.

5 При движении прямо нужно ли уступать дорогу встречному автомобилю, поворачивающему налево?



1. Нужно.
2. Не нужно.

БИЛЕТ 42

6 Разрешена ли Вам остановка в указанном месте?



1. Разрешена.
2. Разрешена только с заездом на тротуар.
3. Разрешена, если не создаются помехи маршрутным транспортным средствам.
4. Не разрешена.

7 В каких направлениях Вам разрешено продолжить движение?




1. Только Б.
2. Только А или Б.
3. В любых.

8 Следует ли Вам уступить дорогу грузовому автомобилю?



1. Да.
2. Нет.

9 В каком месте Вам разрешено обогнать тихоходное транспортное средство?



1. Перед железнодорожным переездом.
2. На железнодорожном переезде.
3. За железнодорожным переездом.

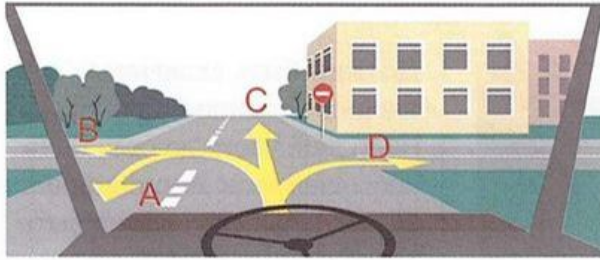
10 На каком расстоянии до спуска или подъема могут устанавливаться эти знаки вне населенного пункта?



1. За 150-300 м до спуска или подъема.
2. В зависимости от знака дополнительной информации, указывающего расстояние.
3. Непосредственно перед спуском или подъемом, если они следуют друг за другом.
4. Возможен любой вариант.

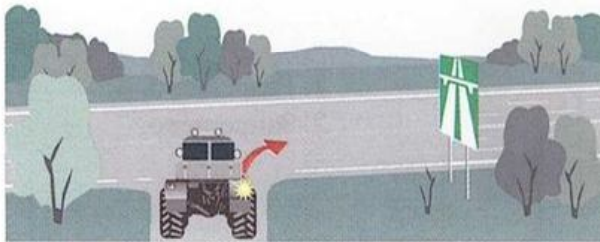
БИЛЕТ 42

11 В каких направлениях разрешено продолжить движение?



1. В и D.
2. В, С, D.
3. В любых, кроме С.

12 Разрешено ли водителю самоходной машины продолжить движение по дороге, обозначенной данным знаком?



1. Разрешено.
2. Запрещено.
3. Разрешено в крайнем правом ряду.

13 Сколько проезжих частей имеет данная дорога?



1. Одну.
2. Две.
3. Четыре.

14 Обязаны ли Вы уступить дорогу автомобилю с включенным проблесковым маячком синего цвета и специальным звуковым сигналом?



1. Обязаны.
2. Не обязаны.

15 Чем должны руководствоваться водители и пешеходы, если сигналы регулировщика противоречат сигналам светофора, дорожным знакам и разметке?


1. Сигналами регулировщика.
2. Знаками и разметкой.
3. Сигналами светофора.

- 16 Каким способом должно быть обозначено буксируемое транспортное средство при неисправной аварийной световой сигнализации?




1. Должны быть включены внешние световые приборы.
2. На задней части должен быть закреплен знак аварийной остановки.
3. На задней части должен быть закреплен знак «Прочие опасности».

- 17 Разрешено ли водителю самоходной машины остановиться в данном месте в населенном пункте?




1. Разрешено.
2. Запрещено.

- 18 На каком расстоянии необходимо переключить дальний свет фар на ближний?




1. Не менее чем за 150 м.
2. Не менее чем за 300 м.
3. По усмотрению водителя.

- 19 Какое транспортное средство имеет преимущество в движении в населенных пунктах?




1. Трактор, движущийся без изменения направления по своей полосе.
2. Автобус, начинающий движение от обозначенной остановки.

- 20 Нарушает ли водитель самоходного комбайна правила, двигаясь по середине дороги?



1. Не нарушает.
2. Не нарушает, если отсутствуют встречные транспортные средства.
3. Нарушает.

- 1 В каком из указанных мест можно пересечь сплошную линию разметки и остановиться?



1. Только А.
2. Только Б.
3. В любом.
4. Ни в одном.

- 2 Укажите очередность проезда перекрестка транспортными средствами:



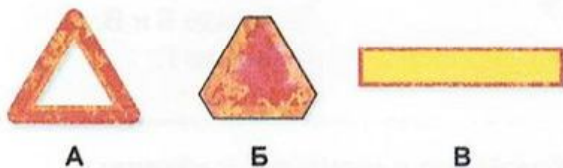
1. Легковой автомобиль одновременно с гужевой повозкой, трактор.
2. Легковой автомобиль, трактор, гужевая повозка.
3. Трактор, гужевая повозка, легковой автомобиль.

- 3 Должен ли водитель самоходной машины уступить дорогу легковому автомобилю?



1. Должен.
2. Не должен.

- 4 Какой знак должен быть закреплен на задней части буксируемого механического транспортного средства при отсутствии или неисправности аварийной сигнализации?



1. А.
2. Б.
3. В.

- 5 Что означает термин «Недостаточная видимость»?

1. Видимость дороги менее 100 м вблизи опасных поворотов и переломов продольного профиля дороги.
2. Видимость дороги менее 300 м в условиях тумана, дождя, снегопада и т. п., а также в сумерки.
3. Видимость дороги менее 150 м в ночное время суток.

БИЛЕТ 43

6 Разрешено ли Вам на перекрестке выполнить разворот?



1. Разрешено.
2. Запрещено.

7 Разрешено ли водителю поставить трактор на стоянку в этом месте указанным способом?



1. Да.
2. Да, если разрешенная максимальная масса трактора менее 3,5 т.
3. Нет.

8 Кому следует уступить дорогу при повороте налево?



1. Только пешеходам.
2. Только автобусу.
3. Автобусу и пешеходам.
4. Никому.

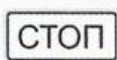
9 Какие знаки требуют обязательной остановки?



А



Б




В



Г

1. Только А и Б.
2. Только Б.
3. Только Б и В.
4. Только Г.

10 Как Вы должны поступить при приближении к стоящему у обочины автомобилю с включенным проблесковым маячком синего цвета?



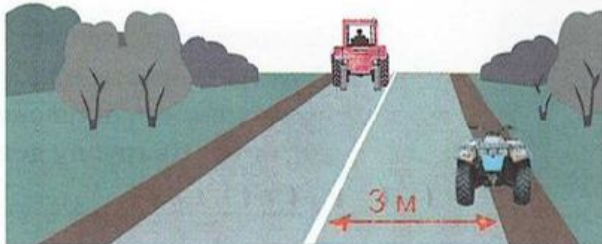
1. Продолжить движение с прежней скоростью.
2. Снизить скорость, чтобы немедленно остановиться в случае необходимости.
3. Остановиться у обочины и дождаться разрешения двигаться дальше.

БИЛЕТ 43

11 Какое административное взыскание влечет за собой управление транспортным средством водителем, не имеющим при себе свидетельства о регистрации транспортного средства?


1. Предупреждение или наложение административного штрафа.
2. Задержание транспортного средства с отстранением водителя от управления.
3. Наложение административного штрафа.
4. Все указанное в пунктах 2 и 3.

12 Разрешено ли водителю внедорожного мототранспортного средства остановиться в данном месте?



1. Разрешено.
2. Запрещено.

13 Разрешено ли водителю самоходной машины продолжить движение прямо?



1. Разрешено.
2. Запрещено.
3. Разрешено, если он обслуживает предприятия, находящиеся в обозначенной зоне, или граждан, проживающих в обозначенной зоне.

14 На каком расстоянии от неисправного транспортного средства водитель должен выставить знак аварийной остановки вне населенного пункта?



1. Не менее 15 м.
2. Не менее 30 м.
3. Не менее 40 м.
4. Не менее 50 м.

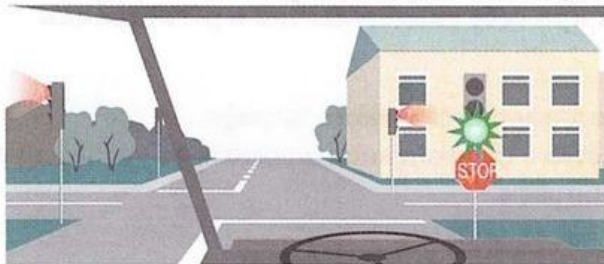
15 Включенный бело-лунный мигающий сигнал светофора на железнодорожном переезде:



1. Разрешает движение транспортных средств через переезд.
2. Разрешает движение после обязательной остановки у светофора.
3. Запрещает движение.


БИЛЕТ 43

16 Как Вы должны поступить в данной ситуации?




1. Остановиться у стоп-линии, затем продолжить движение.
2. Продолжить движение без остановки.

17 Как должен поступить водитель трактора в данной ситуации?



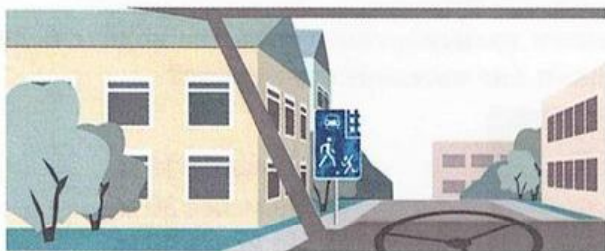
1. Продолжить движение.
2. Снизить скорость, при необходимости остановиться и пропустить группу детей.

18 Что означает эта горизонтальная разметка?



1. Участок перекрестка, на котором организован диагональный переход пешеходами.
2. Участок перекрестка, на который запрещается выезжать, если впереди образовался затор, который вынудит водителя остановиться, создав препятствие для движения в поперечном направлении.
3. Участок перекрестка, выезд на который разрешен только для поворота направо.

19 Разрешено ли Вам сквозное движение в обозначенной знаком зоне?



1. Разрешено.
2. Запрещено.


20 Разрешается ли Вам продолжить движение, если регулировщик поднял руку вверх после того, как Вы въехали на перекресток?



1. Запрещается.
2. Разрешается, только если Вы поворачиваете направо.
3. Разрешается.

БИЛЕТ 44

1 Разрешена ли стоянка транспортного средства в данном месте?



1. Разрешена.
2. Запрещена.

2 Водитель какого транспортного средства правильно въезжает на перекресток с круговым движением?



1. Самоходной машины А.
2. Трактора В.
3. Оба водителя – правильно.
4. Оба водителя – неправильно.

3 Должны ли Вы уступить дорогу самоходной машине?




1. Должны.
2. Не должны.

4 В каком направлении водители транспортных средств могут продолжить движение?



1. В любом.
2. В, С.
3. D.

5 Какое нарушение допустил водитель комбайна при движении через мост?



1. Соблюдение дистанции.
2. Боковой интервал.

БИЛЕТ 44

6 Что должен знать и соблюдать участник дорожного движения?

1. Требования Правил, относящихся к нему.
2. Значения разметки, знаков, светофора.
3. Выполнять распоряжения регулировщиков, действующих в пределах предоставленных им прав и регулирующих дорожное движение установленными сигналами.
4. Соблюдать все перечисленные требования.

7 Этот дорожный знак указывает:



1. Расстояние до конца тоннеля.
2. Расстояние до места аварийной остановки.
3. Направление движения к аварийному выходу и расстояние до него.

8 В каком направлении Вам разрешено движение на перекрестке?



1. Движение разрешено только направо.
2. Движение разрешено только налево.
3. Запрещено.

9 Кто из водителей нарушил правила остановки?



1. Только водитель трактора.
2. Только водитель грузового автомобиля.
3. Оба нарушили.

10 Разрешено ли буксировать автобус при нахождении пассажиров в салоне?



1. Разрешено.
2. Запрещено.

БИЛЕТ 44

- 11 Разрешено ли продолжение движения через железнодорожный переезд при открытом шлагбауме и запрещающем сигнале светофора?




1. Разрешено, если Вы убедились в отсутствии приближающегося поезда.
2. Запрещено.

- 12 В случае дорожно-транспортного происшествия вне населенных пунктов в темное время суток при нахождении на проезжей части или обочине водитель обязан:


1. Включить аварийную сигнализацию.
2. Выставить знак аварийной остановки.
3. Надеть куртку, жилет или жилет-накидку с полосами световозвращающего материала.
4. Выполнить все перечисленное.

- 13 Последним перекресток проедет:



1. Гужевая повозка.
2. Комбайн.
3. Внедорожное мототранспортное средство.

- 14 По какой траектории водитель самоходной машины может объехать препятствие?



1. По траектории А.
2. По траектории В.
3. По любой.

- 15 Какой из знаков распространяет свое действие только на ту полосу, над которой он установлен?



А



Б




В

1. Только А.
2. Только Б.
3. Б и В.


БИЛЕТ 44

16 Что означает данный знак, установленный вне населенного пункта?




1. Начало дороги с закруглением.
2. Через 50-100 м опасный поворот.
3. Через 150-300 м опасный поворот.

17 Разрешено ли продолжить движение через железнодорожный переезд?



1. Разрешено при отсутствии приближающегося поезда.
2. Запрещено.

18 Что обозначает оранжевая линия разметки?




1. Границы полос в пределах перекрестка.
2. Временная линия разметки, обозначающая полосы движения в пределах перекрестка.
3. Границы полос на перекрестке, где разрешено перестроение.

19 Какое транспортное средство первым проедет перекресток?



1. Легковой автомобиль.
2. Трактор.
3. Грузовой автомобиль.

20 Имеет ли право водитель самоходной машины, включив указатели поворота, сразу начать движение?



1. Имеет право, так как гужевая повозка движется медленнее трактора, а он включил указатель поворота.
2. Должен пропустить гужевую повозку, так как включение указателя поворота не дает преимущества перед другими участниками движения.

БИЛЕТ 45

1 Разрешена ли стоянка в данном месте по нечетным числам?




1. Разрешена.
2. Запрещена.
3. Разрешена после 19 ч.

2 Какое административное взыскание влечет за собой управление самоходной машиной водителем, не имеющим при себе документов на право управления, предусмотренных правилами дорожного движения?

1. Задержание транспортного средства с отстранением водителя от управления.
2. Предупреждение или наложение административного штрафа.
3. Наложение административного штрафа.
4. Все указанное в пунктах 1 и 3.

3 Что обозначает данная линия разметки?



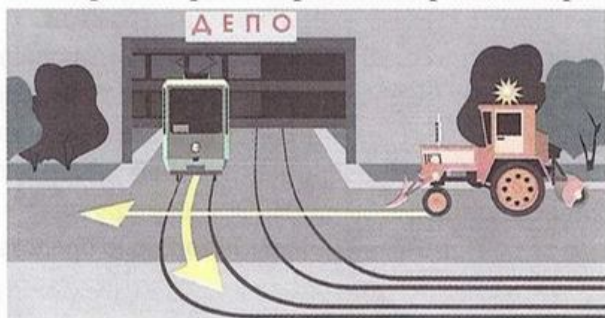
1. Искусственную неровность на проезжей части.
2. Подземный пешеходный переход.
3. Велосипедную дорожку.

4 Какой из знаков предоставляет водителю преимущество перед встречным движением?



1. D.
2. B и C.
3. A, C и D.
4. A.
5. Все знаки.


5 Какое транспортное средство проедет первым?



1. Трамвай.
2. Трактор.

БИЛЕТ 45

6 В каком направлении разрешено движение самоходной машины?




1. В любом направлении с включением проблескового маячка желтого цвета при выполнении работ по содержанию дорог.
2. По траектории А, Б.
3. Только по траектории Б
4. Правильно, 1, 2.
5. Правильно, 1, 3.

7 Что обозначает данный знак?



1. Начало населенного пункта, где не действуют требования правил, устанавливающие порядок движения в населенных пунктах.
2. Начало населенного пункта, где действуют требования правил, устанавливающие порядок движения в населенных пунктах.

8 Разрешено ли Вам в конце подъема перестроиться на среднюю полосу для опережения грузового автомобиля?




1. Разрешено.
2. Запрещено.

9 Что означает сочетание красного и желтого сигналов светофора?


1. Неисправна светофорная сигнализация.
2. Информировать о предстоящем включении зеленого сигнала.
3. Информировать о предстоящем включении красного сигнала.

10 На какие транспортные средства распространяются сигналы такого светофора?



1. Только на трамваи.
2. На трамваи, а также другие маршрутные транспортные средства, движущиеся по выделенной для них полосе.
3. На все маршрутные транспортные средства.

11 Разрешена ли водителю самоходной машины стоянка в данном месте?




1. Разрешена.
2. Запрещена.

12 Разметкой в виде буквы «А» обозначают:



1. Специальную полосу для любых автобусов.
2. Специальную полосу для маршрутных транспортных средств.
3. Место остановки и стоянки любых автобусов.

13 Обязан ли водитель включать указатели поворота, выезжая с бензоколонки?



1. Обязан.
2. Не обязан.
3. По своему усмотрению.

14 Как Вы должны поступить в данной ситуации?




1. Снизить скорость перед пешеходным переходом.
2. Обязаны пропустить слепых пешеходов, подающих сигнал белой тростью.
3. Продолжить движение, так как горит зеленый – разрешающий сигнал светофора.

15 Чем необходимо руководствоваться, если значения временных дорожных знаков и линий разметки противоречат друг другу?

1. Требованиями линий разметки.
2. Требованиями временных дорожных знаков.
3. Правила эту ситуацию не регламентируют.

БИЛЕТ 45

16 Последним перекресток проедет:



1. Грузовой автомобиль.
2. Трактор.
3. Гужевая повозка.

17 Разрешен ли обгон трактора в данном месте?



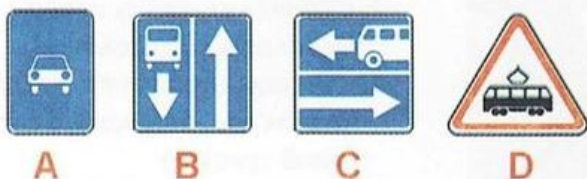
1. Разрешен.
2. Запрещен.

18 Что означает поднятая вверх рука водителя?




1. Самоходная машина повернет направо.
2. Сигнал водителя о торможении.
3. Самоходная машина будет разворачиваться.

19 Какой знак означает дорогу с полосой для маршрутных транспортных средств?



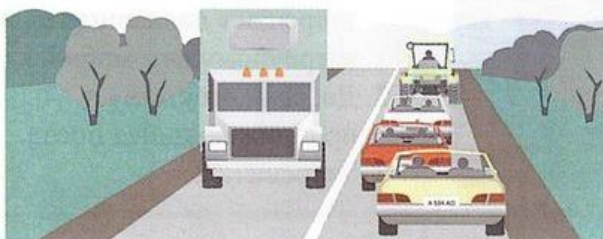
1. А.
2. В.
3. В и С.
4. А и D.

20 В каком месте водителю транспортного средства разрешена остановка?




1. А (за перекрестком).
2. В (напротив бокового проезда).
3. С (перед перекрестком).
4. В любом.
5. А и В.

- 1 Как должен поступить водитель тихоходного транспортного средства, если при движении вне населенного пункта за ним скопились транспортные средства?



1. Продолжить движение.
2. Принять как можно правее, а при необходимости остановиться и пропустить скопившиеся транспортные средства.

- 2 Разрешено ли Вам продолжить движение?



1. Разрешено прямо и направо.
2. Разрешено в любом направлении.
3. Запрещено.

- 3 В каких направлениях разрешено продолжить движение?



1. А.
2. В.
3. С.
4. А и В.
5. В любых из указанных направлений.

- 4 Разрешено ли водителю трактора продолжить движение по данной полосе при выполнении уборочных работ?



1. Разрешено.
2. Запрещено.

- 5 Значения каких дорожных знаков отменяются сигналами светофора?

1. Знаков приоритета.
2. Запрещающих знаков.
3. Предписывающих знаков.
4. Всех перечисленных.

6 Разрешено ли Вам проехать железнодорожный переезд?




1. Да, так как дежурный по переезду запрещает движение только встречному автомобилю.
2. Да, если отсутствует приближающийся поезд.
3. Запрещено.

7 Следует ли уступить дорогу грузовому автомобилю на перекрестке с круговым движением?



1. Да.
2. Нет.

8 Как Вы намерены продолжить движение прямо при желтом мигающем сигнале светофора?



1. Проехать перекресток первым.
2. Уступить дорогу только грузовому автомобилю.
3. Уступить дорогу только трамваю.
4. Уступить дорогу обоим транспортным средствам.

9 Какой знак запрещает дальнейшее движение всех без исключения транспортных средств?



А



Б



В

1. А.
2. Б.
3. В.

10 Какую скорость должен соблюдать водитель при возникновении опасности для движения?

1. Предельно малую.
2. Должен принять необходимые меры к снижению скорости, вплоть до остановки транспортного средства.
3. Продолжить движение не снижая скорости, чтобы покинуть опасное место.

11 При включении зеленого сигнала светофора Вы должны:



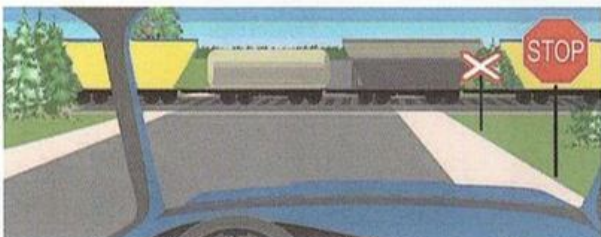
1. Убедиться в отсутствии пешеходов, завершающих переход проезжей части, после чего начать движение.
2. Уступить дорогу транспортным средствам, завершающим движение через перекресток, после чего начать движение.
3. Необходимо выполнить все перечисленное.

12 Должен ли водитель при движении по данному участку дороги включить левый указатель поворота?




1. Должен.
2. Не должен, так как сигнал введет в заблуждение других участников движения.

13 В каком месте Вы должны остановиться в данной ситуации?



1. У знака «Движение без остановки запрещено».
2. У знака «Однопутная железная дорога».
3. За 5 м до первого рельса.
4. В любом месте.

14 Каким транспортным средствам разрешено движение прямо?



1. Только трактору и грузовому автомобилю.
2. Только грузовому автомобилю.
3. Только грузовому автомобилю и автобусу.
4. Всем транспортным средствам.

15 Нарушили ли водители грузового автомобиля и трактора правила стоянки?



1. Нарушили оба водителя.
2. Нарушил только водитель трактора.
3. Нарушил только водитель грузовика.
4. Никто не нарушил.

БИЛЕТ 46

16 Разрешено ли совершить разворот в этом месте?




1. Разрешено.
2. Запрещено, так как пересекается сплошная линия.

17 Разрешена ли водителю самоходной машины стоянка в данном месте?



1. Разрешена.
2. Запрещена.

18 Кто имеет преимущество при движении?



1. Трамвай.
2. Трактор.

19 Какой знак разрешает левый поворот?




1. А.
2. А и В.
3. С.
4. D.
5. С и D.

20 Для чего накладывается асептическая повязка?

1. Для защиты раны от внешних воздействий и попадания в нее микробов.
2. Для обеспечения необходимой неподвижности поврежденных частей тела.
3. Для медленного и постепенного согревания места повреждения.

БИЛЕТ 47

- 1 Каким должно быть расстояние между транспортными средствами при буксировке на гибкой сцепке?



1. 2-4 м.
2. 4-6 м.
3. 6-8 м.
4. Не менее 6 м.

- 2 Какие внешние световые приборы должны быть включены при въезде в тоннель?



1. Габаритные огни.
2. Аварийная световая сигнализация.
3. Ближний или дальний свет фар.

- 3 В каком месте должен остановиться водитель при запрещающем сигнале светофора?




1. Перед светофором.
2. Перед пересекаемой проезжей частью.
3. Перед стоп-линией.

- 4 Разрешено ли Вам на перекрестке обогнать водителя мотоцикла, у которого включена аварийная сигнализация?



1. Разрешено.
2. Запрещено.


- 5 Нарушил ли водитель правила перевозки грузов?



1. Нарушил, так как выступающий сзади груз не обозначен знаком «Крупногабаритный груз».
2. Не нарушил.

БИЛЕТ 47

6 Должны ли Вы уступить дорогу грузовому автомобилю?



1. Да.
2. Нет.

7 Какое административное взыскание влечет за собой управление транспортным средством водителем, находящимся в состоянии опьянения?

1. Лишение права управления транспортными средствами.
2. Задержание транспортного средства, с отстранением водителя от управления и направлением его на медицинское освидетельствование.
3. Наложение наказания в виде административного штрафа.
4. Указанное в пунктах 1 и 2.
5. Указанное в пунктах 1 и 3.

8 Какими знаками обозначают участки, на которых необходимо уступать дорогу пешеходам?



А



Б



В

1. Только А и Б.
2. Только Б и В.
3. Всеми знаками.

9 Разрешено ли водителю трактора обогнать гужевую повозку?



1. Разрешено.
2. Запрещено.

10 На каком расстоянии до опасного участка устанавливается знак «Железнодорожный переезд без шлагбаума» вне населенного пункта?



1. 150-300 м.
2. 100-150 м.
3. 50-100 м.

БИЛЕТ 47

11 Разрешено ли Вам поставить самоходную машину на стоянку за путепроводом?



1. Разрешено.
2. Запрещено.

12 Этот знак указывает:



1. Вы должны повернуть направо или налево.
2. Выезд на дорогу с реверсивным движением
3. На пересекаемой дороге организовано одностороннее движение.

13 Эта разметка, нанесенная на полосу движения:




1. Разрешает Вам только поворот налево.
2. Разрешает Вам только разворот.
3. Разрешает Вам поворот налево и разворот.

14 Следует ли Вам уступить дорогу автомобилю, выполняющему разворот?



1. Да.
2. Нет.


15 О чем информируют Вас эти дорожные знаки?



1. О приближении к перекрестку, где установлен знак «Уступите дорогу».
2. О приближении к перекрестку, где установлен знак «Движение без остановки запрещено».
3. О приближении к таможне при проезде, которой необходима обязательная остановка.


БИЛЕТ 47

16 Что означает этот знак?



1. Место для разворота.
2. Зона для разворота – 15 м.
3. Зона, в которой разворот запрещен.

17 В каком месте Вы должны остановиться?



1. У знака «Движение без остановки запрещено».
2. За 5 м до ближайшего рельса.
3. За 10 м до ближайшего рельса.

18 По требованию каких лиц водители должны проходить освидетельствование на состояние алкогольного опьянения и медицинское освидетельствование на состояние опьянения?

1. Сотрудников Гостехнадзора.
2. Любых сотрудников полиции.
3. Должностных лиц, уполномоченных на осуществление федерального государственного надзора в области безопасности дорожного движения.
4. Всех регулировщиков.

19 Должен ли водитель самоходной машины при повороте налево уступить дорогу мотоциклу?



1. Должен.
2. Не должен.


20 Разрешено ли водителю трактора с включенным проблесковым маячком оранжевого цвета совершить маневр в техническом разрыве разделительной полосы?



1. Разрешено.
2. Запрещено, так как любое движение по автомагистрали тракторам запрещено.
3. Разрешено при выполнении работ по строительству, ремонту или содержанию дорог при условии обеспечения безопасности дорожного движения.

БИЛЕТ 48

1 Какой из знаков предоставляет водителю преимущество по отношению к водителям, движущимся по пересекаемой дороге?



1. А.
2. В.
3. С.
4. D.
5. А и В.

2 Разрешен ли обгон трактора в данном месте?



1. Разрешен.
2. Запрещен.

3 Разрешено ли водителю трактора объехать стоящий перед железнодорожным переездом легковой автомобиль?



1. Разрешено.
2. Запрещено.

4 С какой полосы Вы должны совершить поворот налево?



1. С крайней правой.
2. Со средней.
3. С любой.


5 В каких направлениях разрешено продолжить движение?



1. Только А.
2. Только Б.
3. Только В.
4. Во всех направлениях.


БИЛЕТ 48

6 Где Вы должны остановиться в данной ситуации при отсутствии других транспортных средств?



1. Остановиться у знака.
2. Остановиться у стоп-линии.
3. Проехать перекресток без остановки.

7 По какой траектории водителю трактора следует повернуть направо в данной ситуации?



1. А.
2. В.
3. По любой.

8 Что обозначают прерывистые линии на перекрестке?



1. Обязательное направление движения на перекрестке.
2. Границы полос движения в пределах перекрестка.

9 Два попеременно мигающих красных сигнала светофора:



1. Разрешают движение.
2. Запрещают движение.
3. Разрешают движение с особой осторожностью.

10 Что означает термин «Ограниченная видимость»?


1. Видимость дороги, ограниченная рельефом местности, геометрическими параметрами дороги или другими объектами.
2. Видимость дороги менее 300 м в условиях тумана, дождя, снегопада, а также в сумерки.
3. Видимость дороги менее 150 м в ночное время.

11 Вы намерены проехать перекресток в прямом направлении. Ваши действия?



1. Уступите дорогу легковому автомобилю.
2. Проедете перекресток первым.

12 В каких направлениях разрешено продолжить движение на перекрестке?



1. В любых.
2. А и В.
3. С.
4. В и С.

13 Что запрещено в зоне действия этого знака?



1. Движение со скоростью более 20 км/ч.
2. Движение только механических транспортных средств.
3. Движение любых транспортных средств.

14 Разрешается ли водителям самоходных машин занимать место в организованной транспортной колонне?


1. Разрешается.
2. Разрешается, если колонна состоит из тихоходных транспортных средств.
3. Запрещается.

15 Разрешено ли водителю самоходного шасси обогнать гужевую повозку на перекрестке?



1. Разрешено.
2. Запрещено.

16 Разрешено ли поставить самоходную машину на стоянку в данном месте?




1. Разрешено.
2. Запрещено.
3. Разрешено для самоходных машин, обслуживающих предприятия, находящиеся в обозначенной зоне.

17 Кто проедет перекресток первым?



1. Трактор.
2. Легковой автомобиль.

18 Что означает данный знак?



1. Остановка запрещена.
2. Стоянка запрещена.
3. Стоянка запрещена по четным числам месяца.
4. Стоянка запрещена по нечетным числам месяца.

19 Разрешено ли водителю самовольно открывать шлагбаум?




1. Разрешено.
2. Запрещено.
3. По усмотрению водителя, убедившись в отсутствии приближающегося поезда.

20 Разрешено ли водителю самоходной машины остановиться в данном месте?



1. Разрешено.
2. Запрещено.

1 Требования каких знаков вступают в силу с места, где они установлены?



1. Только А.
2. Только Б.
3. Только В.
4. А и Б.

2 Какое взыскание влечет за собой пересечение железнодорожного пути вне железнодорожного переезда?

1. Предупреждение.
2. Административный штраф.
3. Лишение права управления транспортными средствами.
4. Одно из указанных взысканий в пунктах 1-3.
5. Одно из взысканий указанных в пунктах 2,3.

3 Что обозначает разметка «А-100», нанесенная на проезжую часть дороги?




1. Расстояние до ближайшего перекрестка.
2. Расстояние до ближайшего населенного пункта.
3. Номер дороги.

4 При остановке на неосвещенных участках дорог в темное время суток необходимо:


1. Включить габаритные огни.
2. Включить фары ближнего света.
3. Выставить знак аварийной остановки.

5 Кто из водителей нарушил правила стоянки?



1. Водитель автомобиля.
2. Водитель трактора.
3. Никто не нарушил.

6 Что обозначает данная вертикальная разметка?




1. Элементы дорожных сооружений, когда эти элементы представляют опасность для движущихся транспортных средств.
2. Габаритные размеры элементов дорожных сооружений.

7 Обязан ли водитель трактора уступить дорогу грузовому автомобилю при его перестроении?



1. Обязан.
2. Не обязан.

8 При затрудненном движении разрешено ли водителю трактора выехать на полосу встречного движения?



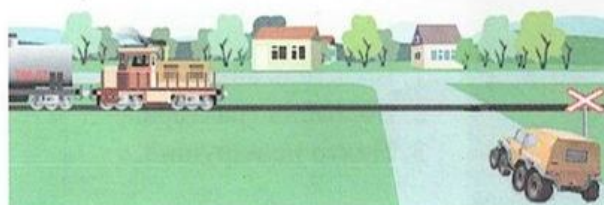
1. Разрешено.
2. Запрещено.

9 Разрешено ли водителю трактора останавливаться в данном месте?



1. Разрешено.
2. Запрещено.

10 Разрешено ли водителю самоходной машины продолжить движение, если в пределах видимости приближается поезд?



1. Разрешено.
2. Запрещено.

БИЛЕТ 49

- 11 Должны ли Вы остановиться по требованию регулировщика в указанном им месте?




1. Да.
2. Да, но только с заездом на тротуар.
3. Нет.

- 12 Должен ли водитель самоходной машины уступить дорогу автобусу, начинающему движение от остановки вне населенного пункта?



1. Должен.
2. Не должен.

- 13 Как Вы должны действовать в данной ситуации?



1. Проехать железнодорожный переезд без остановки перед знаком.
2. Остановиться перед знаком и продолжить движение сразу после проезда поезда.
3. Остановиться перед знаком и продолжить движение, только убедившись в отсутствии приближающегося поезда.

- 14 Позволяет ли Вам данная разметка выполнить обгон трактора?



1. Да.
2. Да, при скорости трактора менее 30 км/ч.
3. Нет.

- 15 О чем информирует Вас сигнал светофора в виде стрелки красного цвета?



1. На этом перекрестке всегда запрещен поворот направо.
2. Поворот направо разрешен, но необходимо уступить дорогу пешеходам.
3. При включении зеленого сигнала светофора движение будет разрешено только направо.

БИЛЕТ 49

16 Какие знаки запрещают движение тракторов и самоходных машин?



A



B



C



D


1. А и В.
2. В и С.
3. С и D.
4. Все, кроме D.
5. Только С.

17 Разрешен ли разворот на участках дорог, обозначенных этим знаком?



1. Разворот разрешен только в населенных пунктах.
2. Разворот разрешен только при видимости дороги более 100 м.
3. Разворот запрещен.

18 Разрешено ли движение задним ходом на мосту?



1. Разрешено.
2. Запрещено.
3. По усмотрению водителя.

19 Разрешен ли Вам обгон в данной ситуации?



1. Да.
2. Да, если обгон будет завершен до перекрестка.
3. Нет.

20 При обработке раны йодом необходимо:

1. Капнуть йод на рану.
2. Смазать всю рану.
3. Смазать края раны и кожу вокруг нее.

1 В каком месте Вы должны остановиться перед перекрестком?



1. Перед знаком.
2. Перед краем пересекаемой проезжей части.

2 В каких случаях водителю разрешено выезжать на среднюю полосу движения?



1. При обгоне.
2. При объезде.
3. Для поворота налево или разворота.
4. Во всех перечисленных случаях.

3 Разрешено ли транспортному средству в данном месте выехать на поле?



1. Разрешено при отсутствии приближающегося поезда.
2. Запрещено.

4 Разрешено ли водителю самоходной машины остановиться на краю тротуара, граничащего с проезжей частью?



1. Разрешено.
2. Запрещено.
3. Разрешено, если не будет создано помех движению пешеходов.


5 Разрешено ли буксировать трактор с недействующей тормозной системой, если его масса превышает половину массы Вашего транспортного средства?



1. Разрешено.
2. Разрешено на жесткой сцепке при скорости не более 30 км/ч.
3. Запрещено.


БИЛЕТ 50

6 При движении прямо Вы обязаны уступить дорогу:




1. Легковому автомобилю.
2. Гужевой повозке.
3. Всем транспортным средствам.

7 По какой траектории водитель может совершить поворот направо?



1. А.
2. В.
3. По любой.

8 Как Вы должны поступить в данном случае?




1. Продолжить движение, посигналив пешеходам.
2. Уступить дорогу пешеходам.

9 Разрешено ли Вам обогнать трактор?



1. Разрешено.
2. Запрещено.

10 Разрешено ли водителю транспортного средства останавливаться перед знаком?




1. Разрешено.
2. Запрещено.
3. Разрешено при условии, что оно не закроет знак от других водителей.

БИЛЕТ 50

11 Какими знаками Вы должны руководствоваться, если значения временных и стационарных дорожных знаков противоречат друг другу?

1. Значениями временных знаков.
2. Значениями стационарных знаков.

12 Кто из водителей должен уступить дорогу пешеходам?



1. Только водитель самоходной машины.
2. Только водитель грузового автомобиля.
3. Оба водителя.

13 По какой полосе разрешено продолжить движение водителю самоходной машины вне населенного пункта?



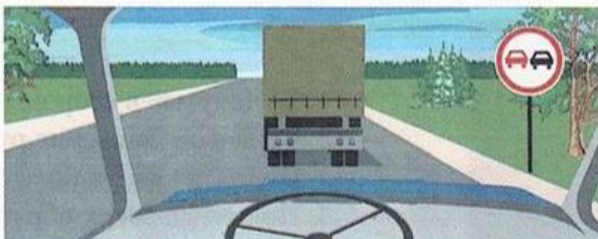
1. По любой.
2. По крайней правой.

14 Что обозначает широкая прерывистая линия разметки?



1. Границу между полосой торможения и основной полосой проезжей части.
2. Разделяет полосы на проезжей части.
3. Обозначает полосы движения в пределах перекрестка.


15 Разрешен ли в данной ситуации обгон?



1. Запрещен.
2. Разрешен, если скорость грузового автомобиля менее 30 км/ч.
3. Разрешен.

БИЛЕТ 50

- 16 Должен ли водитель трактора уступить дорогу трамваю, приближающемуся слева?




1. Должен.
2. Не должен.

- 17 Что означает желтый мигающий сигнал светофора?



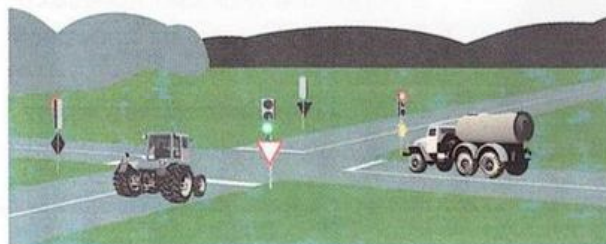
1. Перекресток считается нерегулируемым.
2. Скоро включится красный сигнал светофора.
3. Скоро включится зеленый сигнал светофора.

- 18 Водитель какого транспортного средства должен проехать первым?



1. Водитель трактора.
2. Водитель грузового автомобиля.

- 19 Какое транспортное средство первым проедет перекресток?



1. Автомобиль.
2. Самоходная машина.

- 20 Сигналом остановки для машиниста поезда служат:



1. Вытянутые в стороны руки.
2. Круговое движение рукой.
3. Поднятая вверх правая рука.
4. Поднятые вверх обе руки.

7 0 0

Номер булгера	Номера вопросов																			
	1	2	3	4	5	6	7	8	9	10	11	12	13	14	15	16	17	18	19	20
1	1	2	2	3	2	1	1	2	1	1	2	4	1	2	2	1	1	2	2	1
2	4	2	1	1	3	2	1	4	1	1	4	3	3	2	1	2	3	1	2	1
3	4	2	3	2	1	2	1	4	1	1	2	3	3	2	3	3	2	1	1	1
4	2	1	2	1	3	2	2	2	2	1	1	2	3	1	3	1	2	1	2	3
5	3	2	3	2	3	1	3	3	2	1	2	2	2	2	1	2	4	3	1	3
6	2	3	2	2	1	3	2	2	1	2	2	4	2	2	3	2	1	3	2	2
7	2	2	2	2	3	4	2	3	4	1	1	2	2	2	1	2	1	1	2	1
8	2	2	2	2	2	1	2	3	2	3	2	5	2	3	2	2	3	3	2	2
9	2	2	3	2	2	1	3	1	1	3	2	3	5	1	1	3	2	2	3	3
10	3	2	4	3	3	3	2	4	4	2	2	2	2	2	3	2	2	2	1	1
11	1	3	1	3	1	1	5	1	1	2	1	2	3	3	1	2	1	1	1	3
12	2	2	2	2	1	2	2	2	2	2	2	1	1	2	2	1	2	2	2	1
13	2	2	2	2	2	2	3	2	3	1	3	2	1	2	2	1	2	1	1	3
14	2	2	3	1	2	4	1	1	2	4	1	3	2	2	1	2	2	3	3	2
15	4	3	3	3	2	1	2	1	1	3	4	3	2	3	1	1	3	2	2	2
16	2	3	3	1	1	1	3	4	2	1	1	2	1	2	2	2	2	3	1	1
17	2	2	1	1	5	4	3	2	3	2	3	5	1	2	1	3	4	2	3	1
18	1	2	1	3	2	4	2	1	1	3	4	3	3	2	1	3	1	2	1	3
19	3	2	3	2	3	2	5	4	1	1	2	2	2	3	2	2	2	2	2	2
20	2	2	3	2	2	3	3	2	3	3	1	3	1	3	1	2	2	2	2	2
21	2	2	2	2	2	2	3	2	3	2	4	3	3	3	2	3	3	1	1	3
22	2	2	1	1	5	2	1	2	1	1	2	1	1	1	2	1	1	4	2	1
23	2	2	2	2	1	1	2	3	2	1	3	2	2	1	2	4	2	3	1	1
24	1	2	3	2	3	1	2	1	3	3	3	2	1	3	2	1	5	2	1	2
25	2	2	4	2	2	2	3	2	3	3	4	1	2	2	4	4	2	3	1	3

Таблица правильных ответов

1700

Номер билета	Номера вопросов																			
	1	2	3	4	5	6	7	8	9	10	11	12	13	14	15	16	17	18	19	20
26	1	3	4	2	1	3	3	2	2	2	2	2	1	2	2	4	3	2	2	2
27	2	3	3	2	3	1	2	3	1	2	2	2	2	2	1	2	4	2	2	3
28	1	2	2	2	1	5	1	2	3	2	2	3	5	1	1	2	2	2	2	3
29	1	2	3	1	1	4	1	2	2	2	3	2	1	2	2	1	2	2	1	1
30	4	3	2	3	1	1	2	1	3	2	3	5	1	2	1	1	1	2	2	2
31	2	3	1	2	1	3	2	1	1	1	2	2	1	2	3	2	4	1	1	3
32	2	2	3	2	2	2	1	2	2	3	2	2	2	2	2	3	2	2	3	1
33	2	2	2	1	1	2	1	1	4	1	2	2	3	2	1	1	2	1	1	3
34	2	2	3	3	2	1	3	2	2	2	2	2	3	1	2	3	4	2	3	1
35	1	2	2	1	2	4	2	2	3	3	2	2	3	2	2	2	2	2	2	2
36	2	2	1	1	5	2	2	2	1	1	1	2	3	2	2	2	2	4	2	2
37	1	3	4	2	1	2	3	2	3	3	1	4	2	1	1	1	2	3	3	1
38	4	3	2	3	1	2	3	1	2	1	2	3	3	2	2	2	2	2	1	1
39	2	2	3	3	2	4	2	1	3	4	3	3	1	4	1	3	2	4	3	3
40	2	2	3	1	2	1	1	2	1	1	3	3	3	2	1	1	3	2	1	3
41	2	3	2	3	1	1	3	2	2	2	1	2	3	1	3	2	1	2	3	2
42	2	1	1	2	2	1	2	1	3	4	3	2	1	1	1	2	1	1	2	3
43	2	1	1	1	2	1	3	2	2	2	1	2	3	2	2	2	2	2	2	3
44	1	3	1	3	1	4	3	3	3	2	2	4	2	1	1	3	2	2	1	2
45	3	2	1	4	2	4	1	2	2	2	2	2	1	2	2	2	2	2	2	1
46	2	3	5	1	1	3	2	2	2	2	3	2	1	1	1	1	2	1	5	1
47	2	3	3	2	2	1	5	2	2	1	2	3	3	1	2	2	1	3	1	3
48	5	2	2	2	2	2	2	2	2	1	2	2	2	3	1	2	1	4	2	1
49	4	5	3	1	1	1	2	2	1	2	1	2	3	1	3	4	3	2	2	3
50	2	4	2	2	3	2	2	1	3	3	1	2	2	1	1	1	1	2	2	2

Таблица правильных ответов

Таблица правильных ответов

Номер билета	Номера вопросов																			
	1	2	3	4	5	6	7	8	9	10	11	12	13	14	15	16	17	18	19	20
26	1	3	4	2	1	3	3	2	2	2	2	2	1	2	2	4	3	2	2	1
27	2	3	3	2	3	1	2	3	1	2	2	2	2	2	1	2	4	2	2	3
28	1	2	2	2	1	5	1	2	3	2	2	3	5	1	1	2	2	2	2	3
29	1	2	3	1	1	4	1	1	2	2	3	2	1	2	2	1	2	2	1	1
30	4	3	2	3	1	1	2	1	3	2	3	5	1	2	1	1	1	2	2	2
31	2	3	1	2	1	3	2	1	1	1	1	2	1	2	3	2	4	1	1	3
32	2	2	3	2	2	2	1	1	2	3	2	3	2	2	2	3	2	2	3	1
33	2	2	2	1	1	2	1	1	1	4	1	2	3	2	1	1	2	1	1	3
34	2	2	3	3	2	1	3	3	2	2	2	2	3	1	2	3	4	2	3	1
35	1	2	2	1	2	4	2	3	2	3	2	2	3	2	2	2	2	2	2	2
36	2	2	1	1	5	2	2	2	2	1	1	2	3	2	3	2	2	4	2	2
37	1	3	4	2	1	2	3	3	2	3	1	4	2	2	1	1	2	3	3	1
38	4	3	2	3	1	2	3	1	2	1	2	2	3	2	2	2	2	2	1	1
39	2	2	3	3	2	4	2	1	1	3	4	3	1	4	1	3	2	4	3	3
40	2	2	3	1	2	1	1	2	1	1	1	3	3	2	1	1	3	2	1	3
41	2	3	2	3	1	1	3	2	2	2	1	2	3	1	3	2	1	2	3	2
42	2	1	1	2	2	1	2	1	3	4	3	2	1	1	1	2	1	1	2	3
43	2	1	1	1	2	1	3	3	2	2	1	2	3	2	1	2	2	2	2	3
44	1	3	1	3	1	4	3	3	3	2	2	4	2	1	1	3	2	2	1	2
45	3	2	1	4	2	4	1	1	2	2	2	2	1	2	2	2	2	2	2	1
46	2	3	5	1	1	3	2	1	2	2	3	2	1	2	1	1	2	1	5	1
47	2	3	3	2	2	1	5	2	2	1	2	2	3	1	2	2	1	3	1	3
48	5	2	2	2	2	2	2	2	2	1	2	3	2	3	1	2	1	4	2	1
49	4	5	3	1	1	1	2	2	1	2	1	2	3	1	3	4	3	2	2	3
50	2	4	2	2	3	2	2	2	1	3	1	3	2	1	1	1	1	2	2	2

Таблица правильных ответов

Номер билета	Номера вопросов																			
	1	2	3	4	5	6	7	8	9	10	11	12	13	14	15	16	17	18	19	20
1	1	2	2	3	2	1	1	2	1	1	2	4	1	2	2	1	1	2	2	1
2	4	2	1	1	3	2	1	4	1	1	4	3	3	2	1	2	3	1	2	1
3	4	2	3	2	1	2	1	4	1	1	2	3	3	2	3	3	2	1	1	1
4	2	1	2	1	3	2	2	2	2	1	1	2	3	1	3	1	2	1	2	3
5	3	2	3	2	3	1	3	3	2	1	2	2	2	2	1	2	4	3	1	3
6	2	3	2	5	1	3	2	2	1	2	2	4	2	2	3	2	1	3	2	2
7	2	2	2	2	3	4	2	2	4	1	1	2	2	2	1	2	1	1	2	1
8	2	2	2	2	2	1	2	3	2	3	2	5	2	3	2	2	3	3	2	2
9	2	2	3	2	2	1	3	2	1	3	2	3	5	1	1	3	2	2	3	3
10	3	2	4	3	3	3	2	1	4	2	2	2	2	2	3	2	2	2	1	1
11	1	3	1	3	1	1	5	3	1	2	1	2	3	3	1	2	1	1	1	3
12	2	2	2	2	1	2	2	2	2	2	2	1	1	2	2	1	2	2	2	1
13	2	2	2	2	2	2	3	2	3	1	3	2	1	2	2	1	2	1	1	3
14	2	2	3	1	2	4	1	1	2	4	1	3	2	2	1	2	2	3	3	2
15	4	3	3	3	2	1	2	1	1	3	4	3	2	3	1	1	3	2	2	2
16	2	3	3	1	1	1	3	4	2	1	1	2	1	3	2	2	2	3	1	1
17	2	2	1	1	5	4	3	2	3	2	3	5	1	2	1	3	4	2	3	1
18	1	2	1	3	2	4	2	1	1	3	4	2	3	2	1	3	1	2	1	3
19	3	2	3	2	3	2	3	5	4	1	2	2	2	2	3	2	2	2	2	2
20	2	2	3	2	2	3	2	3	2	3	1	3	1	3	1	2	2	2	2	2
21	2	2	2	2	2	2	2	2	3	2	4	3	3	3	2	2	3	1	1	3
22	2	2	1	1	5	2	1	2	1	1	2	1	1	1	1	2	1	4	2	1
23	2	2	2	2	1	1	2	3	2	1	3	2	2	1	2	4	2	3	1	1
24	1	2	3	2	3	1	2	2	1	3	3	2	1	3	2	1	5	2	1	2
25	2	2	4	2	2	2	3	2	3	3	4	1	1	2	4	4	2	3	1	3